



SUMMATIVE ASSESSMENT - I - 2023 - 2024

SOCIAL STUDIES

(English & Telugu Medium)

PART - A & B

Class : VII]

(Max. Marks : 80)

[Time : 2.45 Mnts.

Instructions :

విద్యార్థులకు సూచనలు :

1. Question paper contains 2 parts (Part A & B).

ప్రశ్నా పత్రంలో (భాగం - A, B) రెండు విభాగాలుంటాయి.

2. Part - A & B should be given at the beginning of the exam only.

పరీక్ష ప్రారంభంలోనే భాగం - A తో పాటు భాగం - B పేపరు కూడా ఇవ్వవలెను.

3. 15 minutes are allotted for reading. The question paper (Part A & B) in addition to 2.30 hours for writing the answers.

ప్రశ్నాపత్రము (భాగం - A, B) చదువుకోవడానికి 15 ని.లు, జవాబులు రాయడానికి 2.30 ని॥ సమయం ఉంటుంది.

4. Part-A answers should be written in a separate answer book.

Write the answers to the questions under Part-B on the question paper it.self.

భాగం - A లోని ప్రశ్నలకు సమాధానాలు సమాధాన పత్రంలోనే రాయాలి.

భాగం - B లోని ప్రశ్నలకు సమాధానాలు కూడా సమాధాన పత్రంలోనే రాయాలి.

5. There are three Sections in Part - A.

భాగం - A లో మూడు విభాగాలు ఉంటాయి.

6. Answer all the questions.

అన్ని ప్రశ్నలకు సమాధానం రాయాలి.

7. Every answer should be visible and legible.

సమాధానం స్పష్టంగా, అర్థం అయ్యేలా రాయాలి.

8. There is an internal choice in Section - III.

విభాగం - III లో మాత్రమే అంతర్గత ఎంపిక ఉంటుంది.

Marks : 60]

PART - A

[Time : 2 hours.

SECTION - I

Note : 1) Answer all the questions.

అన్ని ప్రశ్నలకు సమాధానాలు రాయాలి.

2) Each question carries 2 Marks.

ప్రతి ప్రశ్నకు 2 మార్కులు.

4 x 2 = 8

1. Trees in deciduous forests shed their leaves. When and why?

ఆకురాల్చు అడవులలో చెట్లు ఏ కాలంలో మరియు ఎందుకు ఆకులను రాలుస్తాయి?

[Turn Over

V - 12

2

2. Who were Nayankaras?

నాయంకరులు ఎవరు?

3. Write two slogans on the protection of environment.

పర్యావరణ పరిరక్షణ ఆవశ్యకతను సూచిస్తూ ఏవైనా రెండు నినాదాలను రాయండి.

4. Arrange the following dynasties of Vijayanagara kingdom in their chronological order.

క్రింది విజయనగర సామ్రాజ్య వంశాలను కాలనుక్రమములో అమర్చండి.

Tuluva Dynasty	Aravidu Dynasty	Saluva Dynasty	Sangama Dynasty
తుళువ వంశం	ఆరవిడు వంశం	సాళువ వంశం	సంగమ వంశం

SECTION - II

5 x 4 = 20

Note : 1) Answer all the questions.

అన్ని ప్రశ్నలకు సమాధానాలు రాయాలి.

2) Each question carries 4 marks.

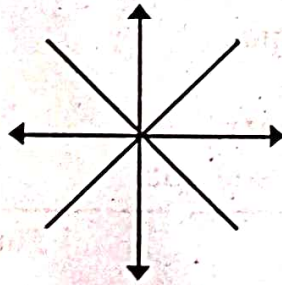
ప్రతి ప్రశ్నకు 4 మార్కులు.

5. Write about the Iqta system?

ఇక్తా పద్ధతిని గూర్చి రాయండి.

6. Name the cardinal and intermediate directions.

దిగువ ఇవ్వబడిన గుర్తులకు అనుగుణంగా దిక్కులను, మూలాలను గుర్తించండి



7. What do you know about the Universe?

విశ్వం గూర్చి మీకు ఏమి తెలుసునో రాయండి

8. List out the resources of the forests used by you in your daily life.

మీ నిత్యజీవితంలో ఉపయోగించే అటవీ వనరుల జాబితా తయారు చేయండి.

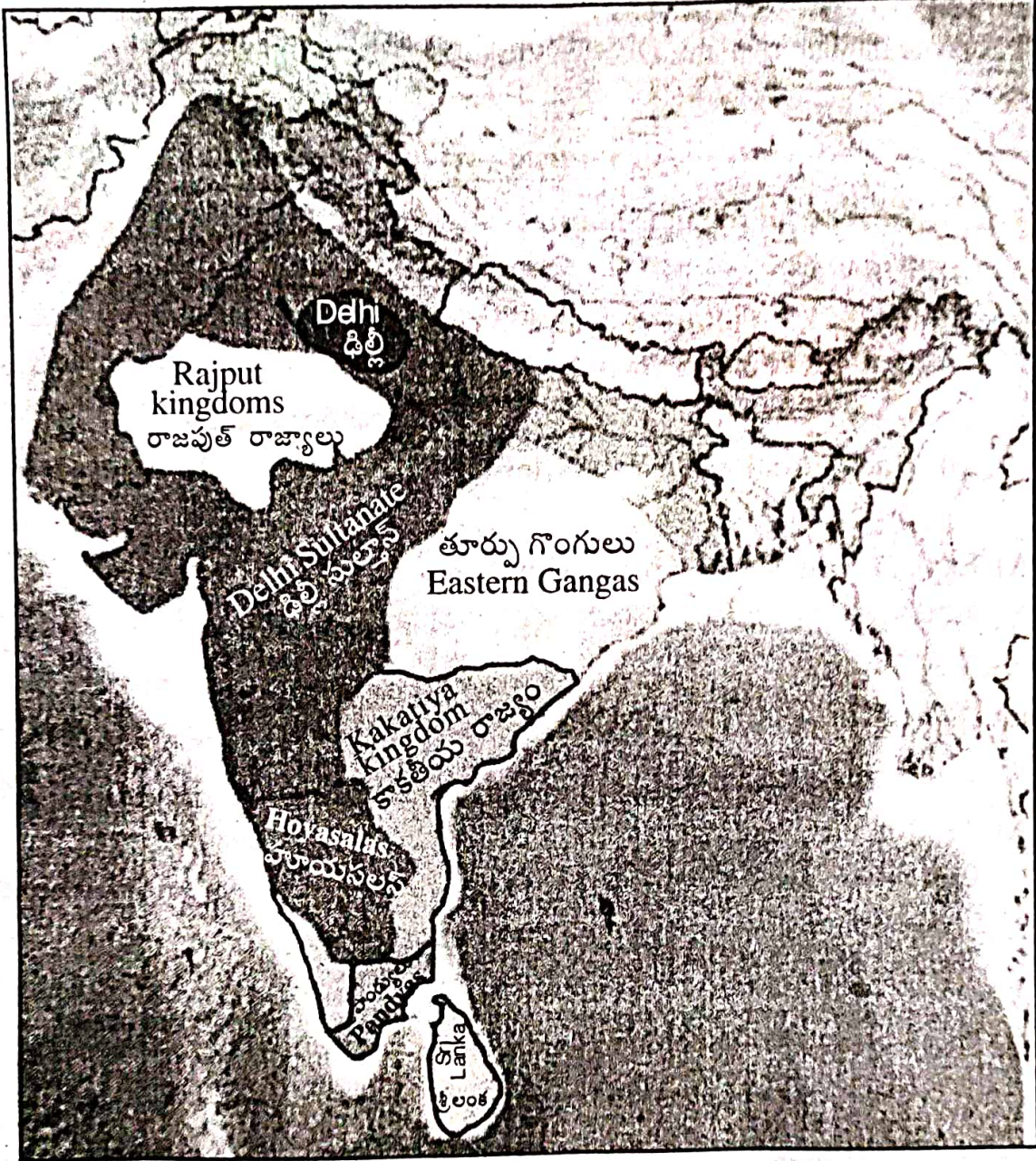
[Contd... 3rd

9. Observe the below map and answer the following questions.

క్రింది పటాన్ని గమనించి ఇవ్వబడిన ప్రశ్నలకు సమాధానాలు రాయండి.

Regional Kingdoms during Medieval Period

మధ్యయుగంలో స్థానిక రాజ్యాలు



i) The map shows the empire and kingdoms of which period?

పై పటం ఏ కాలానికి చెందిన రాజ్యాలను సూచిస్తుంది?



[Turn Over

ii) Write the South Indian kingdoms from the given map.

పటాన్ని అనుసరించి దక్షిణ భారత దేశంలో ఉన్న రాజ్యాలను రాయండి.

iii) According to the given map who ruled Andhra Pradesh?

పటాన్ని గమనించి అప్పటికి ఆంధ్రప్రదేశ్ ప్రాంతము ఎవరి పాలన క్రింద ఉన్నదో రాయండి.

iv) Write the name of any king who ruled Kakatiya kingdom.

కాకతీయ రాజ్యాన్ని పాలించిన ఎవరైనా ఒక పాలకుని పేరు రాయండి.

SECTION - III

4 x 8 = 32

Note : 1) Answer all the questions.

అన్ని ప్రశ్నలకు సమాధానాలు రాయాలి.

2) There is an internal choice in each question.

Write any one of them.

అంతర్గత ఎంపిక ద్వారా ఒక్కొక్క ప్రశ్నకు సమాధానం రాయండి.

3) Each question carries 8 Marks.

ప్రశ్నకు 8 మార్కులు

10. A) Explain "why Shivaji's personality is glorious" ?

శివాజి వ్యక్తిత్వం ఎందుకు మహిమాన్వితమైనదో వివరించండి ?

(Or)

B) Explain different types of maps.

వివిధ రకాల పటాలను గూర్చి వివరించండి.

11. A) "Sri Krishna Devaraya was the greatest ruler of Vijayanagara kingdom". Comment on it.

"విజయనగర సామ్రాజ్యంలో శ్రీకృష్ణదేవరాయలు గొప్ప పాలకుడు". వ్యాఖ్యానించండి.

(Or)

B) "Forests are very important to mankind". Comment on it.

"అడవులు మానవాళికి చాలా ఉపయోగకరం". వ్యాఖ్యానించండి



[Contd... 5th

12. A) Read the following table and answer the questions followed it.

క్రింది పట్టికను పరిశీలించి ఇవ్వబడిన ప్రశ్నలకు సమాధానాలు రాయండి.

Chronology of Delhi Sultanate			
ఢిల్లీ సుల్తానుల కాలక్రమం			
Name of the Dynasty	Founder	Period	Significant Rulers
వంశం పేరు	స్థానికులు	కాలము	ప్రముఖ పాలకులు
1. Slave or Mamluk Dynasty	Qutbuddin Aibak	1206-1290 C.E	Qutbuddin Aybak (1206-1210 C.E) Iltutmish (1211-1236 C.E) Raziya Sultana (1236-1240 C.E) Balban (1266-1287 C.E)
1. బానిసవంశం లేదా మామలూక్	కుతుబుద్దీన్ ఐబక్	క్రీ.శ. 1206-1290	కుతుబుద్దీన్ ఐబక్ (క్రీ.శ.1206-1210) ఇల్తుమ్షి (క్రీ.శ. 1211 - 1236) రజియా సుల్తానా (క్రీ.శ. 1236-1240) బాల్బాన్ (క్రీ.శ. 1266 - 1287)
2. Khilji Dynasty	Jalaluddin Khilji	1290-1320 C.E	Jalaluddin Khilji (1290-1296 C.E) Alauddin Khilji (1296-1316 C.E)
2. ఖిల్జీ వంశం	జలాలుద్దీన్ ఖిల్జీ	క్రీ.శ. 1290-1320	జలాలుద్దీన్ ఖిల్జీ (క్రీ.శ.1290-1296) అల్లావుద్దీన్ ఖిల్జీ (క్రీ.శ. 1296 - 1316)
3. Tughlaq Dynasty	Ghiyasuddin Tughlaq	1321-1414 C.E	Ghiyasuddin Tughlaq (1320-1324 C.E) Muhammad Bin Tughlaq (1324-1351 C.E) Firoz Shah Tughlaq (1351-1388 C.E)
3. తుగ్లక్ వంశం	ఘియాజుద్దీన్ తుగ్లక్	క్రీ.శ. 1321-1414	ఘియాజుద్దీన్ తుగ్లక్ (క్రీ.శ.1320-1324) మహమ్మద్ బీన్ తుగ్లక్ (క్రీ.శ 1324-1351) ఫిరోజ్ షా తుగ్లక్ (క్రీ.శ. 1351-1388)
4. Sayyid Dynasty	Kizar Khan	1414-1451 C.E	Kizar Khann (1414- 1421 C.E)
4. సయ్యద్ వంశం	కిజర్ ఖాన్	క్రీ.శ 1414-1451	కిజర్ ఖాన్ (క్రీ.శ.1414-1421)
5. Lodi Dynasty	Bahlul Lodi	1451-1526 C.E	Bahlul Lodi (1451-1489 C.E) Ibbrahim Lodi (1517-1526 C.E)
5. లోడీ వంశం	బహలుల్ లోడీ	క్రీ.శ. 1451-1526	బహలుల్ లోడీ (క్రీ.శ.1451-1489) ఇబ్రహీం లోడీ (క్రీ.శ. 1517 - 1526)

[Turn Over



- i) What is the ruling period of Delhi sultans?
డిల్లీ సుల్తానులు ఎప్పటి నుండి ఎప్పటి వరకు పరిపాలించారు?
- ii) Name the Dynasty that ruled Delhi for the longest time?
డిల్లీని అత్యధిక కాలం పరిపాలించిన రాజవంశం ఏది?
- iii) Who was the founder of Slave Dynasty?
బానిస వంశాన్ని ఎవరు స్థాపించారు?
- iv) Raziya Sultana belonged to which Dynasty?
రజియా సుల్తానా ఏ వంశానికి చెందినవారు?

(Or)

B) Read the following table and answer the questions followed it.

క్రింది పట్టికను పరిశీలించి ఇవ్వబడిన ప్రశ్నలకు సమాధానాలు రాయండి.

<i>Components of the natural environment</i>			
సహజ పర్యావరణంలో గల అంశాలు			
Lithosphere	Hydrosphere	Atmosphere	Biosphere
శిలావరణము	జలావరణము	వాతావరణము	జీవావరణము
Mountains	Oceans	Troposphere	Humans
పర్వతాలు	మహాసముద్రాలు	ట్రోపోస్ఫియర్	మానవులు
Hills	Seas	Stratosphere	Birds
కొండలు	సముద్రాలు	స్ట్రాటోస్ఫియర్	పక్షులు
Plateaus	Rivers	Mesosphere	Insects
పీఠభూములు	నదులు	మెసోస్ఫియర్	కీటకాలు
Plains	Lakes	Thermosphere	Plants
మైదానాలు	సరస్సులు	థెర్మోస్ఫియర్	మొక్కలు
Valleys	Ponds	Exosphere	Animals
లోయలు	చెరువులు	ఎక్స్‌స్ఫియర్	జంతువులు

- i) All the living organisms come under which domain?
భూమిపై గల జీవజాలమంతా ఏ ఆవరణము క్రిందకు వస్తుంది?

[Contd... 7th



ii) All the landforms come under which domain ?

భూస్వరూపాలన్నీ ఏ ఆవరణములోకి వస్తాయి?

iii) What is the top most layer of the atmosphere?

వాతావరణంలో అన్నింటికంటే పైన ఉన్న పొర ఏమిటి?

iv) Name the domine that consists water.

నీటిని కలిగిఉండే ఆవరణము ఏమిటి?

13. Locate the following places in the given outline map of **India**.

మీకు ఇవ్వబడిన భారతదేశ అవుట్ లైన్ పటంలో క్రిందివానిని గుర్తించండి.

Group - A

i) Andhra Pradesh

ఆంధ్రప్రదేశ్

ii) Uttar Pradesh

ఉత్తరప్రదేశ్

iii) Gujarat

గుజరాత్

iv) Karnataka

కర్ణాటక

(Or)

Group - B

i) Delhi

ఢిల్లీ

ii) Chennai

చెన్నై

iii) Daulathabad

దౌలతాబాద్

iv) Visakhapatnam

విశాఖపట్నం



V - 12 (B)
SUMMATIVE ASSESSMENT - 2023 - 2024
SOCIAL STUDIES
(English & Telugu Medium)



PART - B

Class : VII]

(Marks : 20)

[Time : 30 Min.

Academic Standard	AS 1					AS 2		AS 3			AS 4			AS 5		AS 6		Total	Grade
	32M					8M		12M			8M			12M		8M			
Q.Nos	1	2	5	10	14-29	11	6	12	4	7	30-31	8	13	3	9	32,33	33		
Marks																			

Name of the Student : Roll No. :

Instructions : 1) Each question carries 1 mark.

ప్రతి ప్రశ్నకు 1 మార్కు.

2) Answer all questions.

అన్ని ప్రశ్నలకు సమాధానాలు వ్రాయండి.

20 x 1 = 20

14. The solid part of the earth is []

భూమిపై గల రాతి ప్రదేశం _____

A) Lithosphere

శిలావరణము

B) Hydrosphere

జలావరణము

C) Atmosphere

వాతావరణము

D) Biosphere

జీవావరణము

15. The first capital of Delhi Sultanate was []

ఢిల్లీ సుల్తానుల మొదటి రాజధాని

A) Ahmedabad

అహ్మదాబాద్

B) Lahore

లాహోర్

C) Delhi

ఢిల్లీ

D) Mumbai

ముంబై



[Turn Over

V - 12 (B)

2

16. Find the odd one out []

భిన్నమైనదానిని గుర్తించండి.

- A) USA B) India C) Sri lanka D) Japan
యుఎస్ఎ భారత్ శ్రీలంక జపాన్

17. Motupalli Inscription was laid by []

మోటుపల్లి శాసనాన్ని వేయించినవారు

- A) Rudramadevi B) Rudradeva
రుద్రమదేవి రుద్రదేవ
C) Prataparudra D) Ganapatideva
ప్రతాపరుద్రుడు గణపతిదేవుడు

18. Raw material for paper is []

కాగితం తయారీకి ఉపయోగించే ప్రధాన ముడిసరుకు

- A) Plastic B) Wood C) Cotton D) Wool
ప్లాస్టిక్ కర్ర పత్తి ఊలు

19. Read the following statements and choose the correct answer. []

క్రింది వాక్యాలను చదివి సరైన సమాధానాన్ని గుర్తించండి.

1) Sun is one of the stars in the milky way Galaxy

1) పాలపుంత నక్షత్ర మండలంలో సూర్యుడు ఒక నక్షత్రము

2) Earth is one of the planets in the solar system.

2) సౌర వ్యవస్థలో గల గ్రహాలలో భూమి ఒక గ్రహము.

A) 1 is correct B) 2 is correct

1 సరైనది 2 సరైనది

C) 1&2 are correct D) 1&2 are wrong

1 & 2 సరైనవి 1 & 2 సరైనవి కావు



[Contd... 3rd

V - 12 (B)

3

20. This is the loss due to the natural disaster []

ప్రకృతి విపత్తుల వలన జరిగే నష్టం

A) Loss of life

B) Property damage

ప్రాణనష్టం

ఆస్తి నష్టం

C) Environmental damage

D) All

పర్యావరణ హాని

అన్నీ

21. High temperature and heavy precipitation region on earth is []

భూమిపై అధిక ఉష్ణోగ్రత మరియు అధిక వర్షపాతం సంభవించే ప్రాంతం

A) Desert region

B) Tropical climate region

ఎడారి ప్రాంతం

ఉష్ణ మండల ప్రాంతం

C) Tundra region

D) Taiga region

టండ్రా ప్రాంతం

టైగా ప్రాంతం

22. The book Madhura Vijayam was written by []

'మధురా విజయము' పుస్తక రచయిత

A) Gangadevi

B) Tirumalamba

గంగాదేవి

తిరుమలాంబ

C) Hanumayamma

D) Nagalamba

హనుమాయమ్మ

నాగలాంబ

23. Scale, Directions and Symbols are three major _____

of a map. []

స్కేలు, దిక్కులు, గుర్తులు అనేవి మూడు ప్రధాన _____

A) Ways

B) Types

C) Stages

D) Components

మార్గాలు

రకాలు

స్థితులు

అంశాలు

24. Tribes who lives in Nallamala Forest is []

నల్లమల అడవులలో నివసించే గిరిజన జాతి

A) Chenchu

B) Gond

C) Yanadi

D) Savara

చెంచు

గోండు

యానాది

సవర

[Turn Over



V - 12 (B)

4

25. Which of the following is a cause of deforestation []

క్రిందివానిలో అడవుల నిర్మూలనకు కారణమయ్యే అంశము

A) Urbanization B) Mining C) Forest fires D) All

పట్టణీకరణ గనుల త్రవ్వకం కాల్చిచ్చులు అన్నీ

26. The planets which do not have satellites are []

ఉపగ్రహాలు లేని గ్రహాలు

A) Earth & Venus B) Saturn & Uranus

భూమి & శుక్రుడు శని & యురేనస్

C) Mercury & Venus D) Uranus & Neptune

బుధుడు & శుక్రుడు యురేనస్ & నేప్ట్యూన్

27. Allauddin Khilji was connected with []

క్రిందివానిలో అల్లాఉద్దీన్ ఖిల్జీకి సంబంధించిన అంశము

A) Branding of horses B) Changing of capital

గుర్రాలకు ముద్రలు వేయుట రాజధాని మార్పు

C) Founder of Khilji dynasty D) All

ఖిల్జీ వంశ స్థాపన అన్నీ

28. Kakatiyas worshipped the Mother Goddess []

కాకతీయులు కొలిచిన స్త్రీ దేవత

A) Ammatalli B) Kakati C) Maisamma D) Peddamma

అమ్మతల్లి కాకతి మైసమ్మ పెద్దమ్మ



[Contd... 5th

V - 12 (B)

5

29. About 2/3rd of the earth's surface is covered by []

భూమి ఉపరితలంపై 2/3 వ వంతు _____ చే ఆవరించబడి ఉన్నది.

A) Lithosphere

B) Biosphere

శిలావరణము

జీవావరణము

C) Atmosphere


D) Hydrosphere

వాతావరణము

జలావరణము

30. Identify the picture shown below. It tells us about []

కింద చిత్రము తెలియజేసే అంశము



A) Bigbang

B) Galaxy

బిగ్ బాంగ్


నక్షత్ర మండలం

C) Interior of the earth

D) Rocket

భూ అంతర్గత నిర్మాణము

రాకెట్

31.  Identify the conventional symbol []

పక్క సంప్రదాయ చిహ్నాన్ని గుర్తించండి

A) Graves

B) Mountain range

C) River

D) Tank

సమాధులు

పర్వత శ్రేణి

నది

చెరువు

[Turn Over

V - 12 (B)

6

32. Identify mismatched pair

సరితేని జతను గుర్తించండి

A) Madhya Pradesh – Bhopal

మధ్యప్రదేశ్ - భోపాల్

B) Rajasthan - Jaipur

రాజస్థాన్ - జైపూర్

C) Kerala – Tiruvananthapuram

కేరళ - తిరువనంతపురం

D) Bihar – Raipur

బీహార్ - రాయ్పూర్



33. The capital city of Pandya's was

పాండ్యుల రాజధాని

A) Madurai

మదురై

B) Dwarasamudra

ద్వారసముద్రం

C) Devagiri

దేవగిరి

D) Orugallu

ఓరుగల్లు