

Class : X]

[Time : 45 Mnts.

Name of the student : Roll No. :

I. Choose the correct answer and write it.

5 x 1 = 5

1. GDP is the total of _____ produced during a particular year []
 A) All goods and services B) All final goods and services
 C) All intermediate goods and services
 D) All intermediate and final goods
2. The South West Monsoon does not give rainfall to this area []
 A) Malabar Coast B) Coramandal Coast
 C) Canara Coast D) Circar Coast
3. Tsar Nicholas-II abidicated his throne during Russian Revolution. This is known as _____ []
 A) October revolution B) March revolution
 C) June Revolution D)None of these
4. "Fisherman" belongs to the sector of _____
 A) Primary B) Territory C) Secondary D) Organised
5. The leader of Bolsheviks in Russian Revolution was _____ []
 A) Stalin B) Tsar Alexandar
 C) Lenin D) Nicholas-II

II. Fill in the blanks with suitable words.

5 x 1 = 5

6. The Pre-monsoon showers in Andhra Pradesh are known as _____
7. Expand A .G.W _____
8. The monsoon which gives highest rainfall to several parts of India is _____
9. New Deal Policy was announced by _____ to deal with great Economic Depression in the United States of America.
10. The Second World War ended with the surrender of _____ Asian nation.

III. Answer the following questions.

3 x 2 = 6

11. Write any four changes in Russia after Russian Revolution.
12. Suggest measures to minimize the influence of global warming.
13. Distinguish between organized and unorganised sector.

IV. Answer the following question.

1 x 4 = 4

14. What were the major political changes brought under Nazi Rule ? Were they possible in the present Democratic countries ?

FORMATIVE ASSESSMENT - II - 2021 - 22

SOCIAL STUDIES

(English Medium)

(Max. Marks : 20)

20

Class : IX]

[Time : 45 Mnts.

Name of the Student Roll No :

I. Choose the correct answer and write it in the bracket. 5 x 1 = 5

1. Lake van is in _____ []
a) Turkey b) Israel c) USA d) India
2. _____ is a cyclic resource []
a) Coal b) Air c) Water d) All of these
3. Which ocean separates Asia and Oceania []
a) The Pacific b) The Atlantic c) The Indian d) The Arctic
4. The famous picture "Monalisa" was painted by []
a) Leonardo-davinci b) Thomas more
c) Eramous d) Jacob
5. Early modern period in Europe history is []
a) 400 A.D. to 1300 A.D. b) 1300 B.C. to 1800 B.C.
c) 1300 A.D. to 1800 A.D. d) Upto 400 A.D.

II. Fill in the blanks with correct answer. 5 x 1 = 5

6. Dead sea is in _____ country.
7. River water contains _____% of sodium chloride.
8. Leonardo-Davinci signed his name as _____
9. Niccolo Machiave!li wrote a book called _____
10. _____% of water is saline ocean water on the earth.

III. Answer the following questions in two or three sentences. 3 x 2 = 6

11. What are Oceans ? Name them.
12. How many stages are there in water cycle ?
13. What is 'Panthalsa' ?

IV. Answer the following question. 1 x 4 = 4

14. How is human life depends on Oceans ?

FORMATIVE ASSESSMENT - II - 2021 - 22

SOCIAL STUDIES

(English Medium)

Class : VIII (Max. Marks : 20)

20

[Time : 45 Mnts.

Full
20/2

Name of the Student : Roll No :

I. Choose the correct answers .

5 x 1 = 5

1. What is the sun's angle of incidence at the equator
a) 90° b) 100° c) 200° d) 75° []
2. The temperatures when moving to high altitudes
a) No change b) Decrease c) Increase d) None []
3. The gas that objects the radiation of the earth
a) O_2 b) Organ c) CO_2 d) All the above []
4. The Indian National Congress was formed in
a) 1875 b) 1865 c) 1890 d) 1885 []
5. The "Krishna Pathrika" was started in Machilipatnam
in 1902 by []
a) Raghupathi Venkata Ratnam Naidu
b) Mutnuri Krishna Rao
c) Kandukuri Veeresalingam
d) Sarojini Naidu

II. Fill in the blanks.

5 x 1 = 5

6. _____ is the first woman graduate from Calcutta.
7. "Swaraj is my birth right and I shall have it" -
This slogan was given by _____
8. The governor general who partitioned Bengal was _____
9. The angle of the sun rays reaching the surface of the earth is called _____
10. The region around the poles is _____

III. Answer the following questions in two or three sentences.

3 x 2 = 6


11. Write about Vandemataram Movement.
12. What is solar radiation ?
13. What is "Global warming" and what gases cause the global warming ?

IV. Answer the following question in three or four sentences.

1 x 4 = 4

14. How did English education helped Indians ?

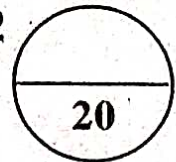
FORMATIVE ASSESSMENT - II - 2021 - 22



SOCIAL STUDIES

(English Medium)

(Max. Marks : 20)



Full
20/22

Class : VII]

[Time : 45 Mnts.

Name of the Student : Roll No :

I. Choose the correct answers .

5 x 1 = 5

- Vascodagama discovered sea route to India in _____ []
a) 1488 A.D b) 1498 A.D c) 1499 A.D d) 1500 A.D
- Identify the odd one regarding the location of rivers []
a) Krishna b) Godavari c) Penna d) Brahmaputra
- A person who draw maps is called a _____ []
a) Cartographer b) Historian
c) Archaeologist d) Anthropologist
- Motupalli inscription was issued by _____ []
a) Rudrama Devi b) Rudra Deva
c) Ganapathi Deva d) Maha Deva
- The thousand pillar temple was built by _____ []
a) Pratapa Rudra b) Prolla - II
c) Rudra Deva d) Rudrama Devi

II. Fill in the blanks.

5 x 1 = 5

- India is the _____ largest country in the world in terms of area.
- _____ colour represents the forest in a map.
- _____ was the first person who voyaged across the globe.
- Rudrama Devi came to the throne in _____ year.
- _____ an Italian traveller who visited the court of Rudrama Devi

III. Answer the following questions in one or two sentences.

3 x 2 = 6

- Name the states through which the tropic of cancer passes in India.
- What is grid and how does it help us ?
- Name the important regional kingdoms emerged during medieval period in South India.

IV. Answer the following question in four or five sentences.

1 x 4 = 4

- Explain about the Kakatiya's administration.

FORMATIVE ASSESSMENT - II - 2021 - 22

SOCIAL STUDIES

(English Medium)

(Max. Marks : 20)

20

Class : VI]

[Time : 45 Min.

Name of the Student : Roll No :

I. Choose the correct answer.

5 x 1 = 5

1. The movement of the earth around the Sun is known as []
A) Rotation B) Revolution C) Inclination D) Perihelion
2. A scale is a necessary component for []
A) Map B) Sketch C) Plan D) Picture
3. A compass is used []
A) To show symbols B) To find the main direction
C) To measure distance D) To find height
4. Christmas is celebrated in summer in []
A) Japan B) Australia C) India D) Turkey
5. There are _____ cardinal directions []
A) 4 B) 3 C) 2 D) 5

II. Fill in the blanks.

5 x 1 = 5

6. The imaginary lines that connects the North and South pole are _____.
7. Maps showing distribution of forests are _____.
8. The blue colour in maps indicate _____.
9. The intermediate direction between north and East is called _____.
10. The cycle of the seasons caused due to _____.

III. Answer the questions in one or two sentences.

3 x 2 = 6


11. What is a Globe ?
12. What are the components of a map ?
13. Which movement of the earth causes day and night ?

[Turn Over

IV. 14. Fill the empty boxes in the given table with appropriate answers.

4

Latitude	Longitude
North pole	90°N
Arctic circle	
	23½°N
Equator	0°
Tropic of Capricorn	
Antarctic circle	66½°S
	90°S




నిర్ణయాత్మక మూల్యాంకనం - 2 - 2021 - 22

సాంఘిక శాస్త్రం

(తెలుగు మీడియం)

(గరిష్టమార్కులు : 20)



తరగతి : 6]

[సమయం : 45 ని॥

విద్యార్థి పేరు : క్రమ సంఖ్య :

I. క్రింది ప్రశ్నలకు సరైన సమాధానాన్ని ఎంచుకొని బ్రాకెట్లో రాయండి. 5 x 1 = 5

1. సూర్యుని చుట్టూ భూమి తిరగడాన్ని ఇలా పిలుస్తారు []
 A) భూభ్రమణము B) భూపరిభ్రమణము
 C) వంపుతిరగడం D) పరిహేళి
2. స్కేల్ అనేది దీనిలో ముఖ్యమైన అంశము []
 A) పటము B) చిత్తుపటము C) ప్రణాళిక D) చిత్రము
3. దిక్కుచీని దీనికి ఉపయోగిస్తారు []
 A) చిహ్నాలను చూపడానికి B) ప్రధానమార్గాన్ని చూపడానికి
 C) దూరాన్ని కొలవడానికి D) ఎత్తుని కొలవడానికి
4. వేసవి కాలంలో క్రిస్మస్ పండగ జరుపుకునే దేశం []
 A) జపాన్ B) ఆస్ట్రేలియా C) భారతదేశం D) టర్కీ
5. ప్రధాన దిక్కులు []
 A) 4 B) 3 C) 2 D) 5

II. క్రింది ఖాళీలను పూరించండి. 5 x 1 = 5

6. ఉత్తర, దక్షిణ ధృవాలను కలుపుతూ గీయబడిన ఊహారేఖలు _____.
7. అడవుల విస్తరణను చూపే పటాలను _____ అని పిలుస్తాము.
8. పటంలో నీలిరంగు _____ ని సూచిస్తుంది.
9. ఉత్తరం మరియు తూర్పు మధ్యగల దిక్కు (మూల) ని _____ అని పిలుస్తారు.
10. ఋతుచక్రం _____ వలన ఏర్పడుతుంది.

III. క్రింది ప్రశ్నలకు ఒకటి లేదా రెండు వాక్యాలలో జవాబులు వ్రాయండి. 3 x 2 = 6


11. గ్లోబ్ అనగా నేమి ?
12. పటంలోని ముఖ్యమైన అంశములేవి ?
13. భూమి యొక్క ఏ చలనము వలన రాత్రి పగలు ఏర్పడతాయి ?

[Turn Over

IV. 14. క్రింది పట్టికలోని ఖాళీ గడులను సరైన జవాబులతో పూరించండి.

1 x 4 = 4

అక్షాంశము	రేఖాంశము
ఉత్తర ధ్రువం	90°N
ఆర్కిటిక్ వృత్తం	
	23½N°
భూమధ్య రేఖ	0°
మకర రేఖ	
అంటార్కిటిక్ వృత్తం	66½°S
	90°S



నిర్మాణాత్మక మూల్యాంకనం - 2 - 2021 - 22

సాంఘిక శాస్త్రం

(తెలుగు మీడియం)



తరగతి : 7]

(గరిష్టమార్కులు : 20)

[సమయం : 45 నిమిషాలు

విద్యార్థి పేరు : క్రమ సంఖ్య :

I. సరైన సమాధానాన్ని వ్రాయండి. 5 x 1 = 5

1. వాస్కోడగామా భారతదేశమునకు దారి మార్గాన్ని కనుగొనిన సంవత్సరం []
a) 1488 A.D. b) 1498 A.D. c) 1499 A.D. d) 1500 A.D.
2. నదుల స్థానానికి సంబంధించి కింది వానిలో సరియైనది కానిది []
a) కృష్ణ b) గోదావరి c) పెన్నా d) బ్రహ్మపుత్ర
3. మ్యాపలను గీచే వ్యక్తిని అంటారు. []
a) కార్టోగ్రాఫర్ b) హిస్టోరియన్ c) ఆర్కియాలజిస్ట్ d) ఆండ్రోపాలజిస్ట్
4. 'మోటుపల్లి' శాసనం యిచ్చారు. []
a) రుద్రమదేవి b) రుద్రదేవ c) గణపతి దేవ d) మహాదేవ
5. వెయ్యి స్థంబాల దేవాలయం నిర్మించారు. []
a) ప్రతాప రుద్ర b) ప్రొల్లా - II c) రుద్రదేవ d) రుద్రమ దేవి

II. ఈ క్రింది భాళీలను పూరింపుము. 5 x 1 = 5

6. ప్రపంచ విస్తీర్ణంలో భారతదేశము _____ పెద్ద దేశము
7. పటములలో ఆకు పచ్చరంగు _____ ను సూచిస్తుంది.
8. మొదటిసారిగా గ్లోబును చుట్టివచ్చిన వ్యక్తి _____
9. రుద్రమదేవి పట్టాభిషేకం _____ సం॥లో జరిగింది.
10. _____ అనే ఇటాలియన్ ప్రయాణికుడు, రుద్రమదేవి రాజ్యాన్ని సందర్శించారు.

III. ఈ క్రింది ప్రశ్నలకు ఒకటి లేదా రెండు వాక్యాలలో సమాధానం వ్రాయండి. 3 x 2 = 6

11. ఇండియాలో ఏ యే రాష్ట్రాల గుండా కర్కటరేఖ వెళ్తుంది, వాటి పేర్లను వ్రాయండి.
12. గ్రీడ్ అంటే ఏమిటి ? దాని వలన ఉపయోగాలు ఏమిటి ?
13. దక్షిణ భారతదేశంలో మధ్యయుగ కాలంలో ఆవిర్భవించిన సామ్రాజ్యాలు ఏవి ?

IV. ఈ క్రింది ప్రశ్నకు నాలుగు లేదా ఐదు వాక్యాలలో సమాధానము వ్రాయండి. 1 x 4 = 4

14. కాకతీయుల పరిపాలన గురించి క్లుప్తంగా వ్రాయుము

తరగతి : 8]

(గరిష్టమార్కులు : 20)

[సమయం : 45 నిమిషాలు

విద్యార్థి పేరు : క్రమ సంఖ్య :

I. బహుళైచ్ఛిక ప్రశ్నలు.

5 x 1 = 5

1. భూమధ్యరేఖ వద్ద సూర్యుని కిరణాల 'పతనకోణం' []
a) 90° b) 100° c) 200° d) 75°
2. భూఉపరితలం నుండి ఎత్తు ప్రదేశాలకు వెళుతున్న కొద్దీ ఉష్ణోగ్రతలు []
a) మారదు b) తగ్గును c) పెరుగును d) ఇవేవీకాదు
3. ఈ క్రింది వానిలో ఏ వాయువు భూవికిరణాన్ని అడ్డుకొనును ? []
a) O₂ b) ఆర్గాన్ c) CO₂ d) ఇవన్నీ
4. భారత జాతీయ కాంగ్రెస్ ఏ సంవత్సరంలో స్థాపించబడినది ? []
a) 1875 b) 1865 c) 1890 d) 1885
5. కృష్ణా పత్రికను 1902వ సంవత్సరంలో మచిలీపట్నంలో స్థాపించినది _____ []
a) రఘుపతి వెంకటరత్నం నాయుడు b) మట్నూరి కృష్ణారావు
c) కందుకూరి వీరేశలింగం d) సరోజినీ నాయుడు

II. ఖాళీలు పూరించండి.

5 x 1 = 5

6. కలకత్తాకు చెందిన మొదటి మహిళా గ్రాడ్యుయేట్ _____
7. "స్వరాజ్యం నా జన్మహక్కు దానిని సాధించితిరుతా" అనే నినాదాన్ని ఇచ్చినవారు _____
8. _____ బ్రిటీషు గవర్నరు జనరల్ కాలంలో బెంగాల్ రెండుగా విభజించబడినది.
9. భూమి ఉపరితలాన్ని సూర్యుని కిరణాలు తాకే కోణాన్ని _____ అని పిలుస్తారు.
10. ధృవాల వద్ద ఉండే ప్రాంతాన్ని _____ అని అంటారు.

III. ఈ క్రింది ప్రశ్నలకు రెండు లేదా మూడు వాక్యాలలో సమాధానాలు రాయండి. 3 x 2 = 6

11. వందేమాతరం ఉద్యమం గురించి వ్రాయుము.
12. "సౌరవికిరణం" అనగా నేమి ?
13. "భూమి వేడెక్కడం" అనగా నేమి ? ఏ వాయువులు భూమి వేడెక్కడానికి కారణమగును ?

IV. ఈ క్రింది ప్రశ్నకు మూడు లేదా నాలుగు వాక్యాలలో సమాధానము వ్రాయండి. 1 x 4 = 4

14. ఆంగ్ల విద్యావిధానము భారతీయులకు ఏ విధముగా ఉపయోగపడినది ?

నిర్మాణాత్మక మూల్యాంకనం - 2 - 2021 - 22

సాంఘికశాస్త్రం

(తెలుగు మీడియం)

(గరిష్టమార్కులు : 20)

[సమయం : 45 నిమిషాలు

20

తరగతి : 9]

విద్యార్థి పేరు : క్రమ సంఖ్య :

I. బహుళైచ్ఛిక ప్రశ్నలు.

5 x 1 = 5

1. వాన్ సరస్సు ఏ దేశంలో ఉంది ? []
a) టర్కీ b) ఇజ్రాయిల్ c) అమెరికా d) ఇండియా
2. _____ ఒక చక్రీయ వనరు []
a) బొగ్గు b) గాలి c) నీరు d) ఇవన్నీ
3. వీటిలో ఏ సముద్రం ఆసియాను, ఓషినియాను వేరు చేస్తుంది []
a) పసిఫిక్ మహాసముద్రం b) అట్లాంటిక్ మహాసముద్రం
c) హిందూ మహాసముద్రం d) ఆర్కిటిక్ మహాసముద్రం
4. ప్రసిద్ధి చెందిన "మోనాలిసా" చిత్రాన్ని ఎవరు చిత్రించారు []
a) లియోనార్డ్ డావిన్చీ b) థామస్ మోర్ c) ఎరామోస్ d) జాకబ్
5. యూరప్ చరిత్రలో తొలి ఆధునిక కాలం ఎప్పుడు మొదలవుతుంది. []
a) 400 A.D. నుండి 1300 A.D. b) 1300 B.C నుండి 1800 B.C.
c) 1300 A.D. నుండి 1800 A.D. d) 400 A.D. వరకు

II. భాషీలు పూరించండి.

5 x 1 = 5

6. మృత సముద్రం _____ దేశంలో ఉంది.
7. నదుల నీటిలో _____ % ఉప్పు ఉంటుంది.
8. లియోనార్డ్ డావిన్చీ ఏ విధంగా సంతకం చేసేవారు _____
9. నికోల్ మాకియవెల్లి వ్రాసిన పుస్తకం పేరు _____
10. భూమి మీద ఎంత శాతం ఉప్పు నీరు ఉంది _____

III. ఈ క్రింది వాటికి రెండు లేదా మూడు వాక్యాలలో సమాధానాలు రాయండి.

3 x 2 = 6

11. మహాసముద్రాలు అంటే ఏమిటి ? అవి ఏవి ?
12. జలచక్రం ఎన్ని దశలు ? అవి ఏవి ?
13. "పాంథాల్యా" అంటే ఏమిటి ?

IV. ఈ క్రింది ప్రశ్నకు గాలుగు లేదా ఐదు వాక్యాలలో సమాధానము వ్రాయండి.

1 x 4 = 4

14. మానవ మనుగడ మహా సముద్రాలతో ఏ విధంగా ముడిపడి ఉంటుంది.

తరగతి : 10]

(గరిష్టమార్కులు : 20)

[సమయం : 45 నిమిషాలు

విద్యార్థి పేరు : క్రమ సంఖ్య :

I. సరైన సమాధానమును గుర్తించి వ్రాయుము.

5 x 1 = 5

1. స్థూల జాతీయోత్పత్తి అనగా ఒక సంవత్సర కాలములో ఉత్పత్తి అయిన _____ []
 - a) అన్ని వస్తువులు మరియు సేవల మొత్తం
 - b) అన్ని అంతిమ వస్తువులు మరియు సేవల మొత్తం
 - c) అన్ని మాధ్యమిక వస్తువులు మరియు సేవల మొత్తం
 - d) అన్ని మాధ్యమిక మరియు అంతిమ వస్తువుల మొత్తం
2. నైరుతీ ఋతుపవన కాలములో వర్షం పొందని ప్రాంతం _____ []
 - a) మలబారు తీరం
 - b) కోరమండల్ తీరం
 - c) కెనరా తీరం
 - d) సర్కారు తీరం
3. రష్యన్ విప్లవములో జార్జ్ నికోలస్ - II తన సింహాసనాన్ని వదలుకోవడాన్ని _____ అంటారు. []
 - a) అక్టోబరు విప్లవం
 - b) మార్చి విప్లవం
 - c) జూన్ విప్లవం
 - d) ఏదీకాదు
4. 'మత్స్యకారులు' యుగానికి చెందినవారు []
 - a) ప్రాథమిక
 - b) తృతీయ
 - c) ద్వితీయ
 - d) సంఘటిత
5. రష్యాలో బోల్షెవిక్ల నాయకుడు _____ []
 - a) స్టాలిన్
 - b) జార్జ్ అలెగ్జాండర్
 - c) లెనిన్
 - d) నికోలస్ - 2

II. ఈ క్రింది భాళిలను పూరింపుము.

5 x 1 = 5

6. ఆంధ్రప్రదేశ్ లో ఋతుపవనాలకు ముందు పడే వర్షాలను _____ అందురు.
7. A.G. W. ని విస్తరించగా _____
8. భారతదేశానికి అత్యధిక వర్షపాత ఇచ్చే ఋతుపవనము _____
9. అమెరికా సంయుక్త రాష్ట్రాలలో గొప్ప ఆర్థిక మాంద్యాన్ని నిర్మూలించుటకు న్యూడీల్ విధానమును ప్రకటించినది _____

[Turn Over]

10. రెండో ప్రపంచయుద్ధము _____ ఆసియా దేశము లొంగుబాటుతో ముగిసింది.

III. ఈ క్రింది ప్రశ్నలకు జవాబులు వ్రాయుము.

3 x 2 = 6

11. రష్యన్ విప్లవము తర్వాత రష్యాలో వచ్చిన మార్పులేవి ?

12. భూతాపాన్ని తగ్గించడానికి నీవు సూచించే చర్యలేవి ?

13. సంఘటిత మరియు అసంఘటిత రంగాల మధ్య భేదాలేవి ?

IV. ఈ క్రింది ప్రశ్నకు సమాధానము వ్రాయండి.

1 x 4 = 4

14. నాజీల కాలములో జర్మనీలో వచ్చిన రాజకీయ మార్పులేవి ? ప్రస్తుత ప్రజాస్వామ్య రాజ్యాలలో అవి సాధ్యమవుతాయా ?