

DISTRICT COMMON EXAMINATION BOARD –SRIKAKULAM
SSC PUBLIC EXAMINATION JULY-2020
SOCIAL STUDIES MODEL PAPER-REVISION TEST- I
PAPER I&PAPER II

TIME:3.15Hrs

Max Marks:100

సూచనలు:

- 1.జవాబులు రాయడానికి కేటాయించిన 3 గంటల సమయమునకు అదనంగా ప్రశ్నపత్రము చదువుకోవడానికి 15 నిమిషములు ఈయబడినది.
2. అన్ని జవాబులను విడిగా ఇచ్చిన జవాబుల పుస్తకమునందే రాయవలెను.
3. ప్రశ్నపత్రమందు 4 విభాగములు ఉన్నవి.
4. 4వ విభాగమందు అంతర్గత ఎంపిక(ఇంటర్నల్ ఛాయిస్) నకు అవకాశం ఉంది.

SECTION-I

Note: 1.ఈ విభాగమందు ఏదైనా ప్రశ్నకు ఒకటి కంటే ఎక్కువ మార్లు జవాబులు రాసినట్లైతే మొదటిగా రాసిన జవాబు మాత్రమే పరిగణనలోకి తీసుకోబడుతుంది.

2. అన్ని ప్రశ్నలకు జవాబులు రాయండి.

3. ప్రతి ప్రశ్నకు ఒక మార్కు.

1. కొంకణ్ తీరా ప్రాంతం ఏ రాష్ట్రంలో విస్తరించి ఉన్నది?

2. తప్పుగా జతపరచబడిన జతను గుర్తించి సమాధానపత్రంలో రాయండి?

హిమాలయ పర్వతాలు - తూర్పు నుండి పడమరకు 2400 కి.మీ. విస్తరించి ఉన్నాయి.

ఉత్తరాన ఉన్న పర్వతశ్రేణి - హిమాద్రి

హిమాద్రికి దక్షిణ ఉన్న పర్వతశ్రేణి - ఆరావళి పర్వతాలు

3. వ్యవసాయరంగంలో కార్మికులు అల్ప ఉపాధిని పొందడానికి కారణమేమి?

4. భారతదేశంలో శీతోష్ణస్థితి ఋతుపవనాలవల్ల గణనీయంగా ప్రభావితమౌతుంది, భారతదేశంలో అత్యధిక వర్షపాతం నైరుతి ఋతుపవన కాలంలో సంభవిస్తాయని 'A' అంటున్నాడు. తిరోగమన ఋతుపవనాలవల్ల కోరమంట్ ప్రాంతంలో అధిక వర్షపాతం, తుఫానులు మరియు వాయుగుండాలు సంభవిస్తాయని 'B' అంటున్నాడు. వీరిద్దరిలో ఎవరు చెప్పిన అంశం సరైనది. సమాధానమును జవాబుపత్రంలో రాయండి.

a) A మాత్రమే b) B మాత్రమే c) A మరియు B d) పైవేవికావు

5. 15 నుండి 59 సంవత్సరాల వయస్సు సమూహాన్ని ఏమి అంటారు?

6. క్రిందివాటిలో భారతదేశ దక్షిణ సరిహద్దు ఏది?

a) హిమాలయాలు b) హిందూ మహాసముద్రం c) చైనా

7. U S A (యు.స్.ఎ)ను విస్తరించుము?

8. మొదటి జతలోని అంశముల మధ్యగల సంబంధమును అనుసరించ 2వ జతలో గల ఖాళీని పూరించండి.

ఎ) భారతదేశం : ఇంగ్లాండు బి) నైజీరియా : ?

9. క్రింద ఇవ్వబడిన లోగో ఏ సంస్థకు చెందినది ?



10. తేభాగ ఉద్యమం ఏ రాష్ట్రంలో జరిగింది?
 11. రాజ్యాంగ సభ అధ్యక్షుడు -----(ఖాళీని పూరించండి).
 12. క్రింది సమాచారం ప్రకారము దిగువ ప్రశ్నకు జవాబు ఇవ్వండి.
 - a) వైమార్ గణతంత్ర రాజ్యాంగ ప్రకటన-నవంబర్ 9,1918
 - b) హిట్లర్ జర్మనీ ఛాన్సలర్ కావడం -జనవరి30,1933
 - c) పోలెండ్ పై జర్మనీ దాడి-సెప్టెంబర్ 1939
- ప్రశ్న : వైమార్ గణతంత్ర రాజ్యాంగము ఏర్పడిన దేశము?

SECTION-II

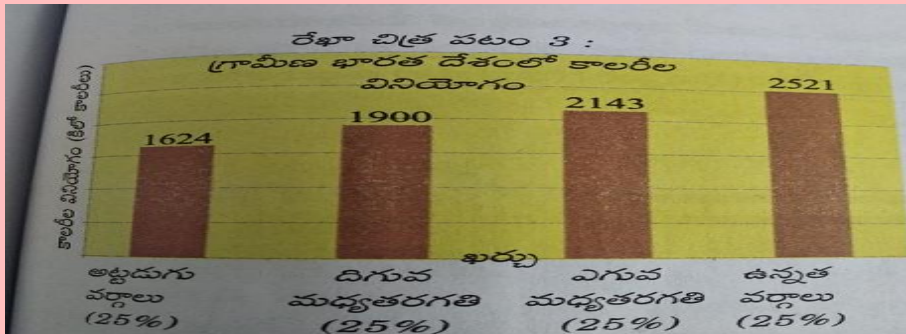
Note: 1. అన్ని ప్రశ్నలకు జవాబులు రాయండి.

2. ప్రతి ప్రశ్నకు 2 మార్కులు .

13. స్థిర పెట్టుబడి అనగానేమి?
14. గోసె సంచుల వాడకం పర్యావరణానికి మంచిది . దీనిని నీవు ఎలా ప్రోత్సహిస్తావు?
15. క్రింద ఇవ్వబడిన సమాచారాన్ని బార్ (చిత్తు పటం)లో చూపండి.

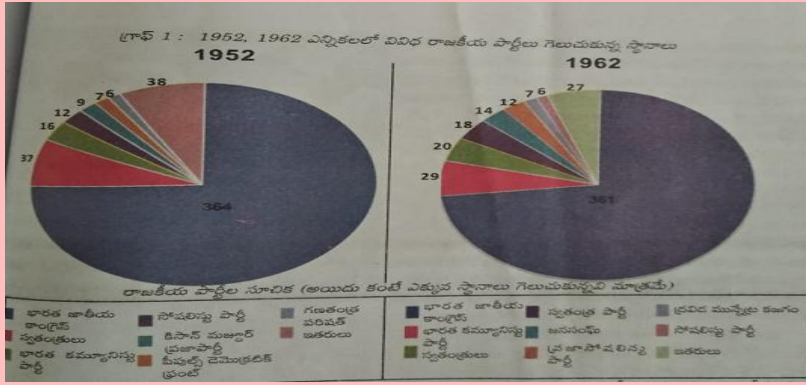
సంవత్సరం	-	జనాభా (కోట్లలో)
1991	-	84
2001	-	102
2011	-	121

16. గ్రామీణ భారతదేశంలో కేలరీల వినియోగం రేఖాచిత్రం పటంను పరిశీలించి దిగువ ఇవ్వబడిన ప్రశ్నకు సమాధానం ఇవ్వండి?



ప్రశ్న : అట్టడుగు వర్గాల కాలరీలు వినియోగం తక్కువగా ఉంది. దీనికి కారణం ఏమిటి?

17. ప్రపంచ యుద్ధాల వలన ప్రజలు ఎదుర్కొనే సమస్యలు రెండింటిని పేర్కొనండి?
18. రాజ్యాంగ సభ చర్యల నుంచి భారత ప్రభుత్వ ఏకీకృత సమాఖ్య సూత్రాలను రెండింటిని వివరించండి?
19. 1952,1962 ఎన్నికలలో రాజకీయ పార్టీలు గెలుపొందిన లోకసభ స్థానాలు



ప్రశ్న 1 : పై సమాచారం ఆధారంగా 1952 సం. లో కమ్యూనిస్టు పార్టీ గెలుపొందిన సీట్లు ఎన్ని?

ప్రశ్న 2 : 1962 సం.లో కేంద్రంలో ప్రభుత్వాన్ని ఏర్పాటు చేసిన పార్టీ ఏది?

20. అలీనోద్యమంలో భారతదేశ పాత్రను నీవు ఏవిధంగా ప్రకాశిస్తావో తెలియజేయుము?

SECTION-III

Note: 1. అన్ని ప్రశ్నలకు జవాబులు రాయండి.

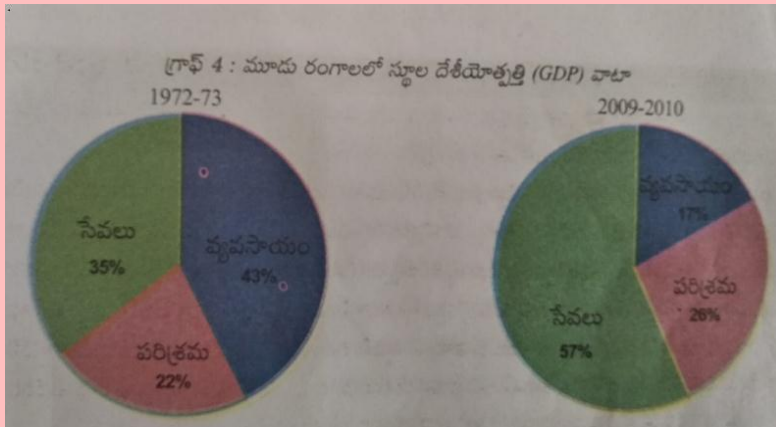
2. ప్రతి ప్రశ్నకు 2 మార్కులు .

21. కరోనా వైరస్ వ్యాప్తిని నిరోధించడానికి మనం తీసుకోదగిన జాగ్రత్తలను సూచించండి.

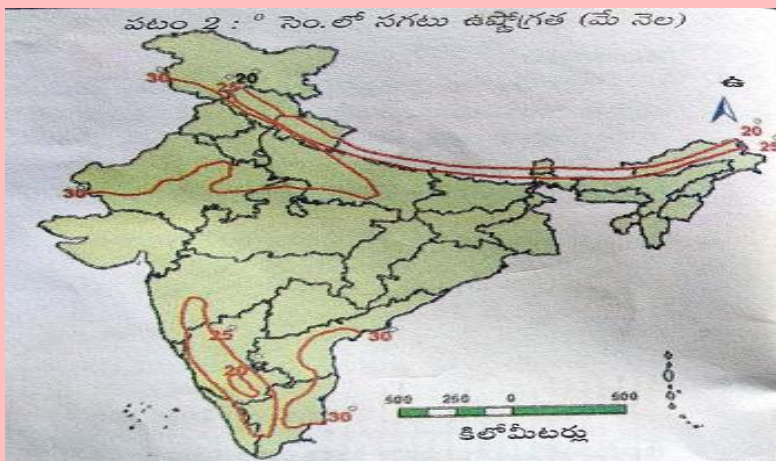
22. మానవ అభివృద్ధిని కొలవడానికి మీ దృష్టిలో ఇంకా ఏ ఏ అంశాలు పరిగణనలోకి తీసుకోవాలో వివరించండి?

23. క్రింది "పై" గ్రాఫ్ ఆధారంగా మీ పరిశీలనలు రాయండి?

మూడు రంగాలలో ఉపాధి



24. క్రింది పటం ఆధారంగా మే నెలలో 25 డిగ్రీ లకు మించని సగటు ఉష్ణోగ్రతలను నమోదు చేసే ఏవైనా 4 రాష్ట్రాలు పేర్కొనండి?



- 25. తీవ్రమాంద్య పరిస్థితులలో సంక్షేమ రాజ్యం అన్న భావన క్రింద చేపట్టిన వివిధ చర్యలను పేర్కొనండి?
- 26. ఐక్యరాజ్య సమితి లక్ష్యాలు గురించి రాయండి?
- 27. దేశ విభజనకు ముందు వివిధ సమూహాల మధ్య అధికారాన్ని పంచుకోవడానికి ఏ ఏ విధానాలు అవలంబించాలి?
- 28. సామాజిక ఉద్యమాలలో మౌలిక అంశాలు ఏమిటి?

SECTION-IV

Note: 1. అన్ని ప్రశ్నలకు జవాబులు రాయండి.

2. ప్రతి ప్రశ్నకు 2 మార్కులు .

29. భారతీయ వ్యవసాయాన్ని హిమాలయాలు ఏ రకంగా ప్రభావితం చేస్తున్నాయి?

(లేదా)

భారతదేశ శీతోష్ణస్థితిని ప్రభావితం చేసే అంశాలు వివరించండి?

30. వ్యవస్థీకృత , అవ్యవస్థీకృత రంగాలు అంటే ఏమిటి? అవ్యవస్థీకృత రంగము లో కార్మికులకు ఈ క్రింది అంశాలలో రక్షణ కావాలి . కూలీ , భద్రత వైద్యం ఉదాహరణలతో వివరించండి?

(లేదా)

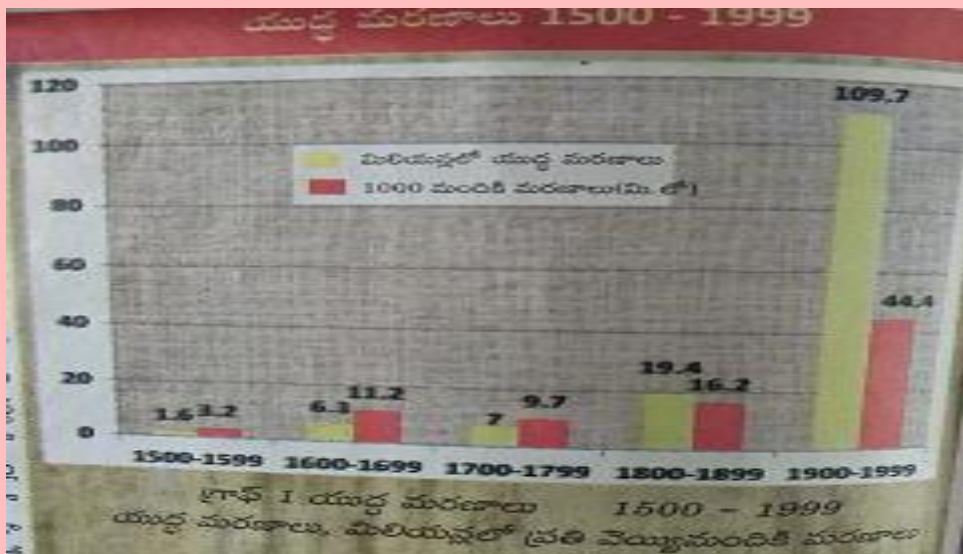
ప్రకృతి వైపరీత్యం వల్ల ఒక సం. ఆహార ధాన్యాల ఉత్పత్తి తగ్గిందని అనుకుందాం. ఆ సం లలో ఆహార ధాన్యాల లభ్యత పెరగడానికి ప్రభుత్వము ఏ చర్యలు తీసుకోవాలి?

31. భారతదేశం , నైజీరియాలలో జాతీయఉద్యమాలను పోల్చండి? భారతదేశంలో ఇది ఎందుకు బలంగా ఉండింది? మీ అభిప్రాయం తెలపండి?

(లేదా)

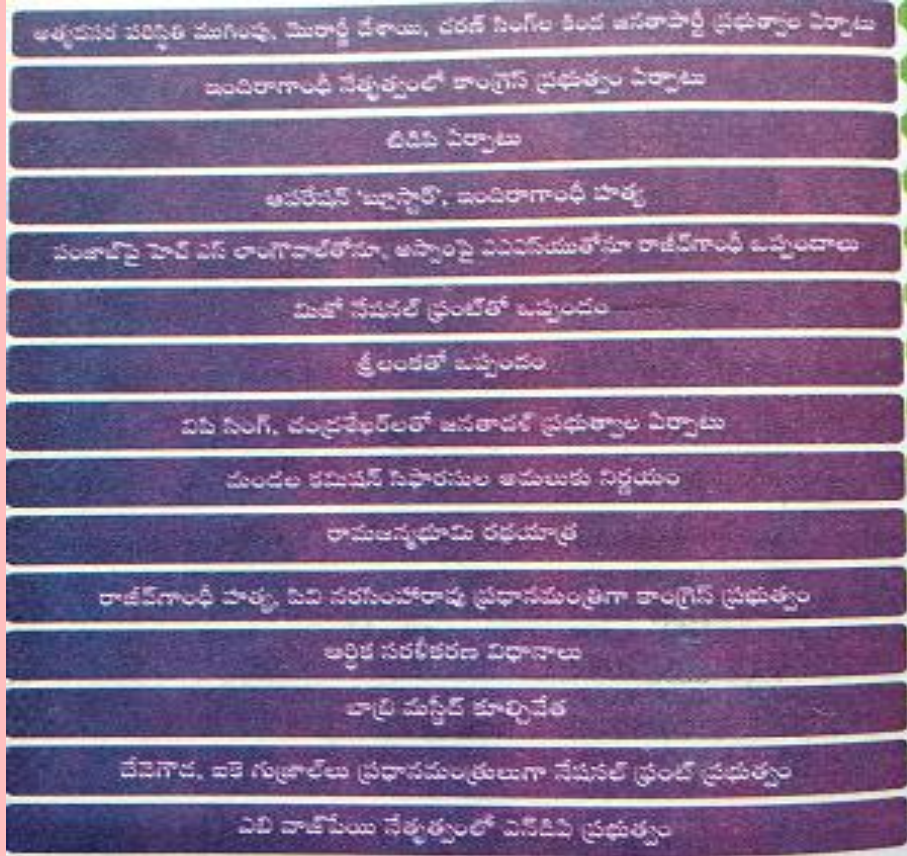
రాజ్యాంగంలో మౌలిక సూత్రాలు ఉంటాయి. అయితే ప్రజలు ప్రజలు వ్యవస్థతో తలపడినప్పుడు సామాజిక మార్పు వస్తుంది. ఈ వ్యాఖ్యతో మీరు ఏకీభవిస్తారా? మీ అభిప్రాయం తెలపండి?

32. ఈ క్రింది గ్రాఫులోని సమాచారం ఆధారంగా యుద్ధ మరణాలు (1500-1999) సంబంధించి ఏదైనా నాలుగు అంశాలను పేర్కొనండి?



(లేదా)

క్రింది సమాచారం ఆధారంగా ఇవ్వబడిన ప్రశ్నలకు జవాబులు రాయండి?



- i) ఇందిరాగాంధీ నేతృత్వంలో కాంగ్రెస్ ప్రభుత్వం ఏర్పాటు ఏ సం .లో జరిగింది?
- ii) శ్రీలంకతో ఒప్పందం కుదిర్చిన భారతదేశ ప్రధాని ఎవరు?
- iii) 1990సం .లో ఆర్థికరంగంలో వచ్చిన మార్పు ?
- iv) NDA ను విస్తరించండి?

33. A) భారతదేశ అవుట్ లైన్ పటములో ఈ క్రింది అంశాలను గుర్తించండి?

- | | |
|--|------------------------|
| a) i)కర్కటరేఖ | b) i) వింధ్య పర్వతాలు |
| ii)బంగాళాఖాతంలో విస్తరించిన భారతదేశ దీవులు | ii) మహానది |
| iii) భారతదేశంలో పొడవైనది (లేదా) | iii) పశ్చిమ బంగాళాఖాతం |
| iv) భారతదేశంలో పశ్చిమ చివరి రాష్ట్రం | iv) అరేబియా సముద్రము |

B) క్రింది దేశాలను ప్రపంచ అవుట్ లైన్ పటములో గుర్తించండి?

- | | |
|--|------------------------------|
| a) i) ఐక్యరాజ్య సమితి ప్రధాన కార్యాలయం | b) i) అట్లాంటిక్ మహా సముద్రం |
| ii) ప్రపంచంలో పెద్ద ఎడారి (లేదా) | ii) మకరరేఖ |
| iii) ప్రపంచంలో విస్తీర్ణంలో పెద్ద దేశం | iii) భారతదేశం |
| iv) ఫ్రాన్స్ వలస రాజ్యం | iv) ఇటలీ |

DCEB SRIKAKULAM REVISION TEST 1



SOCIAL STUDIES KEY

SECTION – I

1. మహారాష్ట్ర మరియు గోవా
2. తప్పుగా జతపరిచినది హిమాలయాలకు దక్షిణాన ఉన్న పర్వత శ్రేణి - ఆరావళి పర్వతాలు
3. ప్రచ్ఛన్న నిరుద్యోగిత
4. A మరియు B
5. పనిచేసే వయస్సు గల సమూహము
6. హిందూ మహా సముద్రం
7. United states of America or అమెరికా సంయుక్త రాష్ట్రాలు
8. ఇంగ్లండ్
9. అంతర్జాతీయ మహిళల ఓటు హక్కు సంస్థ or international women suffragist association
10. బెంగాల్
11. డా. బాబు రాజేంద్రప్రసాద్
12. జర్నల్



SECTION II

13. యంత్రాలు , దీర్ఘకాలిక వస్తువులపై చేసే పెట్టుబడి ని స్థిర పెట్టుబడి అంటారు.

ఉదా: ట్రాక్టర్, వరికోత యంత్రం

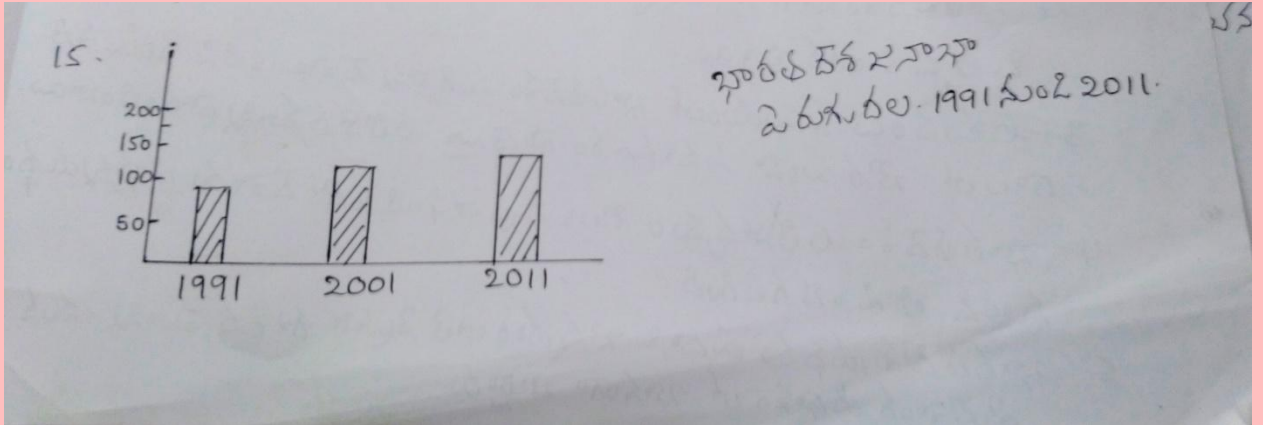
14. గొనె సంచులు వలన పర్యావరణ కాలుష్యం తగ్గుతుంది.

వీటి ఉత్పత్తి వలన స్థానిక పరిశ్రమ లకు గిరాకీ ఏర్పడుతుంది.

వీటిపై ఆధారపడే రైతులకు ప్రయోజనం చేకూరుతుంది.

గొనె సంచులు వలన ప్లాస్టిక్ నిర్మూలన సాధ్యపడుతుంది

15.



16. సగటు ఆహార లభ్యత తక్కువగా ఉండడం

పేదరికం

ప్రజా పంపిణీ వ్యవస్థ లో లోపాలు

కనీస వేతనం కూడా లేని స్థితి లో ఉండడం

17. 1. అపార ప్రాణ నష్టం

2. పంట పాలాలు, పరిశ్రమ లు యుద్ధంలో ధ్వంసం అవుతాయి
3. నిరుద్యోగిత పెరుగుతుంది
4. ధరలు ఆకాశాన్ని అంటుతాయి

18. ఏకీకృత సూత్రాలు

ఏక పౌరసత్వం

ఉమ్మడి పౌర శిక్షా స్పృతీ

ఏకీకృత న్యాయ వ్యవస్థ

సమాఖ్య సూత్రాలు

కేంద్ర, రాష్ట్రాల మధ్య అధికార పంపిణీ

రాష్ట్ర స్థాయి లో సివిల్ సర్వీసులు

కొన్ని అంశాలపై రాష్ట్రాలకు చట్టాలు చేసే అధికారం

19. 1. 16 సీట్లు గెలుచుకుంది.

2. భారత జాతీయ కాంగ్రెస్.

20. అలీనోద్యమం లో భారత దేశ పాత్ర

1.భారత దేశం అలీనోద్యమం లో చురుకైన పాత్ర పోషించింది.

2.మన ప్రధమ ప్రధాన మంత్రి జవహర్ లాల్ నెహ్రూ ఈ ఉద్యమ స్థాపకులలో ఒకరు.

3.ఈ ఉద్యమం లో భాగంగా మన దేశంస్వాతంత్ర్య పోరాటం లో ఉన్న దేశాలకు మద్దతు నిచ్చింది

4.మన దేశ కృషి వలన ప్రస్తుతం అలీనోద్యమం లో దాదాపు 120 కి పైగా దేశాలు సభ్యులు అయ్యాయి.

5.అదే విధంగా మన విదేశాంగ విధానం లో కూడా అలీనోద్యమం ను అనుసరించి సరిహద్దు దేశాలతో

శాంతియుతంగా ఒప్పందాలు చేసుకున్నారు.

6.ప్రస్తుతం భారత అలీనోద్యమం లో కీలకమైన పాత్ర పోషిస్తోంది.



SECTION - III

21. కరోనా నివారణకు మార్గాలు:

భౌతిక దూరం పాటించడం

మాస్కులు ధరించడం

అనవసర ప్రయాణాలు మానుకోవడం

కేంద్ర, రాష్ట్ర ప్రభుత్వాలు జారీ చేసిన మార్గదర్శకాలు పాటించడం

22. మానవాభివృద్ధి సూచికలో పరిగణనలోకి తీసుకోవలసిన సూచనలు

నిజ తలసరి ఆదాయం

ఉద్యోగిత శాతం

ప్రజలకు ఇవ్వబడిన హక్కులు

ఆరోగ్య సదుపాయాలు

శాంతియుత జీవనం

ప్రజల కొనుగోలు స్థాయి

23.

1. ఇవ్వబడిన రేఖాచిత్రం మన దేశం లో వివిధ రంగాల్లో ఉపాధి ని చూపిస్తోంది

1972-73 సంవత్సరం తో పోలిస్తే 2009-10 సంవత్సరం లో వ్యవసాయ రంగం వాటా తగ్గింది

2. అదే సమయంలో మిగిలిన రంగాల్లో పెరిగింది.

3. దీనికి ప్రధాన కారణం వలసలు, పెరిగిన విద్యా సదుపాయాలు, పారిశ్రామిక విధానాలు

4. క్రమంగా మన దేశం వ్యవసాయ రంగం నుండి ఇతర రంగాలకు మార్పు చెందుతోంది.

24. 1. ఆంధ్రప్రదేశ్

2. మహారాష్ట్ర

3. మధ్య ప్రదేశ్

4. తమిళనాడు

25. 1. తీవ్ర ఆర్థిక మాంద్యం 1929 లో అమెరికాలో మొదలై ప్రపంచం మొత్తం వ్యాపించింది.

2. ఈ సమయంలో అనేక ప్రభుత్వాలు ప్రజా సంక్షేమం గురించి ఆలోచించి కొత్త విధానాలు ప్రవేశపెట్టాయి.

3. J m కీన్స్ అనే ఆర్థిక వేత్త ఈ పరిస్థితి చక్కబడదనికొన్ని కొన్ని సూచనలు చేశారు.

4. అలాగే బ్రిటన్ వంటి దేశాలు కార్మికులకు పెన్షన్లు, ఆరోగ్య భీమా తదితర సౌకర్యాలు కల్పించాయి.

5. అమెరికా అధ్యక్షుడు రూసవేల్ కొత్త విధానాన్ని ప్రవేశపెట్టారు.

26. ఐక్యరాజ్యసమితి లక్ష్యాలు:

ప్రపంచ శాంతి ని పరిరక్షించడం

మానవ హక్కుల పరిరక్షణ

యుద్ధాల నివారణ

వలస వీడిత దేశాలకు సహాయం అందించడం.

అంతర్జాతీయ చట్టాలను రూపొందించడం

పేదరిక నిర్మూలన

27. దేశ విభజన కు ముందు రాజకీయ పరిస్థితులు:

1. భారత జాతీయ కాంగ్రెస్ ముస్లిం లీగు ప్రధాన పార్టీలు గా ఉండేవి.

2. విభజించు పాలించు అనే నినాదంతో బ్రిటిష్ ప్రభుత్వం ముస్లింలకు ప్రత్యేక నియోజకవర్గ కేటాయింపు చేసింది.

3. అలాగే తరువాత సిక్కులు ప్రత్యేక రిజర్వేషన్లు కల్పించింది.

4. 1932 లో sc మరియు st లకు కూడా కేటాయింపు చేసింది. దీని వలన అనేక కొత్త పార్టీలు వచ్చాయి.

5. కానీ స్వాతంత్ర్య ఉద్యమ సమయంలో కాంగ్రెస్ అన్ని రాజకీయ పార్టీల కంటే ఎక్కువ ప్రజల మద్దతు పొందినది.

6.ముస్లిం లీగ్ భారత ముస్లింలు ప్రతినిధి గా అవతరించింది

28. 1.ప్రజలు ఎదైనా మార్పు కోరుకున్నప్పుడు సామజిక ఉద్యమాలు మొదలవుతాయి.

2.ఆది హక్కుల సాధన అయినా లేక ప్రభుత్వ విధానాలలో వ్యతిరేకత అయినా కావచ్చు.

3.ఈ ఉద్యమాలలో ప్రజలే నాయకులు

అయితే కొన్ని సార్లు ఈ ఉద్యమాలలో నాయకులు పుట్టుకొస్తారు.

4.మార్టిన్ లూథర్ కింగ్, నెల్సన్ మండేలా వంటి నాయకులు ఇలాంటి వారే.

5.మహిళలు, కార్మికుల సంఘాలు ఈ ఉద్యమాలలో చురుకైన పాత్ర పోషిస్తాయి.



SECTION IV

29. A. భారత దేశ వ్యవసాయం లో హిమాలయాల ప్రభావం

1.వేసవిలో మైదానాల్లో వర్షపాతం సంభవించడానికి మరియు చివరికి దేశంలో రుతుపవనాల వాతావరణం ఉండటానికి హిమాలయాలు బాధ్యత వహిస్తాయి.

2. హిమాలయ నదులు గంగా,సింధు మరియు బ్రహ్మపుత్ర మరియు వాటి ఉపనదులు హిమానీనదాల ద్వారా ఏర్పడడంతో శాశ్వత ప్రవాహాన్ని కలిగి ఉంటాయి.

ఈ నదులు సారవంతమైన ఒండ్రు నిక్షేపణ ద్వారా ఉత్తర మైదానాలు ఏర్పరిచాయి

4. నీటిపారుదల కోసం నిరంతర నీటి సరఫరాతో సారవంతమైన నేలలు సమృద్ధిగా పంటలను ఉత్పత్తి చేయడానికి సహాయపడతాయి.

5. హిమాలయాల విస్తరణ వాతావరణాన్ని వివిధ మార్గాల్లో ప్రభావితం చేస్తుంది.

6. హిమాలయాల నిరోధించబడినందువలన నైరుతి రుతుపవనాల గాలుల తిరోగమనం చెంది ఈశాన్య రుతుపవనాలు ఏర్పాటుకు కారణమవుతాయి.

7. ఈ విధంగా, హిమాలయాల వలన ఋతు పవన శీతోష్ణస్థితి ఏర్పడుతుంది.

8. హిమాలయాల వలన ఉత్తర భారత దేశంలో రబి పంటలకు కావలసిన స్థితి ఏర్పడుతుంది.

29 B సమాధానం

వాతావరణాన్ని ప్రభావితం చేసే కారకాలను వాతావరణ నియంత్రణలు అంటారు. అవి

1. భూమధ్యరేఖ నుండి అక్షాంశం లేదా దూరం
2. నీరు-భూమి మధ్య గల సంబంధం
3. భౌగోళిక స్వరూపం
4. ఉపరితల గాలి ప్రసరణ

1. భూమధ్యరేఖ నుండి అక్షాంశాలు లేదా దూరం:

భూమధ్యరేఖ నుండి మరింత దూరంగా వెళ్ళేటప్పుడు సంవత్సరానికి సగటు ఉష్ణోగ్రత పడిపోతుంది.

భారతదేశంలో దక్షిణ భాగం భూమధ్యరేఖకు దగ్గరగా ఉన్న ఉష్ణమండలం లో ఉంది. అందువల్ల ఈ ప్రాంతం ఉత్తర భాగం కంటే ఎక్కువ సగటు ఉష్ణోగ్రతను అనుభవిస్తుంది. కన్యాకుమారి వాతావరణం భోపాల్ లేదా ిల్లీకి పూర్తిగా భిన్నంగా ఉండటానికి ఇది ఒక కారణం.

2. భూ-నీటి సంబంధం:

సముద్రం భూమి కంటే నెమ్మదిగా వేడిని గ్రహిస్తుంది మరియు కోల్పోతుంది.

భారతదేశంలో దక్షిణ భాగం, దాని పొడవైన తీరప్రాంతం కారణంగా సముద్రం యొక్క సమశీతోష్ణ ప్రభావానికి లోనవుతుంది. కాబట్టి, ఈ ప్రాంతం సమానమైన వాతావరణాన్ని కలిగి ఉంటుంది.

3. భౌగోళిక స్వరూపం

ఎత్తు పెరిగే కొద్దీ ఉష్ణోగ్రత తగ్గుతుంది. అందువల్ల కొండలు మరియు పర్వతాలు మైదాన ప్రాంతాల ఉష్ణోగ్రత కంటే తక్కువ ఉష్ణోగ్రత కలిగి ఉంటాయి. అందువల్ల, ఒక ప్రాంతం యొక్క భౌగోళిక స్వరూపం లేదా ఎత్తు ఒక ప్రాంతం యొక్క వాతావరణాన్ని ప్రభావితం చేస్తుంది.

భారతదేశంలో, హిమాలయ ప్రాంతంలోని హిల్ స్టేషన్లు వేసవి నెలల్లో కూడా చల్లని వాతావరణాన్ని కలిగి ఉంటాయి.

4. ఉపరితలగాలి ప్రసరణ:

1. 'జెట్ స్ట్రీమ్స్' అని పిలువబడే ఎగువ వాయు ప్రవాహాల కదలిక ద్వారా భారతదేశ వాతావరణం కూడా ప్రభావితమవుతుంది.
2. పొడి ఈశాన్య వాణిజ్య గాలుల బెల్టులో భారతదేశం ఉంది.
3. ఈస్టర్ జెట్ ప్రవాహం యొక్క శీతలీకరణ ప్రభావం ఇప్పటికే 25 డిగ్రీల ఉత్తర అక్షాంశంలో కనిపించే మేఘాల నుండి వర్షాన్ని కలిగిస్తుంది.

30 A సమాధానం

భారత దేశంలో కార్మికులు ప్రధానంగా రెండు రంగాల్లో ఉపాది పొందుతున్నారు

వ్యవస్థీకృత రంగం అనగా ఉద్యోగభద్రత, నమ్మకమైన ఉపాధి షరతులు వుండే వ్యాపారాలు లేదా ప్రదేశాలు.

అవ్యవస్థీకృత రంగం అనగా ఇవి ప్రభుత్వ నియంత్రణ లో ఉండవు. ఉద్యోగులకు భద్రత ఉండదు.

మన దేశం లో 92 శాతం మంది అవ్యవస్థీకృత రంగం లో పనిచేస్తున్నారు.

వీరికి ఉద్యోగ భద్రత అవసరం ఎందుకంటే వీరిని కారణం చూపకుండా పని నుండి తీసివేయలేరు అలాగే ఆరోగ్య సమస్యలు ఎదురైనప్పుడు వీరికి సహాయం అందుతుంది.

ప్రభుత్వం అనేక కార్మిక చట్టాలు చేసి కనీస వేతనాలు చెల్లించే విధంగా నిబంధనలు రూపొందిస్తే వీరికి వేతన భద్రత కూడా అందుతుంది.

అలాగే సమాన పనికి సమాన వేతనం చెల్లించడం వలన వీరి ఆర్థిక స్థితి మెరుగు పడుతుంది.

ఈ మధ్య కాలంలో ప్రభుత్వాలు వీటిపై అధిక శ్రద్ధ చూపిస్తున్నాయి.

30 B సమాధానం

ఆహార ధాన్యాలు అధికంగా లభించేలా ప్రభుత్వం అన్ని చర్యలు తీసుకుంటుంది.

ఆహార నిల్వలు:

ప్రభుత్వం నిల్వల నుండి బాధిత ప్రాంతాలకు ఆహార ధాన్యాలు సరఫరా చేస్తుంది.

ఈ ఆహార ధాన్యాలు ఆహార కొరత తీర్చడం తో పాటుగా ధరల నియంత్రణ కు తోడ్పడుతాయి

ప్రజా పంపిణీ వ్యవస్థ: -

ప్రజా పంపిణీ వ్యవస్థ ద్వారా ప్రభుత్వం బాధిత ప్రాంతానికి ఆహార ధాన్యాలు సరఫరా చేస్తుంది.

ఉదా: చౌక ధరల దుకాణాలు.

విపత్తు నిర్వహణ:

వరదలు, భూకంపాలు వంటి ప్రకృతి వైపరీత్యాల వల్ల బాధిత ప్రాంత బాధితులకు ప్రభుత్వం ఆహార ధాన్యాలు సరఫరా చేస్తుంది; విపత్తు నిర్వహణ. ఉదా: హెలికాప్టర్లు మరియు రెస్క్యూ టీంల ద్వారా ఆహార ధాన్యం ప్యాకెట్లను సరఫరా చేస్తుంది. ప్రజా పంపిణీ వ్యవస్థ ద్వారా బాధిత ప్రాంతాల్లో ఆహార ధాన్యాలు సరఫరా చేయడం కూడా ప్రభుత్వ బాధ్యత.

దిగుమతులు:

ప్రభుత్వం ఆహార ధాన్యాల నిల్వలు సరిపోనప్పుడు విదేశీ దిగుమతుల చేసి తద్వారా వాటిని బాధిత ప్రాంతంలోని పేద ప్రజలకు సరఫరా చేస్తుంది.

ఈ విధంగా ప్రభుత్వం సంవత్సరానికి ఆహార ధాన్యాలు అధికంగా లభించేలా చూడగలదు.

31 A సమాధానం

భారత దేశం మరియు నైజీరియా రెండూ బ్రిటిష్ వలస ప్రాంతాలు.

ఈ రెండు దేశాలను పోలిస్తే భారత దేశ లో స్వాతంత్ర్యోద్యమం బలంగా సాగిందని చెప్పవచ్చు

కారణాలు:

భారత దేశం వలే నైజీరియా లో అనుభవజ్ఞులైన నాయకులు లేకపోవడం

భారత స్వాతంత్ర్య ఉద్యమం లో పత్రికలు ప్రధాన పాత్ర పోషించిన ట్లు నైజీరియా లో లేజాపోవడం

నైజీరియా లో గల అంతర్గత విభేదాలు

నైజీరియా లో బలమైన రాజకీయ పార్టీలు లేకపోవడం

31B సమాధానం

మన రాజ్యాంగం మనకు అనేక సౌకర్యాలు కల్పించింది.

అయితే వీటిని మనం సరిగా వినియోగించుకున్నప్పుడే అవి మనకు ఉపయోగపడతాయి.

ఉదాహరణకు మనకు సమానత్వపు హక్కు ఇవ్వబడినా దానిని మనం పాటించనప్పుడు ప్రయోజనం ఉండదు.

ఎవరైనా అసమానతలు చూపిస్తే దానిని మనం ప్రభుత్వం దృష్టికి తీసుకువెళ్లి పరిష్కారం పొందాలి అలా చేయనప్పుడు ఎన్ని హక్కులు ఉన్న ప్రయోజనం లేదు.

అలాగే మన ప్రభుత్వం చేసే చాటాలని గౌరవించి అందులో లోపాలు ఉన్నప్పుడు వాటిని ఎత్తిచూపాలి.

ఎన్నికలలో మన ఓటు హక్కు ను తప్పనిసరిగా వినియోగిస్తే అప్పుడు సరైన నాయకుల్ని ఎన్నుకోవచ్చు.

32A సమాధానం

విశ్లేషణ

ఇచ్చిన గ్రాఫ్ గత కొన్ని దశాబ్దాలుగా మరణాల రేటును చూపిస్తోంది.

1500 నుండి 1599 మధ్య కాలం లో తక్కువ యుద్ధ మరణాలు నమోదు అయ్యాయి

దేనికి ప్రధాన కారణం అప్పుడు యుద్ధాలు తక్కువగా జరగడం ఆయుధాలు అంత బలమైనవి కాకపోవడం

యుద్ధ మరణాలు రేటు క్రమంగా పెరుగుతూ వస్తోంది

20 వ శతాబ్దంలో అధిక రేటు నమోదు అయింది

దీనికి ప్రపంచ యుద్ధాలు కారణం

ఈ యుద్ధాలలో వాడిన ఆయుధాలు చాలా శక్తిమంతమైన ఆయుధాలు.

దీనిని దృష్టిలో పెట్టుకుని మనం భవిష్యత్తు లో యుద్ధాలు జరగకుండా విధానాలు రూపొందించుకోవాలి.

ఎందుకంటే యుద్ధాలు ఎప్పుడూ శ్రేయస్కరం కావు.

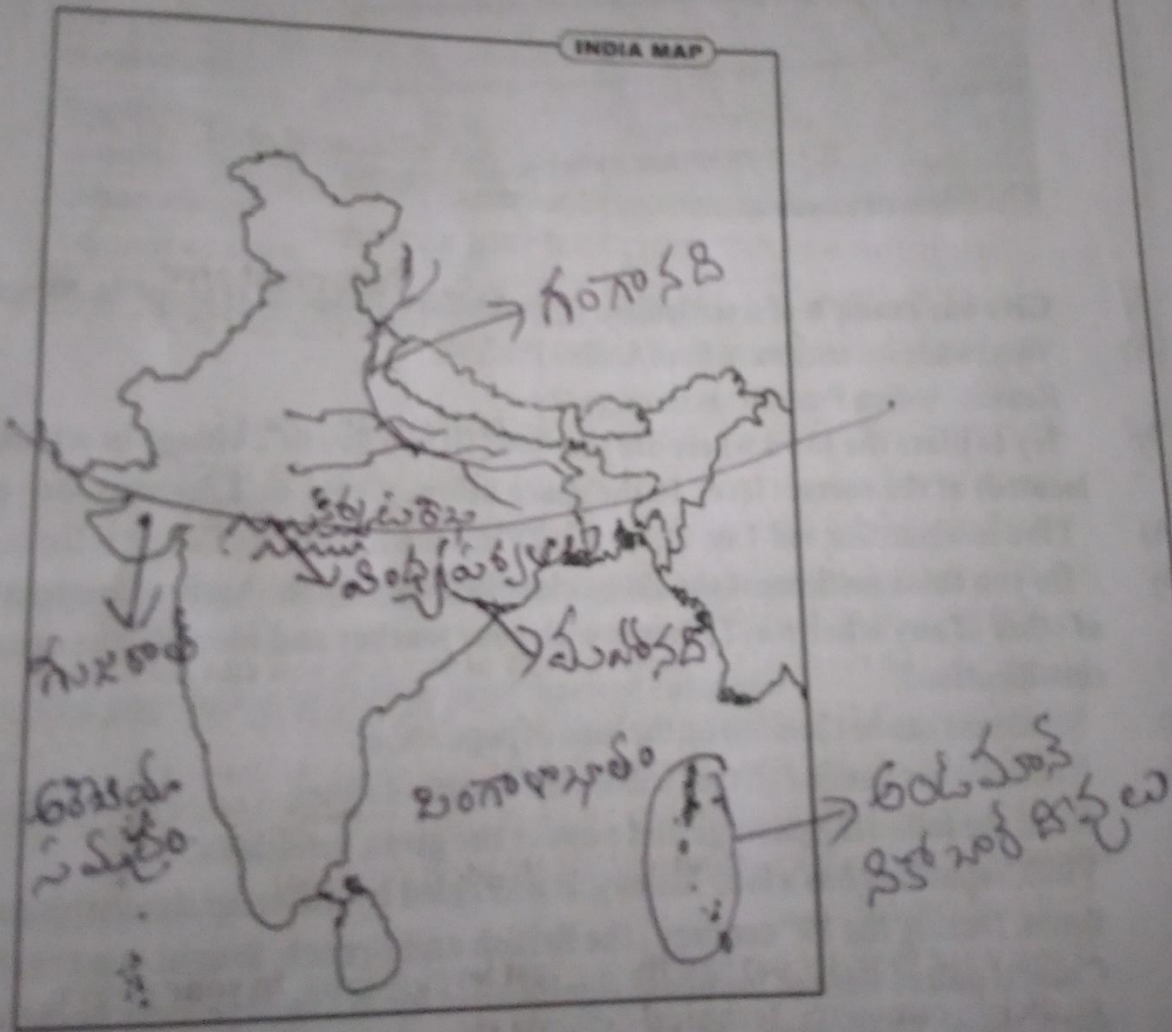
32 B సమాధానం

1. 1980
2. రాజీవ్ గాంధీ
3. సరళీకృత ఆర్థిక విధానం.
4. జాతీయ ప్రజాస్వామ్య కూటమి or national democratic alliance

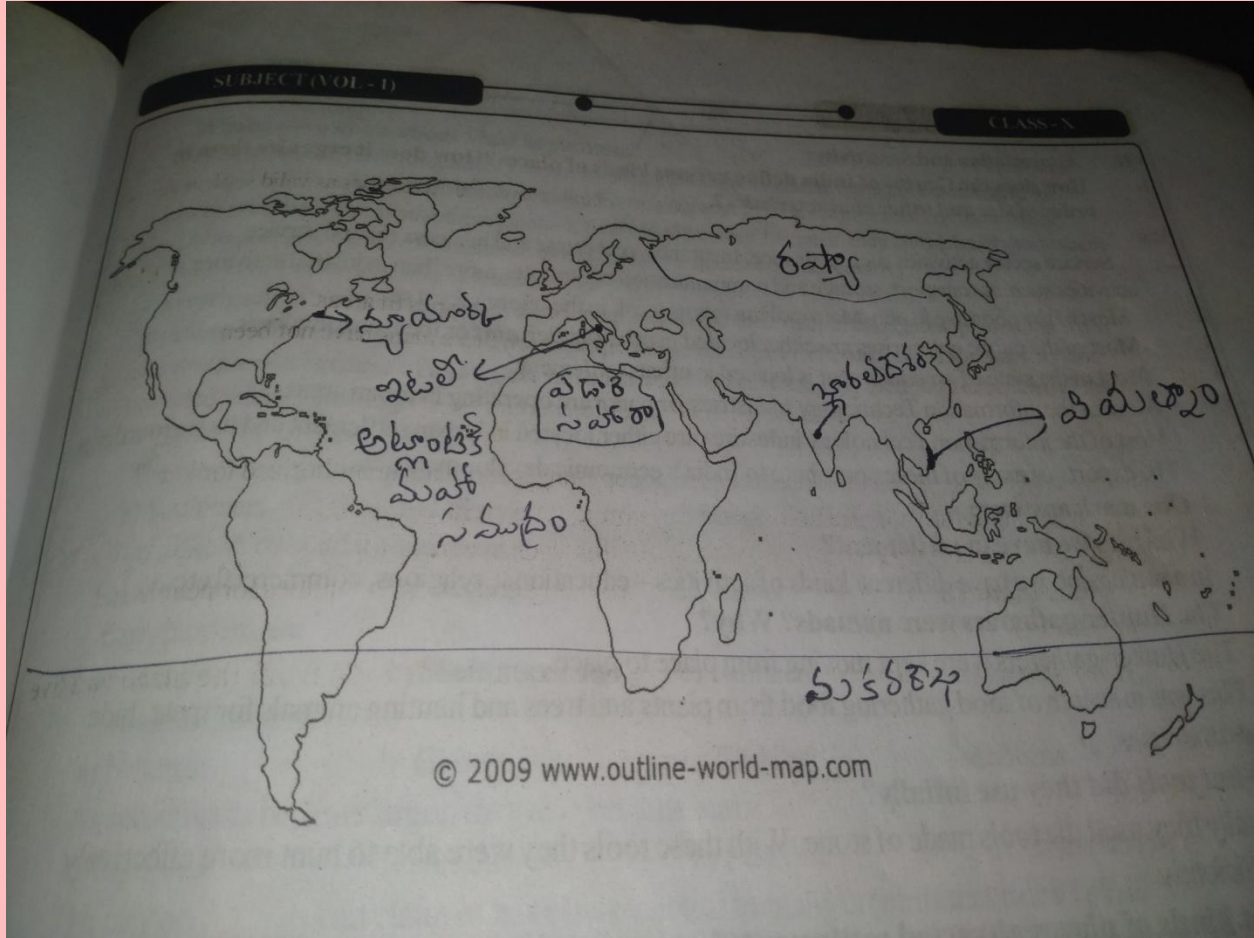


33 A సమాధానం

		Symbol used
National capital	New Delhi	
State capital	Hyderabad	Star
District H.Q	Machilipatnam	Large dark black dot
Mandal H.Q	Vijayawada urban	Small dark black dot.
Village	Kanduru	Dash-red Green dash



33 B సమాధానం



PREPARED BY

SRI K SANTHOSH KUMAR, MANDASA.



WE THANK YOU A LOT SIR.

DISTRICT COMMON EXAMINATION BOARD, SRIKAKULAM

SSC PUBLIC EXAMINATIONS JULY - 2020
SOCIAL STUDIES MODEL PAPER REVISION TEST 1
PAPER I & PAPER II
(English Medium)

Time: 3hrs15mins

Maximum marks: 100

Instructions:

1. Answer ALL the questions in a separate answer Booklet
 2. The question paper consists of 4 sections and 33 questions
 3. There is an internal choice in Section –IV
 4. Write the answers neatly and legibly
-

SECTION 1

Note: 1.ANSWER ALL THE QUESTIONS IN ONE WORD OR PHRASE

2. EACH RIGHT ANSWER CARRIES 1 MARK

3. IF ANY QUESTION IS ANSWERED MORE THAN ONCE THE FIRST ANSWER ONLY WILL BE CONSIDERED

12X1=12

1. In which of the states Konkan Coast extended?
2. Find out the wrongly matched pair? ()
 - A. Himalayas - Extended about 2400km from west to east
 - B. Himadri - uppermost ranges of the Himalayas
 - C. Aravali - Southern ranges of Himadri
3. What is the reason of underemployment in Agricultural Sector?
4. India is greatly influenced by monsoons. 'A' says India receives heavy rainfall due South-West monsoons. "B" says that Koramondal coast receives heavy rainfall, cyclones and Depressions due to retreating monsoons. Who is correct?
 - i) Only A
 - ii) Both A & B
 - iii) only B
 - iv) none of these.
5. Age group between 15 to 59 is called as?
6. Which of the following is southern boundary of India
 - i) Himalayas
 - ii) Indian ocean
 - iii) china

7. Expand U.S.A

8. The relation between the items in the first pair is the same with those in the second Pair

Find out the missed item in the second Pair.

India: England :: Nigeria :



9. To which organisation did this Logo belongs to?

10. Thebaga movement occurred in which State?

11. President of constituent Assembly is

12. Answer the following questions based on the information.

- i) Proclamation of Weimur Republic ---- Nov 9, 1918.
- ii) Hitler becomes chancellor of Germany --- Jan 30, 1933
- iii) Germany invades Poland ---- Sep 1, 1939

Q; which country constitute Weimur Republic?

SECTION II

Note: 1. ANSWER ALL THE FOLLOWING QUESTIONS

2. EACH RIGHT ANSWER CARRIES 2 MARKS

8X2=16

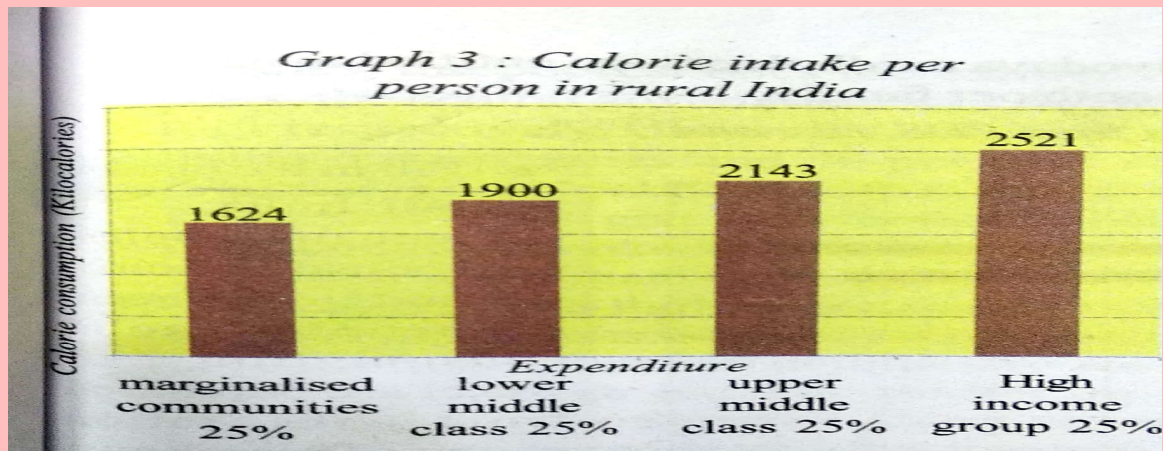
13. What is meant by Fixed Capital?

14. Usage of Jute is eco-friendly. How will you appreciate it?

15. Draw a bar graph using given information?

Year	population (crores)
1971	- 84
2001	- 102
2011	- 121

16. Answer the question using the graph given

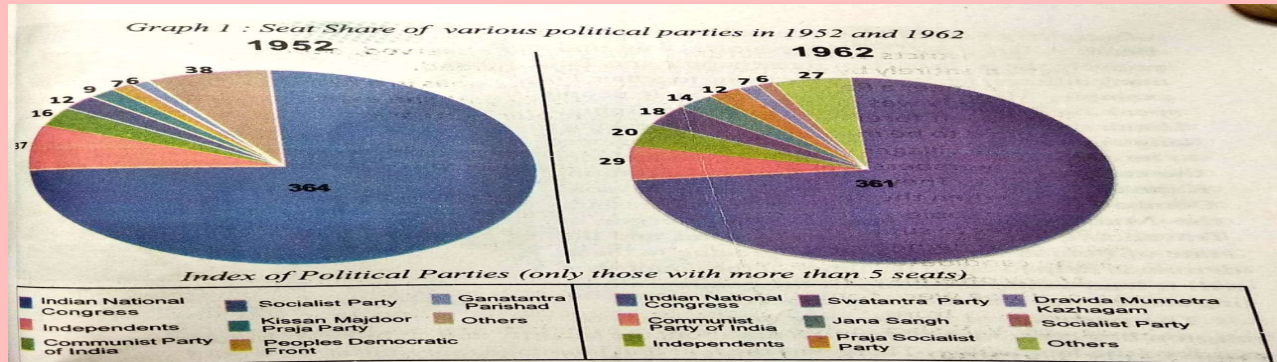


What is the reason for less calories usage by marginalised families?

17. Give any 2 problems faced by the people due to world wars?

18. Describe the unitary and Federal Principles of Indian Government as discussed in the CA Debates.

19. Seat share of various political parties in 1952 and 1962.



iQ: how many seats did the communist party got in 1952 according to above information?

ii Q. In 1962 which country formed the Government at centre?

20. How will you appreciate India's rule in non-align movement?

SECTION III

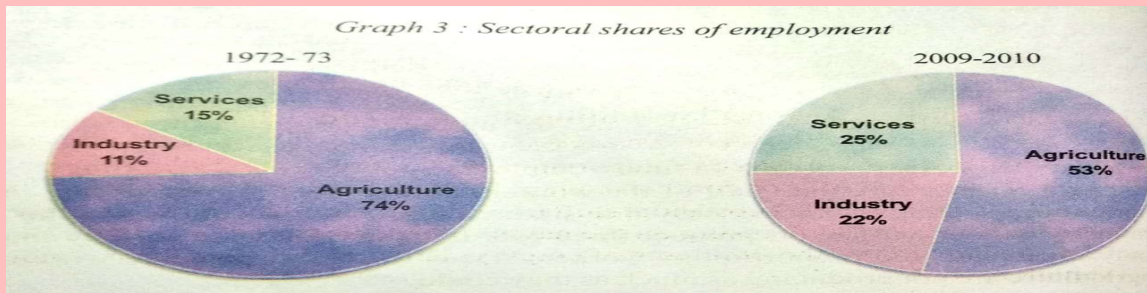
Note: 1. ANSWER ALL THE FOLLOWING QUESTIONS

2. EACH RIGHT ANSWER CARRIES 4 MARKS

8x4=32

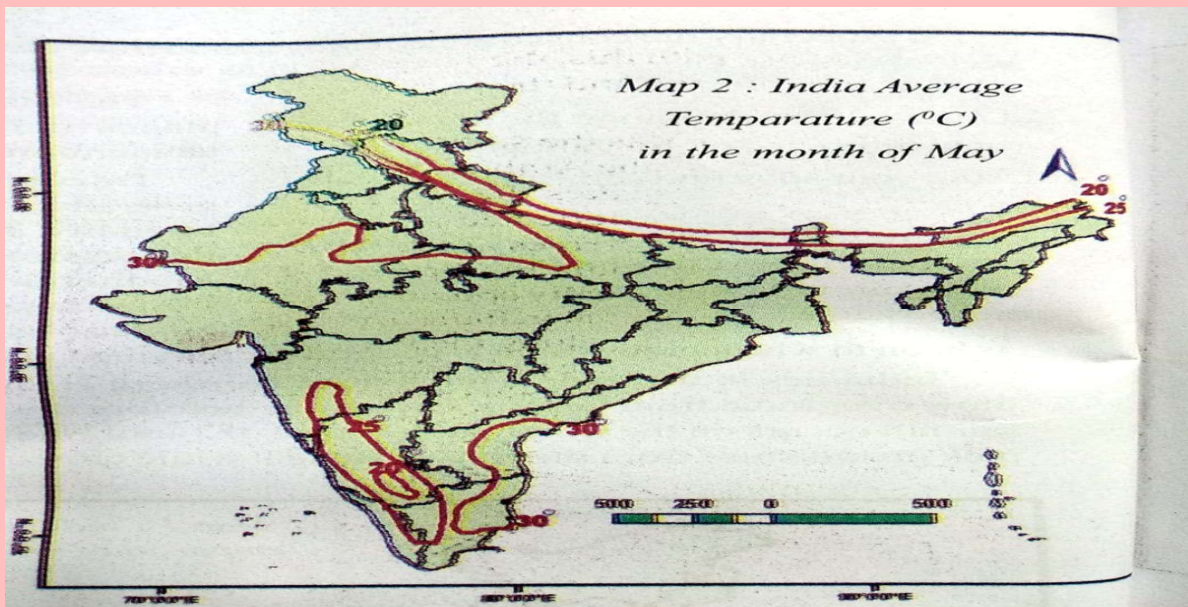
21. Which precautions will you take in order to prevent Corona Virus?

22. Do you think there are certain other aspects, other than those discussed in the Chapter those should be considered in measuring Human Development?



23.

Write your observations from the above Pi Chart?



24

From the above Demo graph, Write 4 states recording more than 25° C temperature in the month of May?

25. List the measures taken under idea of welfare state under great depressions?

26 Write the Aims of U.N.O.

27. What were the different ways in which power sharing amount different committees was Organised before partition?

28. What are the basic features of Socialist Moments?

SECTION IV

Note: 1. ANSWER ALL THE FOLLOWING QUESTIONS

2. EACH RIGHT ANSWER CARRIES 8 MARKS

3. EACH QUESTION CONTAINS INTERNAL CHOICE

5x8=40

29. A) what is the influence of Himalayas on Indian Agriculture?

OR

(B) What are the factors that influence Indian Climate?

30. (A) what are organised sector, unorganised sector? The workers in the unorganised Need protections on the following issues; Wages, Safety and Health, Explain With examples.

OR

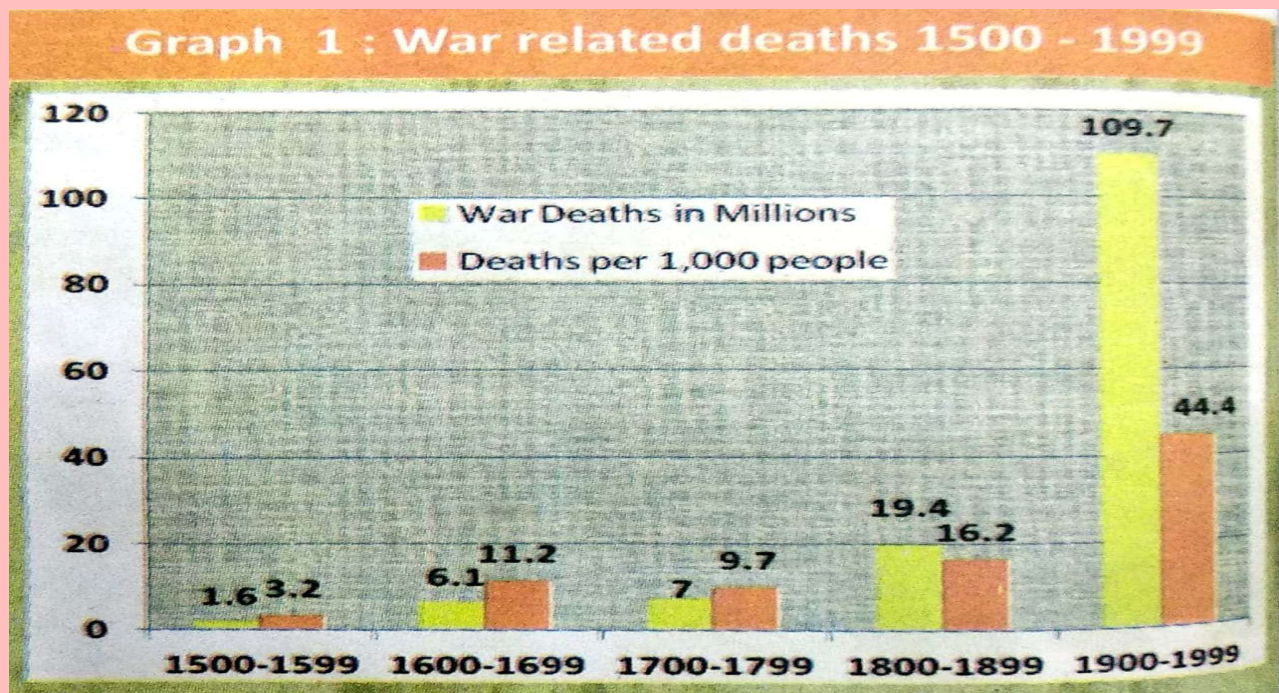
(B) Supposing the food grain production has been effected in a particular year, because Of natural calamity. In what ways can the Government ensure higher availability of Food grains for the year?

31. (A) Compare the national movements between India and Nigeria. Why these are strong In India? Give your Opinion?

OR

(B). while constitution provides basic principles it is the engagement of people with the System that brings in social change. Do you agree with this statement, Give reasons?

32 (A) Write any four observations from the Graph below



(OR)

(B) Write answers to questions using the information given

End of Emergency and formation of Janata Party governments under Morarji Desai and Charan Singh	1977
Formation of Congress government led by Indira Gandhi	1980
Formation of TDP	1982
Operation Blue Star and Assassination of Indira Gandhi	1984
Rajiv Gandhi Accords with HS Longowal on Punjab and AASU on Assam	1985
Accord with Mizo National Front	1986
Agreement with Sri Lanka	1987
Election and formation of Janata Dal government with VP Singh and Chandrasekhar	1989
Decision to implement Mandal Commission recommendation	1990
Ram Janmabhoomi Rath Yatra	1990
Assassination of Rajiv Gandhi and government led by Congress party with P.V.Narsimha Rao as PM	1991
Economic Liberalisation	1991
Demolition of Babri Masjid	1992
National Front Government with Deve Gowda and IK Gujral as PMs	1996
NDA government led by AB Vajpayee	1998

- i) In which year the formation of Congress government led by Indira Gandhi?
- ii) Which Indian Prime Minister set own agreement with Sri Lanka?
- iii) What was the change occurred in 1990?
- iv) Expand N.D.A

33. (A) Mark the following on outline map of India.



A i) Tropic of Cancer

B i) Vindhya Ranges

ii) Indian islands

ii) Mahanadi River

iii) Longest River in India (OR)

iii) West Bengal

iv) Western most state in India

iv) Arabian Sea

(B) Mark the following on outline map of World



A i) Head Quarters of U.N.O

B i) Atlantic Ocean

ii) Largest desert in world (OR)

ii) Tropic of Capricorn

iii) Largest country in word in area

iii) India

iv) Colony of France

iv) Italy

DISTRICT COMMON EXAMINATION BOARD

SOCIAL STUDIES MODEL PAPER

SRIKAKULAM

REVISION TEST I

PAPER I & PAPER II [E.M.]

KEY

SECTION I

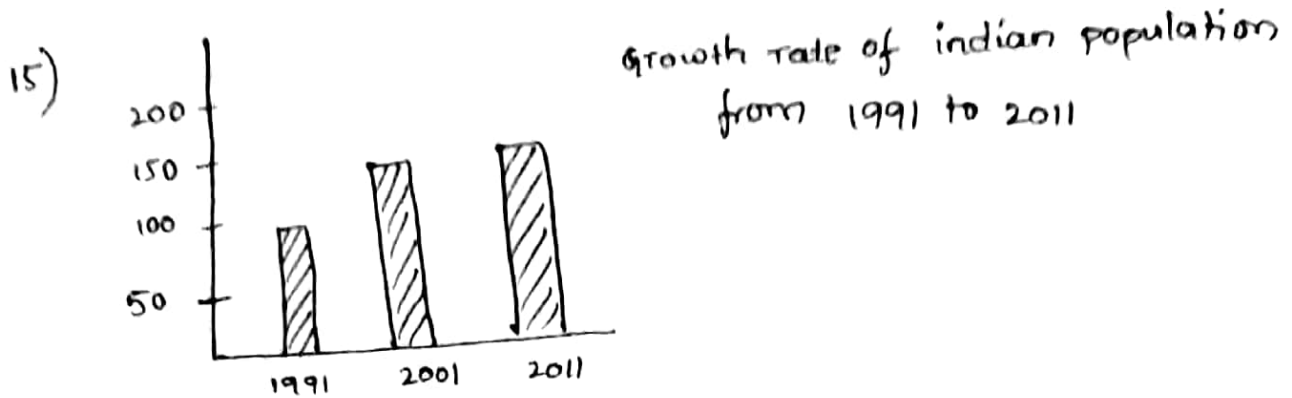
- 1) Maharashtra and Goa
- 2) Incorrect matching: (C) Aravali - Southern Ranges of Himadri
- 3) potential Unemployment
- 4) A & B
- 5) Working Age Group
- 6) Indian Ocean
- 7) United states of America
- 8) England
- 9) International women suffragist association
- 10) Bengal
- 11) Dr. Babu Rajendra Prasad
- 12) Germany

Section-2

13) Tools, machinery, buildings, etc. - these are fixed capitals. Of the things necessary for production are fixed then those are called as fixed capital.

Eg: tractor - etc. - -

14) By using gunny bags we can reduce pollution. Through their production many companies will gain more profits. Farmers who rely on these gets more benefits. By using gunny bags we can reduce the usage of plastic.



- 16)
1. Average availability of food is low
 2. poverty
 3. Mistakes in public distribution system
 4. The situation in which unable to meet minimum wages.

9.

- 17)
1. High Mortality rate

- 18)
2. Destruction of fields and industries during world war
 3. Increase in the unemployment
 4. prices will extremely increases

- 18)
1. In making legislation, both state & central have their own rights.
 2. single citizenship
 - 3) Supremacy of central government-
 - 4) Absence of subsidiary sovereign politics
 - 5) dual polity.
 - 6) All India civil services

19) 1. won 16 seats

2. Indian National Congress

20) 1. India ^{has} played a crucial role in non-align movement

2. Our first prime minister Sri. Jawahar Lal Nehru was one of the founder in non-align movement.

3. Thus, non-alignment was established as an international organisation with an aim to promote cultural & economical cooperation among the newly independent countries of asia, africa & latin America.

SECTION-III

21) precautions to prevent corona virus :-

1) Social distancing

2) By wearing masks

3) By sanitizing our surrounding

4) By following the guidelines of W.H.O

5) By washing our hands upto 20sec frequently in a day.

22) 1) Per capita income

2) Life expectancy at birth

3) Average years of schooling

4) Expected years of schooling

5) Human development index ranks in the world

6) people their health & well being are most important.

23) 1. Given pi chart indicates the "sectoral shares of employment".

2. Decrease in the agricultural services, ^{from} 1972-73 (73%) to 2009-2010 (53%)

3. Increase in the services in industry from 1972-73 to 2009-2010.

- 24)
1. Andhra Pradesh
 2. Tamilnadu
 3. Rajasthan
 4. Uttar Pradesh

25) 1. At the end of World War-II, Britain adopted extensive social security measures to make the idea of Welfare state.

2. They are as follows:
- (i) Unemployment doles
 - (ii) sickness Coverage
 - (iii) Health schemes
 - (iv) Child care

3. These ensured minimum dignified life and took care of most elementary needs of all citizens.

26) The Aims of UNO are:

- (1) Ensuring last long peace across world countries
- (2) Human development
- (3) Ensure protection of human rights
- (4) Preventing wars
- (5) Ensuring democracy
- (6) Eradication of poverty and hunger for all people in the world.
- (7) Designing international laws.

27) Situations before partition are:

- (1) Indian National Congress, Muslim League were the leading parties across nation.
- (2) The British Government has provided a special constitution for Muslims with the slogan "Divide and Rule".
- (3) And some special reservations were given to Sikhs.
- (4) In 1932, SC and ST has also got special reservations which led to birth of many parties.
- (5) Among all, INC has got more support from people at the time of partition.

(28)

(1) People generally start socialist movements only when they need change in society.

(2) Some movements have raised diverse demands across boundary of environment or human rights.

(3) People are the leaders in general, But sometimes leaders will arise from these movements.

(4) Some movements arise when people feel that their expectations have been unmet by larger political systems that is prevalent in country.

SECTION-IV

29) A) i) The formation of Himalayas influence the climate in various ways.

2) These act as barriers protecting the greater plains of India from the cold winds of central Asia during severe winter.

3) These are region for formation of monsoon type of climate in India and happening summer rains in various regions of India.

4) Perennial rivers are formed due to melting ice in Himalayas.

5) Perennial rivers bring a lot of silt making fertile plains.

6) India will become dry in its absence

7) India would become a great Agricultural nation with Himalayas.

B) Factors influencing climate www.bestsocialteacher.com

- 1) latitude or distance from equator
- 2) land and water relationship
- 3) altitude
- 4) upper atmospheric circulation.

1) Distance from equator :-

1) The region which is closer to equator is hotter than region which is near to poles

2) Basing on latitudes.

The earth can be divided into 3 zones

1) Tropical Zone

2) Temperate "

3) Frigid (polar zone)

3) if we go from equator to poles, the temperature will decrease.

4) In India, southern India has higher average temperature than northern India.

Land & water relationship :-

1) land breezes and sea breezes are formed due to land & water relationship.

2) when we compare water with land-water bodies absorb and lose heat.

3) coastal areas have equable climate

Altitude :-

1) if altitude increases, temperature will decrease for every 1000m altitude.

30 Ans) In India workers are primarily employed in two sectors.

- 1) Organised sector
- 2) Unorganised sector

Organised sector covers those enterprises or places of work where the term of employment are regular and therefore, people have assured work. They are registered by the government and have to follow its rules and regulations which are given in various laws such as the Factories Act, Minimum wages act, Shops and Establishments Act, etc. It is called organised sector because it has some formal processes and procedures.

Unorganised sector is characterised by small and scattered units which have remained largely outside the control of the government.

- * Jobs here are low paid and not regular.
- * Employment is not secure.
- * About 92% of workers are under unorganised sector.
- * The workers in the unorganised sector need protection on wages, safety and health.
- * The workers in the unorganised sector often exploited and not paid a fair wage.

- * The rural area, the unorganized sector mostly comprises of landless agricultural laborers, small and marginal farmers, share croppers and artisans.
- * In urban areas, unorganized sector comprises mainly of workers in small scale industry, casual workers in construction, trade and transport etc., And those who work as street vendors, head load workers, garment makers, rag pickers etc.
- * Hence, Government should provide Minimum wages and all the facilities to the labor in unorganised sector. The casual workers in both rural and urban area need to be protected.

30 B) Producing sufficient amount of foodgrains is an important requirement of food security.

The stock of food grains mainly wheat and rice procured and maintained by the government through FOOD CORPORATION OF INDIA is called buffer stock.

- * Through FCI food grains are supplied to the effected areas.
- * Public Distribution system also supplies food grains to the effected areas.
- * Example for Public Distribution system is Ration shop.
- * Through Helicopters and Rescue teams, government supplies food grains to the areas effected by floods and earthquakes.
- * When there is insufficient supply of food grains government imports from other countries such that it can supply to the effected areas.

- 31 A) a) A section of western educated intellectuals developed the idea of a common Nigerian nation and began to fight the British rule.
- b) Herbert Macaulay founded the Nigerian National Democratic Party (NNDP). It won all the seats in the elections of 1923, 1928 and 1933.
- c) In the 1930s, Macaulay also supported militant attacks on the British colonial Government.
- d) In 1936, Nigerian Youth Movement (NYM) was founded by Nnamdi Azikiwe. In 1944 Macaulay and NYM leader Azikiwe agreed to form the National Council of Nigeria and the Cameroons (NCNC). After formation of NCNC by Macaulay and leader Azikiwe, Nigerian nationalism grew in popularity. The backbone of this movement was Nigerian soldiers.
- e) In India, people of the country fought the British under the leadership of M.K. Gandhi. The non violence and non-cooperation became the weapons to freedom fighters.

f) The freedom struggle or the national movement in India was stronger than the national movement in Nigeria as masses were involved in India in larger numbers and it was not the case in Nigeria.

31 B). 1. Yes, I agree with this statement.

2. The constitution had to facilitate social change and also development.

3. The constitution has several provisions facilitating the social change. Provision for reservations for SCs and STs is the best example for affirmative social nation action.

4. The makers of the constitution believed that the mere granting of the right to equality was not enough to overcome age old injustices suffered by these groups. In order to give real meaning to their rights, special constitutional measures were required to advance their interests.

5. The constitution also made it possible for the government to reserve public sector jobs for these groups.

32) A:-

- a) The given bar graph depicts the death rate of past few decades.
- b) least recorded death rate is between 1500 to 1599 due to lack of wars and powerful weapons.
- c) War death rate is highly recorded during 20th century because of world wars due to the usage of powerful weapons.
- d) From this, we can conclude that we should avoid rivalry between countries which leads to destruction of man kind.

32) B:-

- 1) 1980
- 2) Rajiv GANDHI
- 3) Economic liberalisation
- 4) National Democratic Alliance.

Attach MAP to the main answer book of Part A



