

DCEB KRISHNA
SSC PUBLIC EXAMINATIONS - JULY - 2020
SOCIAL STUDIES - Paper - I & II
MODEL PAPER
(Telugu Medium)

Time : 3 - 15 Hrs.]

[Max. Marks : 100

విద్యార్థులకు సూచనలు :

1. జవాబులు రాయడానికి కేటాయించబడిన మూడు గంటల సమయమునకు అదనంగా ప్రశ్నాపత్రం చదువుకోవడానికి 15 నిమిషాల సమయం ఇవ్వబడినది.
2. అన్ని జవాబులను విడిగా ఇచ్చిన జవాబుల పుస్తకము నందే వ్రాయవలెను.
3. ప్రశ్న పత్రమునందు నాలుగు విభాగములు ఉన్నాయి.
4. నాలుగో విభాగము నందు అంతర్గత ఎంపిక (ఇంటర్నల్ ఛాయిస్) కు అవకాశం ఉంది.

విభాగం - 1

సూచనలు : 1) ఈ విభాగం నందు ఏదైనా ప్రశ్నకు ఒకటి కంటే ఎక్కువ మార్లు జవాబులు వ్రాసినట్లయితే మొదటగా రాసిన జవాబు మాత్రమే పరిగణనలోకి తీసుకోబడుతుంది.

2) అన్ని ప్రశ్నలకు జవాబులు వ్రాయండి.

3) ప్రతి ప్రశ్నకు 1 మార్కు.

12 × 1 = 12

1. U.N.D.P. ను విస్తరించండి.
2. మొదటి జతలోని రెండు అంశాల మధ్యగల సంబంధం ఆధారంగా రెండవ జతను పూరించండి.

నీలగిరి కొండలు : దొడబెట్ట :: అన్నామలై కొండలు : ?

3. క్రింది వారిలో భిన్నమైన వారిని గుర్తించి మరియు వారు ఏ రంగానికి చెందునో తెల్పుము.
పోస్ట్మాన్, కూరగాయలు అమ్మేవ్వకి, సైనికుడు, డాక్టరు.
4. తెలుగునెలలు (చాంద్రమాన సంవత్సరం) ప్రకారం మొదటి మరియు చివరి నెలలు ఏవి ?

[Turn Over

5. క్రింది వాక్యాలను చదవండి.

X - జనాభా అంతటికి సంబంధించిన సమాచారాన్ని పద్ధతి ప్రకారం సేకరించి, నమోదు చేయటాన్నే జనగణన అంటారు.

Y - జనాభాలో ప్రతి వెయ్యిమంది పురుషులకు ఎంతమంది స్త్రీలు ఉన్నారో తెలియజేసేది స్త్రీ, పురుష నిష్పత్తి లేదా లింగ నిష్పత్తి పై వాక్యాలలో సరైనదానిని గుర్తించండి.

- X మాత్రమే
- Y మాత్రమే
- X మరియు Y రెండూ
- పైవేవీ కాదు

6. తప్పుగా జతపరచబడిన జతను గుర్తించి, సమాధాన పత్రములో వ్రాయుము.

ఇన్ఫోసిస్	IT
రాన్ బాక్సీ	రంగులు
సుందరం ఫాస్టెనర్స్	నట్టులు, బోట్టులు

7. మొదటి జతలోని రెండు అంశాల మధ్య గల సంబంధం ఆధారంగా, రెండవ జతను పూరించండి.

మావోజెడాంగ్ : చైనా :: హోచిమిన్ : ?

8. మన దేశంలో హిందీ వ్యతిరేక ఆందోళన ప్రారంభమైన రాష్ట్రమేది ?

9. బాక్స్ 'ఎ' లో ఉన్న లోగో బాక్స్ 'బి' లో ఉన్న ఏ అంతర్జాతీయ సంస్థకు చెందినదో గుర్తించి, జవాబు పత్రంలో వ్రాయుము.



బాక్స్ - ఎ

- అంతర్జాతీయ మహిళా మానవ హక్కుల సంస్థ
- అంతర్జాతీయ మహిళా న్యాయస్థానం
- అంతర్జాతీయ మహిళా ఓటు హక్కు ఉద్యమ సంస్థ

బాక్స్ - బి

[Contd... 3rd

10. ప్రస్తుతం ఐక్యరాజ్య సమితి ప్రధాన కార్యదర్శి (సెక్రటరీ జనరల్) ఎవరు ?
11. జవహర్ లాల్ నెహ్రూకి సంబంధించి క్రింది వాక్యాలలో సరైన వాక్యం / వాక్యాలను గుర్తించి, జవాబు పత్రంలో వ్రాయుము.
 - మన దేశానికి మొదటి రాష్ట్రపతి
 - అలీనోద్యమ రూపకర్త
 - డ్రాఫ్టింగ్ కమిటీ చైర్మన్
 - మన దేశానికి మొదటి ప్రధానమంత్రి
12. ఇవ్వబడిన దేశాలను అవి ఉన్న స్థానం ఆధారంగా, ఉత్తరం నుండి దక్షిణానికి అమర్చండి.
ఇటలీ, నార్వే, జర్మనీ, నైజీరియా

విభాగం - 2

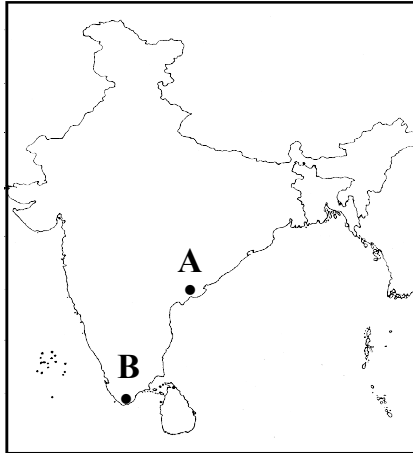
సూచనలు : 1) అన్ని ప్రశ్నలకు జవాబులు వ్రాయండి.

2) ప్రతి ప్రశ్నకు 2 మార్కులు.

8 × 2 = 16

13. బహుళ పంటల సాగు అనగానేమి ?
14. విశాఖపట్నం అభివృద్ధికి కారణమైన అంశాలేవి ?

15.



- i) ప్రక్క పటంలో 'A' అనే అక్షరం ఏ సరస్సును తెలియజేయును.
- ii) ప్రక్క పటంలో 'B' అనే అక్షరం ఏ ప్రాంతాన్ని తెల్పును.

16. “వలస కుటుంబాలలోని అధిక శాతం పిల్లల బడి మధ్యలోనే మానేస్తారు”. దీనితో నీవు ఏకీభవిస్తావా ? నీ సమాధానానికి కారణాలు తెల్పుము.
17. తెభాగా ఉద్యమం గురించి వ్రాయుము.

[Turn Over

- 18. లోక్ అదాలత్ను నీవు సమర్థిస్తావా ? ఎందుకు ?
- 19. క్రింది సమాచారం ఆధారంగా దిగువ ప్రశ్నలకు జవాబులు ఇవ్వండి.

రక్త సిక్త ఆదివారం విప్లవం	జారు చక్రవర్తి పరారీ పెట్రోగాడ్లో బోల్షివిక్ల తిరుగుబాటు	షౌర యుద్ధం	కొమ్మిన్టర్న్ ఏర్పాటు
1905	1917	1918-20	1919

ప్రశ్నలు :

- A) జార్లు అనగా ఎవరు ?
- B) కమ్యూనిస్టులచే ఏర్పాటు చేయబడిన అంతర్జాతీయ సంస్థ ఏది ?
- 20. కరోనా వ్యాధిని (కోవిడ్ - 19) అరికట్టడానికి, ప్రజలలో చైతన్యం నింపుటకు నినాదాలు (స్లోగన్స్) వ్రాయుము.

విభాగం - 3

సూచనలు : 1) అన్ని ప్రశ్నలకు జవాబులు వ్రాయండి.

2) ప్రతి ప్రశ్నకు 4 మార్కులు.

8 × 4 = 32

- 21. వలస వెళ్ళిన వాళ్లకు ఆహారం, వైద్య, కుటుంబ సంరక్షణ కార్యక్రమాలు అందడానికి ఏం చెయ్యాలి ?
- 22. గంగానదీ వ్యవస్థను గురించి వ్రాయండి.
- 23. దిగువ తెల్పిన వివిధ వృత్తుల వారిని వ్యవసాయం, పరిశ్రమ, సేవా రంగాల కింద వర్గీకరించి, కారణం తెల్పుతూ, క్రింది విధంగా పట్టిక తయారు చేయుము.

→ చేపలు పట్టేవారు, వడ్డీ వ్యాపారి, అగ్గిపెట్టెల కర్మాగారంలో పనిచేసేవారు, కాలీసెంటర్ ఉద్యోగులు

క్ర.సం.	వృత్తిపేరు	వర్గీకరణ	కారణం

[Contd... 5th

24. చిత్రంను పరిశీలించి, దిగువ ప్రశ్నలకు జవాబులు వ్రాయుము.

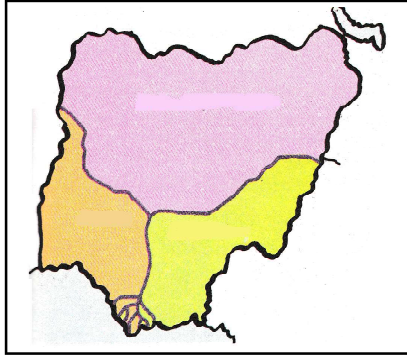


- i) ప్రక్క చిత్రానికి సంబంధించి రెండు నినాదాలు (స్లోగన్స్) వ్రాయుము.
- ii) ప్రక్క చిత్రం ప్రపంచీకరణ గురించి ఏమి తెల్పును ?

25. ప్రపంచ ఆరోగ్య సంస్థ (W.H.O) ను గురించి వ్రాయండి.

26. బ్రిటన్ రాజు, భారత అధ్యక్షుడి స్థానాలలో తేడా ఏమిటి ?

27. ఇవ్వబడిన పటంను పరిశీలించి, దిగువ ప్రశ్నలకు జవాబులు వ్రాయుము.



- A) ప్రక్క పటం ఏ దేశానికి చెందినది ?
- B) ఇవ్వబడిన దేశం, ఏ దేశానికి వలస దేశంగా ఉండేది ?
- C) ప్రక్క పటంలోని దేశం ఏ ఖండంలో గలదు ?
- D) ప్రక్క పటంలోని దేశానికి ఎప్పుడు స్వాతంత్ర్యం లభించెను ?

28. “నేడు ప్రభుత్వాలు పేదల కోసం కేటాయిస్తున్న పథకాలు పేదలకు చేరడం లేదు” - దీనికి పరిష్కార మార్గాలను సూచించండి.

విభాగం - 4

సూచనలు : 1) అన్ని ప్రశ్నలకు జవాబులు వ్రాయుము.

2) ప్రతి ప్రశ్నకు 8 మార్కులు.

3) ప్రతి ప్రశ్నకు అంతర్గత ఎంపిక కలదు.

5 × 8 = 40

29. A) భారతదేశానికి స్వాతంత్ర్యం వచ్చిన తరువాత జనాభా వేగంగా పెరగడానికి కారణాలు ఏమిటి ?

(లేదా)

[Turn Over

- B) జలసింధి గ్రామ ప్రజలు తమ ఊరి నుంచి తరలి వెళ్ళడానికి ఎందుకు తిరస్కరించారు ?
30. A) “మనదేశం ఆహారధాన్యాల ఉత్పత్తిలో స్వయం సంపూర్ణి సాధించలేదు” - వ్యాఖ్యానించుము.

(లేదా)

- B) “గంగా - సింధూ మైదాన ప్రాంతాలు అత్యధిక జనసాంద్రత కలిగినవి” - కారణాలు తెల్పుము.
31. A) ఇవ్వబడిన సమాచారం ఆధారంగా క్రింది ప్రశ్నలకు సమాధానాలు రాయండి.

“1918 ఫిబ్రవరి 1 వరకు రష్యా జులియన్ క్యాలెండర్ను అనుసరించినది. అప్పటి నుంచి అది గ్రెగోరియన్ క్యాలెండర్కు మారింది. గ్రెగోరియన్ తేదీలు జులియన్ తేదీల కంటే 13 రోజులు ముందు ఉంటాయి”.

ప్రశ్నలు :

1. జులియన్ క్యాలెండర్ కన్నా గ్రెగోరియన్ క్యాలెండర్ ఎన్ని రోజుల ముందుంది ?
2. బోల్షివిక్ విప్లవం ఏ దేశంలో జరిగెను ?
3. చిట్టచివరి ‘జార్’ ఎవరు ?
4. ప్రపంచమంతా ఉపయోగిస్తున్న ప్రామాణిక క్యాలెండర్ ఏది ?

(లేదా)

- B) క్రింది పట్టికను పరిశీలించి, ప్రశ్నలకు సమాధానములు వ్రాయుము.

సైలెంట్ వ్యాలీ	కేరళ
భోపాల్ గ్యాస్ దుర్ఘటన	1984
సారా వ్యతిరేక ఉద్యమం	దూబగుంట
సాయుధ దళాల ప్రత్యేక అధికారాల చట్టం	మణిపూర్
ఇరోం షర్మీలా	మణిపూర్ ఉక్కు మహిళ

ప్రశ్నలు :

1. సింహం తోక కల్గిన కోతులు ఏ ప్రాంతంలో కలవు ?
2. సారా వ్యతిరేక ఉద్యమం జరిగిన దూబగుంట, ఏ జిల్లాలో కలదు ?
3. మైరా - పైబీ ఉద్యమం ఏ రాష్ట్రంలో జరిగెను ?
4. 1984 లో మన దేశంలో పారిశ్రామిక దుర్ఘటన ఏ నగరంలో జరిగెను ?

[Contd... 7th

32. A) భారత్ - పాకిస్థాన్ల మధ్య స్నేహబంధం పెంచడానికి చర్యలు సూచించండి.

(లేదా)

B) “సమాచార హక్కు చట్టం సామాన్యుని చేతిలో ఆయుధం లాంటిది”
- నీ అభిప్రాయాన్ని తెలుపుము.

33. A) భారతదేశ అవుట్‌లైన్ పటంలో క్రింది అంశాలను గుర్తించుము.

4 మా॥

- a) 1. మలబార్ తీరం 2. దక్కన్ పీఠభూమి
3. మణిపూర్ రాష్ట్రం 4. $82\frac{1}{2}$ తూ. రేఖాంశం

(లేదా)

- b) 1. మనదేశంలో సూర్యోదయం అయ్యే మొట్టమొదటి రాష్ట్రం
2. ముంబై
3. భారతదేశం నుండి శ్రీలంకను వేరుచేస్తున్న జలసంధి
4. బ్రహ్మపుత్ర నది


B) క్రింది దేశాలను ప్రపంచ అవుట్‌లైన్ పటంలో గుర్తించుము.

4 మా॥

- a) 1. అమెరికా 2. జపాన్
3. ఇండియా 4. నైజీరియా

(లేదా)

- b) 1. ఫ్రాన్స్ 2. చైనా
3. ఈజిప్ట్ 4. మధ్యధరాసముద్రం



DCEB-KRISHNA

సాంఘిక శాస్త్రం, మోడల్ పేపర్ T.M.;

REFERENCE KEY FOR MODEL SOCIAL-PAPER

కొన్ని ముఖ్యమైన సూచనలు:

⊗ విద్యార్థుల అవగాహన కొరత మారినట్లు ఈ ఆన్సర్స్ (కాపీలు) ఇవ్వబడినవి.

⊗ **దురదృష్టవశాత్తూ ఏ మూల సంబంధాల మరియు సరి అవుతున్న సంబంధాల అవగాహన పరిశీలనలో తగ్గిపోయింది.**

- ⊗ 1 మూలం దురదృష్టవశాత్తూ 1 కంటే 2 వ్యాఖ్యలు సంబంధాలను అర్థం చేసుకోవడం.
- 2 మూలం దురదృష్టవశాత్తూ 2 కంటే 4 వ్యాఖ్యలు సంబంధాలను అర్థం చేసుకోవడం.
- 4 మూలం దురదృష్టవశాత్తూ 4 నుండి 6 వ్యాఖ్యలు సంబంధాలను అర్థం చేసుకోవడం.
- 8 మూలం దురదృష్టవశాత్తూ 8 నుండి 10 వ్యాఖ్యలు సంబంధాలను అర్థం చేసుకోవడం.

⊗ 4 మరియు 8 మూలం దురదృష్టవశాత్తూ మరొకటి అక్షరాలకు పోయినట్లు అర్థం చేసుకోవడం తగ్గిపోయింది.

⊗ All the Best ⊗

DC EB KRISHNA
SSC PUBLIC EXAMINATIONS - JULY - 2020
KEY FOR SOCIAL STUDIES - PAPER I & II
MODEL PAPER T.M.

విభాగం - I

- సూచనలు:
1. ఈ విభాగం నందు ఏదైనా ప్రశ్నకు సకలికంబు ఎక్కడవ
మాట్ల సవాసులు ప్రాసినట్లయితే మొదటగా రాసిన సవాసు
మూలమై పరిగణనలోకి తీసుకోవకుండు.
 2. దశా (ప్రశ్న)కు సవాసులు ప్రాయం.
 3. ప్రతి ప్రశ్నకు 1 మార్కు

1. ఐక్యరాజ్యసమితి దిగువ ప్రకారము (United Nations Development Programme)
2. దినము
3. కూరగాయలు దిమ్మెపుక్కి
దిమ్మెపుక్కిల రంగు
4. వైఠం
ఫాల్గుణం
5. X మరియు Y రెండు
6. రాష్ట్రం - రంగులు
7. వియత్నం

8. తమిళనాడు

9. తండ్రితోను మనం కలిసి వాళ్ళు కలిసి ఉంటే

10. తండ్రినియే గుండెనా

11. తండ్రితోను కలిసి ఉంటే
మన దేశానికి మెరుగు ప్రభుత్వం ఉంటే

12. నా దేశం, జాతిని, ఇతరులను, వైఖరిని

విభాగం - 2

- సూచనలు:
1. క్రింది విషయాల ప్రశ్నలకు సమాధానాలు రాయండి.
 2. ప్రతి ప్రశ్నకు 2 మార్కులు.

13. ఏ ఒకా విస్తృతంగా సంవత్సరంగా ఒకటి కంటే ఎక్కువ పంటలను
 Ans నాకు చెప్పండి " ఒకటి పంటలను" అంటారు.

ii) భూమి మంజూరు కట్టెని పెంపొందించి ఇది భూమి సాగునైన పంట

విభాగం - 2

14. Ans
- i) విభాగపట్టణం మనకు చుట్టూ ఉంటే ప్రముఖ రోడ్లు పట్టణం.
 - ii) ఇప్పుడు తిరుగుబాటు చెందిన రవాణా సౌకర్యాల కలవు.
 - iii) విభాగపట్టణం విద్యా మరియు ఉద్యోగ అవకాశాల ఎక్కువగా కలవు.
 - iv) దేశం నలుమూలల నుండి ప్రజలు విభాగపట్టణానికి వలస వస్తున్నారు.

P.T.O

15. i) కాలానుగుణ్యం

Ans

ii) కన్యాశుల్కం

16. i) కుటుంబం, వికాసవిస్తాను.

Ans

ii) పట్టణం(గ్రామ) వలన వెళ్ళేటప్పుడు వారి పిల్లలను తమలా తోసుకొని వెళ్ళేట వలన వారు విద్యా సంవత్సరం మధ్యగానూ బడి మానేస్తున్నారు.

iii) కునికి వెళ్ళిన ప్రదేశంలో పాఠశాలలు రాకపోవడం

iv) వెళ్ళిన ప్రదేశంలో శుభ సమస్యలు, పిల్లల సంరక్షణ, అనారోగ్య కారణాలు, మొదలగు వాటి వలన పిల్లల విద్యాకు దూరమవుతున్నారు.

17. i) బెంగాలీలు పెద్ద భూస్వామిల నుండి భూమిని సాగుకు తోసుకొన్న

Ans

బిచ్చం, పాద త్రెయలు భండారాలను చేయించారు.

ii) ఈ సమయంలో కౌల కుండ తమకు సగం, రౌబా కుండకంటే తక్కువ దక్షిణంగా తమ వాటాని మూడింట రెండు వంతులకు పెంపొందించారు.

iii) దొంగిలెత్తినా తమకు కష్టమేం కలదు.

18. i) అక్కడ అసౌకర్యం వాను సమర్థిస్తాను. ఎందుకనగా

Ans

ii) అక్కడ అసౌకర్యం వానా ప్రజా వ్యాయో విధాలు

iii) దీని సామాజిక ప్రజలకు అనుకూలంగా ఉంటాయి.

iv) పాద ప్రజల సమస్యలను నిర్ణయించడానికి పరిష్కారం, ప్రజల అభివృద్ధి పొందాయి.

19. A) ఒక ఊరికి రక్షణగా పరిపాలించిన చక్రవర్తులను "బౌర" అంటారు.

Ans

B) కొత్తనాటి

20. i) భౌతిక కూకం పటిష్ఠం - కలవాసు తరిమేదాం

Ans

ii) మనం ఇంట్లో - కలవా బయటి

iii) వ్యక్తిగత శుభ్రత పటిష్ఠం - కలవాకు కూకంగా అండాం

iv) భౌతిక కూకం - శ్రామ రక్ష

విభాగం - 3

కూకం: 1. కింది విషయాలకు ఉదాహరణలు తెలియజేయండి.

2. వారి (వారి)కు 4 మార్కులు

21. 1. శాకాహారం మరలగా వ్యాధి మన ప్రాంతాలలో కూకం నివారణకు
ANS వస్తువుల తక్కువ ధరకు ఉండాలి.

2. ప్రభుత్వం ప్రత్యేక జిఎస్ టిఎం వసూలులను
వెల్పడం చేయాలి.

3. వారి కుటుంబ సంరక్షణ నిధులను ప్రభుత్వం స్వీకరించాలి.

4. పనిచేసే వారికి ఉదయం, మధ్యాహ్నం వ్యాజ్యం ఉండాలి.

5. మన వచ్చిన పట్టణకు పాఠశాలల వెళ్లడం ఉండాలి.

6. వారు కనీసం ఒక రోజు సెలవు ఉండాలి.

22. 1. గంగా నది తండ్రి నదుల కలయిక.

ANS

22.

Ans

2. లకట గంగాత్ర విమనోననం నగ్గర కుట్టా సగారణి
3. రెండవరి లకటనానకి వాయువు దళం గురవనాన నగ్గర కుట్టా లెకనంక.
4. ఈ రెండు నెవద్రయంగ వద్ద కలిసి గంగానదిగా మారుతుంది.
5. దీని వరిష్ణార్ వద్ద పర్వతాలను వరలి మైదానాలలోకి దువపిస్తుంది.
6. గంగా నదిలో నెవక కడవదులు వచ్చి చారణాయి.
7. పొడిలో నెవకం వీమలయ పర్వతాలలోనూ, కల్లి జ్ఞాపకల్ల వర్షశుమీలో కుట్టావి కూడా కన్పాయి.
8. గంగా నది పూవర్ష మన నెకానికి నాలు ముఖమైవరి.

23.

Ans

వివిధ పుత్రులు, వాటి పల్లకరణను కారణాలలో తెలియజేసే పట్టిక

క్రమ సంఖ్య	పుత్ర పేరు	పల్లకరణ	కారణం
1.	చాపల పట్టివారు	పూవనాయం	చాపల పెంపకం పూవనాయం నెమనింధ పుత్ర.
2.	వల్లి జ్ఞాపారి	నెవారంగం	వల్లిలకు నెమల 12వూలం లిక నెవ కార్ణాకమం.
3.	నెగ్గి పెట్టిల కర్ణాగారంల పని చాసెవారు.	పారిశ్రామిక	నెగ్గి పెట్టిల కర్ణాగారంల యంత్రాలలో కర్ణుక్తి కరుగును.
4.	కార్ సెండర్ కర్ణులు	నెవారంగం	వారు తమ వినియోగదారులకు నెవలను నెరిస్తారు.

24.

- i) A. కార్ణురి నెంకం పోయె - పెప్పి కాలం వచ్చె
- B. కుంక నెచ్చ పోయె - కుంక నెరు వచ్చె.

P.T.O.,

24. Ans ii) A. సహజ వనరులను సీమ్లు చాకుకొంటారని చెబుతుంది.
 B. నిర్లక్ష్యం కాకుండా వనరులను కలిపి, ప్రపంచమంతటా ఉష్ణులుగా వినియోగించి తెచ్చుతుంది.

25. Ans 1. ప్రపంచ మహాగ్రహ సంస్థ (U.H.O), ప్రపంచ ప్రజల మధ్యలో శక్తిని కట్టడానికి ప్రయత్నిస్తుంది.
 2. కొన్ని ప్రధాన కార్యక్రమాలను నిర్వహించడానికి కేంద్రాలను ఏర్పాటు చేయాలి.
 3. మనకు వాటిని ముందగా నిర్వహించాలి.
 4. ఎలక్ట్రిక్, క్షయ పంట వ్యాధులను తగ్గించడానికి కృషి చేస్తుంది.
 5. ఎలక్ట్రిక్ లాంటి భయంకర వ్యాధులను తగ్గించాలి.
 6. ప్రస్తుతం ప్రపంచ వ్యాప్తంగా కరోనా వైరస్ వ్యాప్తిని తగ్గించడానికి ప్రజల సహకారం చేస్తుంది.

26.

Ans

బ్రిటిష్ రాజు	భారతదేశ ప్రజలు
1. రాజు ప్రజల వ్యతిరేకంగా పాలన చేస్తుంది.	1. రాజ్యపరిషత్ పార్లమెంట్ పరిషత్ వల్ల ప్రజలకు ఉపయోగపడుతుంది.
2. రాజు విధిచేతలం పాటించక ప్రజలకు కష్టం తెచ్చుతారు.	2. రాజ్యపరిషత్ 5 సంవత్సరాల పాటు ప్రజలకు కష్టం తెచ్చుతారు.
3. రాజు సామ్రాజ్యవాదంగా ప్రవహించాడు.	3. రాజ్యపరిషత్ సామ్రాజ్యవాదంగా ప్రవహించాడు.

P.T.O.

27.

Ans

- A) వైశిష్ట్యం
- B) రిటర్న్
- C) జిఎఫ్ఐకా
- D) 1963, డిసెంబర్ 1

28.

Ans

1. క్షోణాక్షులను పెంజులె
2. ప్రభుత్వ వనరుల ప్రస్తుత వినియోగం చూడాలి.
3. ప్రభుత్వ నిధులను నిర్మూలనలోకి తీసుకువెళ్లాలి.
4. ఉపసాహాయక కార్యక్రమాలపై కచ్చిత వివరాలు తెలుసుకోవాలి.
5. T.V., రేడియో మొదలైన వాటి ద్వారా సంక్షేమ వనరులను ప్రస్తుత వినియోగం.

విభాగం-4

- సూచనలు:
1. క్రింది ఎనిమిది ప్రశ్నలకు సమాధులు వ్రాయండి.
 2. ఈ ప్రశ్నలకు అంతర్గత ఎంపిక వేరకాశం (Internal choice) కుదురు.
 3. ప్రతి ప్రశ్నకు 8 మార్కులు.

29. A)

Ans

1. వైద్య విజ్ఞానంలో సాధించిన అభివృద్ధి కారణంగా, ప్రపంచకరమైన వ్యాధులు నియంత్రితం చేయగలిగినట్లు ఉంది.

P.T.O.

29. A.

Ans 2) కరువు తీరడాని నివారించుటకై.

3) ప్రభుత్వ ఉపాధి ఉపకారాల పెరిగించు.

4) వైద్య సదుపాయాల పెరగడం వలన మరగాల రాకు లభించి.

5) ప్రభుత్వ నిరక్షరాస్యుల సహాయం రాకు పెరగడానికి కారణం అవునది.

6) కుటుంబ నియంత్రణ తాత్కాలికముగా పూర్తిగా నిషేధించడం కారణం.

7) బాబ్ల నివాసాల కుండా పూర్తిగా పెరగడానికి కారణం అవునది.

8) అక్షయాల పుష్కల కోసం ఎదురు చూడడం వల్ల కుండా పూర్తిగా పెరగలేదు.

29. B

Ans 1) సర్కార్ సహాయం అవకాశం వలన ముందుకు సులభంగా మెకటి గ్రామం
అభివృద్ధి.

2) అభివృద్ధి గ్రామ ప్రజల వారి గ్రామంలోను, అక్షయాలను
ఉపయోగించి కట్టించారు.

3) వారు అక్షయాల తర్వాత, పైపావునిగా, బిచ్చానిగా, బాంకుగా అభివృద్ధిచేశారు.

4) వారికి పట్టణ సుసృష్టి గురించి తెలియదు.

5) వారు వారి ప్రజానికి వెళ్ళితే వారి సమస్యలను ఎదుర్కోవలసి
వస్తుంది.

6) తమ సాంప్రదాయాల వారి ప్రాంతాల అంశం కాబట్టి.

7) వారు పూర్తిగా స్థానిక నివాసాల గురించి ప్రాంతాల అంశం కాబట్టి.

8) అందు వలన వారు తమ కుటుంబం తరలి వెళ్ళడానికి తీరగలిగారు.

30. A.

- Ans 1) భవాగ్రం పెరుగుడు రెటుకు మొగుంగా భవభాగ్రం కట్టె నాణించుకుంటుంది కాదు.
- 2) మెరుగైన శుభాచారాలు పద్ధతులు రాకపోవడం వలన.
- 3) మన రైతులు కుంటవ పూచానాయ పద్ధతులను అనుసరించడం.
- 4) విస్తృత పూచానాయ కమిటాల ఏర్పాటు అవడం వలన.
- 5) భారతీయ పూచానాయం బురుజువనం మన భారతదేశం.
- 6) రైతులకు కుంటవ బురుజువనం రాకపోవడం.
- 7) ఎరువులు, త్రమి సుంహరిక మంకులు తక్కువగా ఉపయోగించడం.
- 8) రైతులకు కుంటవ కుంటవ వేతనాల కట్టె రాకపోవడం.

30. B.

- Ans 1) గంగా-సింధు మైదానం వంటి వంటి వంటికి అనుకూలమైన సాంకేతికమైన బండ్లు వంటి ఉన్నాయి.
- 2) గంగా-సింధు మైదానం భవనకుల ప్రవృత్తులు.
- 3) వరి, గోధుమ లంటి వంటి వంటి వంటి.
- 4) ఈ ప్రాంతం అనుకూల సాంకేతిక, కృషి విజ్ఞానానికి అనుకూలంగా ఉంటుంది వలన.
- 5) ప్రజల భవనానికి అనుకూలమైన పరిస్థితులు ఉన్నాయి.
- 6) మానవ నివాసానికి అనుకూలమైన అన్ని వనరులు లభించి ఉన్నాయి.
- 7) ఈ మైదాన ప్రాంతం మానవ రవాణా సౌకర్యాల కుంట.
- 8) కనుక, గంగా-సింధు వరి మైదానం భవనానికి అనుకూలం.

P.T.O

31. A.

Ans

- 1) 13 రోజులు
- 2) రక్షణ
- 3) బిర్ సర్కస్-II
- 4) డెవలప్ మెంట్ ప్రాజెక్ట్

31. B.

Ans

- 1) డైరెక్ట్ ప్లాన్
- 2) నెట్వర్క్ ప్లాన్
- 3) మిక్చర్డ్
- 4) ఫోలో

32. A

Ans

- 1) కార్యక్రమాల పథకం ద్వారా కార్యక్రమాలను పరిష్కరించుకోవాలి.
- 2) రెండు రకాల మధ్య తేడాలు సౌకర్యాల పెంచాలి.
- 3) వాగ్దేహి, క్రైడల్, సినిమా ద్వారా సైనిక సంబంధాల పెంచుకోవాలి.
- 4) రెండు రకాల వలన కార్యక్రమాల యోజన చేయాలి.
Ex: లాహార్ లుక్కు యోజన
- 5) ప్రకృతి వైపరీత్యాల సమయంలో ~~...~~ రెండు రకాల సహకారం పెంచుకోవాలి.
- 6) కనీసం రై రెండు రకాల కురి పోవాలి.
- 7) సరిహద్దు ప్రాంతాలను కార్యక్రమాల ద్వారా కనీసం పెంచుకోవాలి.
- 8) అంతర్జాతీయ సమస్యలపై కురి పోవాలి చేయాలి.
- 9) కార్యక్రమాల సాంకేతిక పరిష్కారాలను విభిన్న చేయాలి.

32. B.

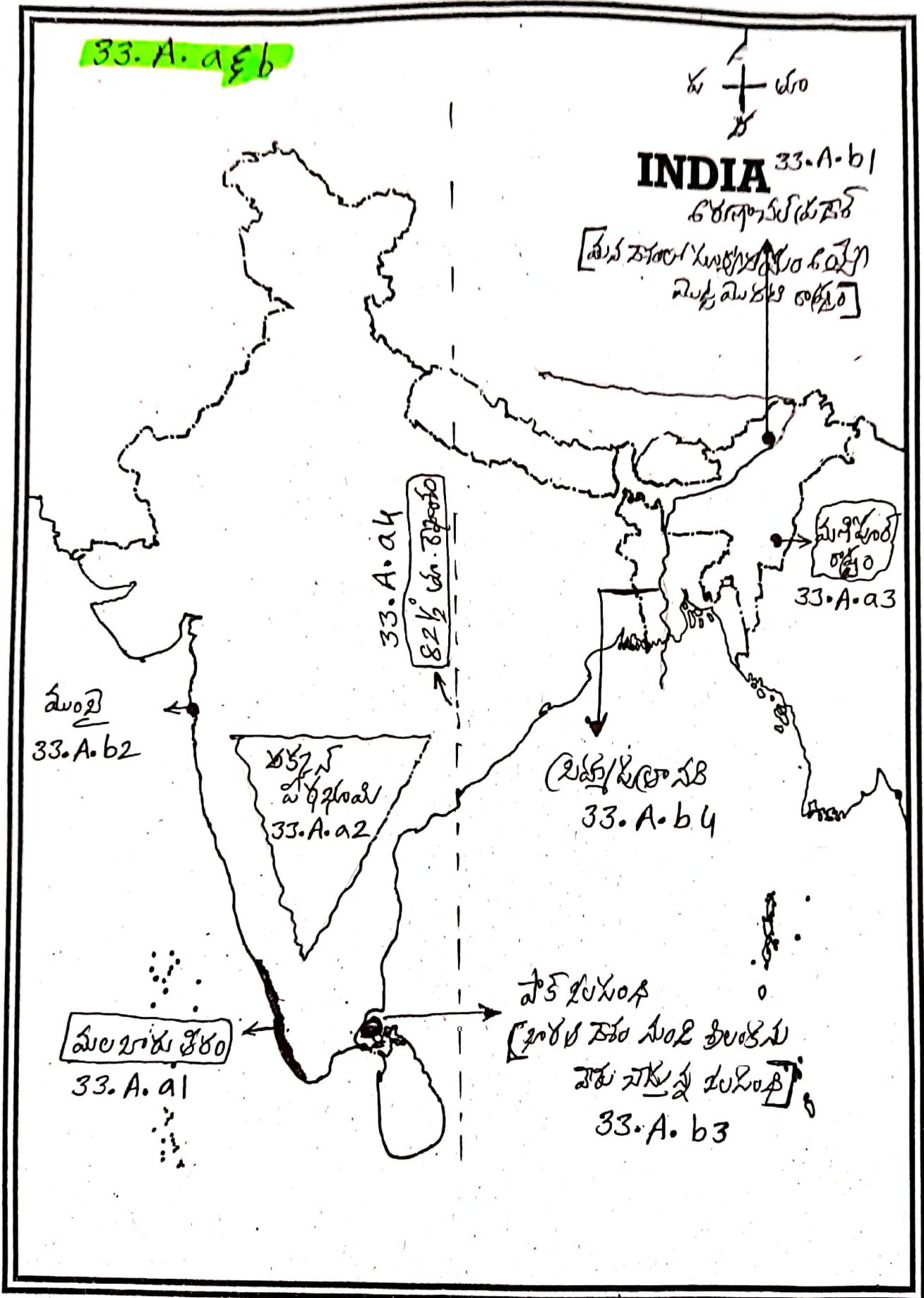
Ans

- 1) మన రాజ్యం సమూహం హక్కు వట్టం 2005లో చేయబడినది.
- 2) శుభుల్లం శుభుకాసం ప్రవాహపట్టిన వివిధ పథకాల మంజూరు వారి లక్ష్యాలు గురించి తెలుసుకోవచ్చును.
- 3) మన రాజ్యం ఏ ప్రాంతానా, ఏ శుభుల్లం కాని మంజూరు క్రింది కారణ సమూహం పొందవచ్చును.
- 4) సమూహం హక్కు వట్టం ద్వారా శుభుల్లం కాని శుభుల్లం హక్కు వట్టం శుభుల్లం వచ్చెను.
- 5) ధర్మ పాలనలో పాపకర్మకలను పెంచి, వేదాంతాని లక్ష్యం చేస్తుంది.
- 6) సమూహం హక్కు వట్టం ప్రజలలో శుభుల్లం కలవాడును పెంపొందించినది.
- 7) సమూహం కార్యం చెల్లించాల్సిన ఫీజు నామ మాత్రమే.
- 8) సమూహం హక్కు వట్టం ద్వారా మన రాజ్యం బాగు కుంభకార్యంను బయట పెట్టడం కలిగినది.
- 9) మన రాజ్యం ప్రతి ప్రాంతం సమూహం హక్కు వట్టం గురించి మంచి తెలుసుకోవలెను.

❖ All the Best ❖

Prepared by,
 K. SIVA RAMA PRASAD
 S.A., (S.S)
 Z.P.H.S., MATLAM
 KRUTHIVENNU MANDAL.

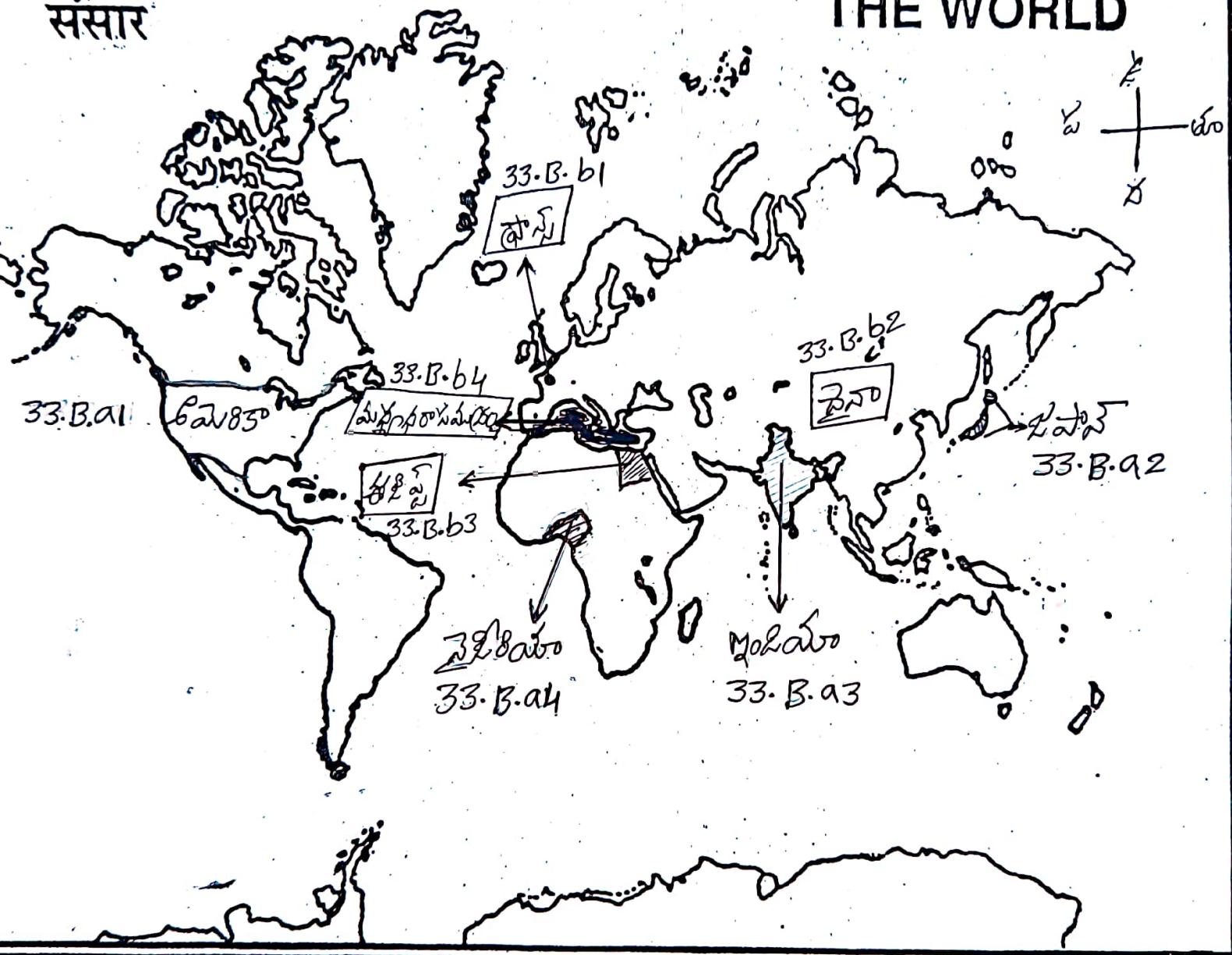
Attach MAP to the main answer book of Part A



33.B.aEb

संसार

THE WORLD



DCEB KRISHNA
SSC PUBLIC EXAMINATIONS - JULY - 2020
SOCIAL STUDIES - Paper - I & II
MODEL PAPER
(English Medium)

Time : 3 - 15 Hrs.]

[Max. Marks : 100

Instructions :

- 1) 15 minutes are allotted for reading the question paper in addition to 3.00 hours for writing the answers.
 - 2) All answers should be written in the separate answer booklet.
 - 3) There are four sections in the question paper.
 - 4) There is internal choice in Section - IV.
-

SECTION – I

Note : 1) If any question is answered more than once in this section, the earlier answer will only be considered.

2) Answer all the questions.

3) Each question carries 1 mark.

12 x 1 = 12

1. Expand U.N.D.P.
2. Based on the relationship between the information in the first pair, complete the second pair.

Nilgiris : Doda Betta :: Anaimalai Hills : ?

3. Identify the odd one from the following and notedown which sector they belong to

Postman, Vegetable vendor, Soldier, Doctor

4. What are the first and last months according to the Indian (lunar) calendar ?

[Turn Over

5. Read the following statements :

X - A census is the procedure of systematically acquiring and recording information about the members of a given population.

Y - Sex ratio is the number to females per 1000 males in the population.

Identify the correct statement / statements

- Only X
- Only Y
- Both X and Y
- None of the above

6. Identify the wrongly matched pair and write in the answer booklet.

Infosys	IT
Ranbaxy	Paints
Sundaram Fasteners	Nuts and Bolts

7. Based on the relationship between the information in the first pair, complete the second pair.

Mao Zedong : China :: Ho Chi Minh : ?

8. In which state did the Anti - Hindi agitation started ?

9. Match the logo in the box A, with the international organisations in the box B, and write down in the answer sheet.



BOX - A

- International women's Human Rights Organisation
- International Women's Court of Justice
- International Women's Suffragist Movement an Organisation

BOX - B

[Contd... 3rd

10. Who is the present Secretary General of United Nations Organisation ?
11. Identify the related statement / statements to Jawaharlal Nehru, and writedown in answer booklet.
- First President of Free India
 - Founder of Non-Alignment Movement
 - Drafting Committee Chairman
 - First Prime Minister of Free India
12. Arrange these countries from North to South according to their location.
Italy, Norway, Germany, Nigeria

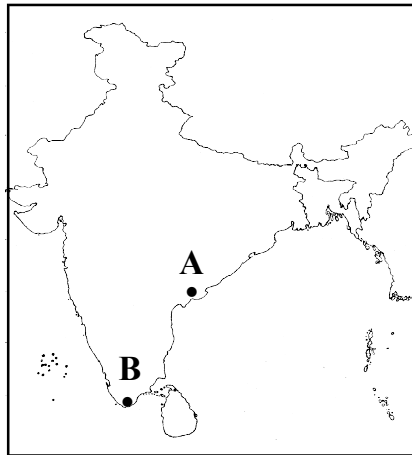
SECTION – II

Note : 1) Answer all the questions.

2) Each question carries 2 marks.

8 x 2 = 16

13. What is multiple cropping system ?
14. What are the factors that influenced the development of Visakhapatnam ?
- 15.



- i) Identify the lake that represents the letter 'A' in the given map.
- ii) Which area does the letter 'B' represent in the given map ?

16. "Most children of migrant families become drop-outs". Do you agree with this statement ? Justify your answer.
17. Write about Tebhaga Movement ?

[Turn Over

18. Do you support the Lok Adalat ? If so, Why ?
19. Based on the information given below, answer the following questions.

The Bloody Sunday and the Revolution	Abdication of the Tsar. Bolshevik uprising in petrograd	The Civil War	Formation of commintern
1905	1917	1918-20	1919

- A) Who are called Tsars ?
- B) Name the international organisation formed by the communists ?
20. Write a few slogans to bring awareness in the people about the prevention of Corona Virus (covid - 19)

SECTION – III

Note : 1) Answer all the questions.

2) Each question carries 4 marks.


8 x 4 = 32

21. What can be done so that migrants are able to get food, health and family care programmes ?
22. Write about the Ganga River system ?
23. Classify the following list of occupations under Agriculture, Industry and service sector and give reason for your classification in the given form of table.
- Fishermen, Money lender, workers in the match factory, call centre employee

Sl.No.	Name of the Occupation	Classification	Reason

[Contd... 5th

24. Observe the picture and answer the following questions.

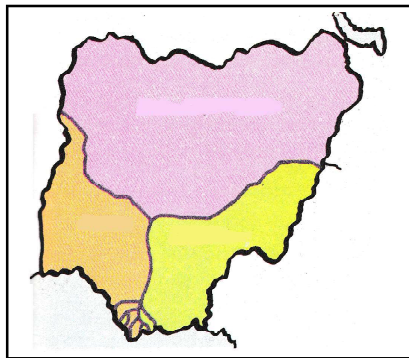


- i) Write the two suitable slogans that best represents the given picture.
- ii) What does the picture tell about globalisation ?

25. Write about the World Health Organisation (W.H.O).

26. What do you think was the difference between the position of the British King and the President of India ?

27. Observe the given picture and answer the following questions.



- A) Which country does the given map belong to ?
- B) Given country is the colony of which country ?
- C) To which continent does the given country belong to ?
- D) When did the given country get Independence ?

28. “Today the poor people often do not get to benefit from schemes introduced by the governments”. Mention the steps should be taken to ensure that such benefits really reach the poor ?

[Turn Over

SECTION – IV

- Note :** 1) Answer all the questions.
2) Each question carries 8 marks.
3) There is internal choice for each question. **5 x 8 = 40**

29. A) Why the population increased continuously after Indian Independence ?

(OR)

B) Why did the people of Jalsindhi village refuse to move out of the village ?

30. A) “Our country could not achieve self sufficiency in the production of food grains” - Comment.

(OR)

B) “Indo - gangetic plains have high density of population”. Illustrate with your reasons.

31. A) Based on the given information, answer the following questions.

“Russia followed the Julian calendar until 1st February 1918. The country then changed to the Gregorian Calendar. The Gregorian dates are 13 days ahead of the Julian dates”.

Questions :

1. How many days are Gregorian Calendar ahead of the Julian Calendar ?
2. In which country does the Bolshevik Revolution take place ?
3. Who is the last Tsar ?
4. Which Calendar is followed all over the world today ?

(OR)

B) Read the following table, and answer the following questions.

Silent Valley	Kerala
Bhopal Gas Disaster	1984
Anti - arrack movement	Dubagunta
Armed Forces Special Powers Act	Manipur
Irom Sharmila	Iron lady of Manipur

[Contd... 7th

Questions :

1. In which area do you find the lion tailed macaque ?
 2. In which district is Dubagunta located, where anti- arrack movement started first ?
 3. In which state did Meira Paibi Movement happen ?
 4. In India which city did industrial gas disaster happen in 1984 ?
32. A) Suggest a few steps to build lasting peace in between India and Pakistan.

(OR)

- B) “Right To Information Act is a powerful weapon in the hands of common man” - write your opinion.
33. A) Mark the following on the outline map of INDIA. **4 M**
- | | |
|--------------------|---------------------------------|
| a) 1. Malabar Cost | 2. Deccan Plateau |
| 3. Manipur State | 4. $82\frac{1}{2}$ E. Longitude |

(OR)

- b) 1. The state that gets first sun-rise in India
2. Mumbai
3. The strait separating Srilanka from India
4. Brahmaputra River
- B) Mark the following on the outline map of WORLD. **4 M**
- | | |
|-------------|------------|
| a) 1. U.S.A | 2. Japan |
| 3. India | 4. Nigeria |

(OR)

- b) 1. France
2. China
3. Egypt
4. Mediterranean sea



SOCIAL-STUDIES, MODEL PAPER E.M.,

REFERENCE KEY FOR MODEL SOCIAL-PAPER

SOME IMPORTANT INSTRUCTIONS:

→ These Answers are only for the awareness of students.

→ Any other related and correct answers should also be considered.

→ For 1 mark questions - Answers should be in 1 or 2 sentences.

For 2 marks questions - Answers should be in 2 or 4 sentences.

For 4 marks questions - Answers should be in From 4 To 6 sentences.

For 8 marks questions - Answers should be From 8 To 10 sentences.

→ Try to write some more points for 4 marks, and 8 marks questions.

→ All the Best →

Time: 3-15 Hrs.

Max. Marks: 100

SECTION-I

Note: 1. If any question is answered more than once in THIS SECTION, the earlier answer will only be considered.

2. Answer All the questions.

3. Each question carries 1 mark.

II - UNIT

1. United Nations Development Programme
2. Anaimudi
3. Vegetable vendor
unorganised sector
4. Chaitra
phalguna
5. Both X and Y
6. Ranbaxy - Paints
7. Vietnam

P.T.O

8. Tamil Nadu

9. International Women's Subjugist Movement an organisation.

10. Antonio Guterres

11. Founder of Non-alignment Movement.
First prime Minister of Free India.

12. Norway, Germany, Italy, Nigeria

SECTION-II

Note: 1) Answer all the questions.

2) Each question carries 2 marks.

13. Ans 1) To grow more than one crop on the same piece of land during the year is known as multiple cropping system.

2) It is the most common way of increasing production from land.

14. Ans 1) Visakhapatnam is the important sea port on the East-Coast of our country.

2) It has well developed Transport facilities

3) More Educational and Employment opportunities are available here.

4) people migrate very much to visakhapatnam.

P.T.O.

15.
Ans
- i) kolleru lake
 - ii) cape of kanyakumari

16.
Ans
- 1) yes, I agree with the above statement
 - 2) As some migrants migrate in the middle of academic year, their children drop-out from the schools.
 - 3) schools are not available in the migrate areas.
 - 4) Language problem, child care, ill-health are other reasons.

17.
Ans
- 1) An agitation was started in Bengal by small and poor peasants who took land of the bigger landowners to cultivate.
 - 2) They demanded that their share of harvest should be increased to two portions out of three instead of half or even less, that was given to them at that time.
 - 3) This was called the Tebhaga movement.

18.
Ans
- i) I support Lok Adalats, why because
 - ii) Lok Adalat means "people's court."
 - iii) These are available to the common people
 - iv) They gained popularity through the settlement of the problems of the poor, without any expenses.

P.T.O.

19. Ans A) The former emperors of Russia are called "Tsars".

B) Comintern

20. Ans (i) Let maintain physical-distance - driven away the corona.

(ii) MaranIntlo - corona bayata.

(iii) Let maintain personal hygiene to prevent corona.

(iv) physical distance is snehamaraksha

SECTION-III

21.

Ans 1. The Government has to provide food grains through, ration shops, during the migrant period.

2. The government has to provide special hospitals during the migrant period.

3. The Government has to take responsibility of family care programmes to migrant people.

4. The Government supply nutritious food in working location.

5. The Government has to facilitate schools to the migrated children.

6. There should be one holiday in a week.

22.

Ans 1. The Ganga has twin sources.

P.T.O.

- 22.
- Ans 2. The main one is the Gangotri glacier where it is called the Bhagirathi.
3. The other is the Satopanth glacier north-west of Badrinath where it is called the Alakananda.
4. The two join at Devprayag to form the Ganga
5. It emerges from the hills of Haridwar.
6. The Ganga is joined by a large number of tributaries
7. A majority of them originate in the Himalayan ranges, but some of them have their source in the peninsular plateau.
8. The Ganga river system is the most important to our country.

23. The table shows the various occupations, and their classifications with reasons.

Ans

Sl. No	Name of the occupation	Classification	Reason
1.	Fishermen	Agriculture	Fishing is a Agricultural related occupation.
2.	Money Lender	service	Lending money for interest is a type of service
3.	Workers in match factory	Industry	production done with machinery in match-factory
4.	Call Centre employee	service	They provide service to their customers

P.G.O

24. i) A. Coconut water is replaced with Pepsi-cola.
 Ans B. pot water is replaced with Fridz water.

ii) A. Natural resources are encashed.
 B. By adding colours to water and selling it all over the world.

25.
 Ans

1. World Health Organisation (W.H.O) is established to protect the health of the world people.
2. It's headquarter is located at Geneva in Switzerland.
3. It eradicated smallpox completely.
4. It is trying to control the diseases like AIDS and J.B.
5. It controlled the dreadful disease called Ebola.
6. At present W.H.O, providing guidelines to prevent Corona (Covid-19)

26.
 Ans

The British king	The president of India
1. The throne of the king is hereditary	1. The president of India was elected by the parliament indirectly
2. The king continued throughout his life	2. The term of president is 5 years.
3. The king to act as the head of the state	3. The president act as nominal authority to our country. (The powers of the president is nominal)

P.T.O.

27.
Ans A) Nigeria
B) Britain
C) Africa
D) 1963, October 1st

28.
Ans 1. To increase literacy.
2. The government has to educate all government programmes have to be informed to the people.
3. All government employees should be honesty.
4. The government has to take severe actions on corrupted officers.
5. Welfare programmes have to be announced to the people through T.Vs, and radios.

SECTION-IV

- Note: 1. Answer all eight questions
2. There is a internal choice for each question
3. Each question carries 8 marks.

29.
Ans A) 1. Dreadful diseases are controlled, through the development of medical-sciences.
2. To control the droughts
3. Employment opportunities are increased
4. Death Rate decreased by the increased of medical facilities.

P.T.O.

5. one of the reason for increase in birth rate is ill-literacy of people.
6. Family planning programmes are not completely successful
7. Early child marriages
8. Waiting for a male baby is also one of the reason for increase in population

29. B.

Ans 1) Jalsindhi will be the first village to be submerged by the Sardar Sarovar dam.

2) The people of Jalsindhi had the relationship with their forest and village.

3) They treat forest as their mother, friend and doctor.

4) They don't know about the city culture.

5) They will face many problems, if they move to other place.

6) They don't find their customs in other place.

7) Their local deities are not found at other place.

8) So, the people of Jalsindhi village refused to move out of the village

30. A

Ans 1) As per the population growth rate, production of food grains not reached.

P.S.O,

01

30. A
Ans
- 2) Lack of proper water management systems.
 - 3) Our farmers are following traditional Agricultural methods.
 - 4) Lack of Loan-facilities
 - 5) Low level applying of fertilizers and pesticides.
 - 6) Our farmers not getting proper subsidy facilities.
 - 7) Increasing of small ~~land~~ plots of land
 - 8) Indian agriculture depends upon the monsoons.

30. B
Ans
- 1) Indo-gangetic plains have fertile soils, which are suitable for the growing many crops.
 - 2) perennial rivers are flowing through these plains.
 - 3) The crops like paddy and wheat are growing rich in this region
 - 4) These plains are suitable for drinking water and construction of houses.
 - 5) They are favourable conditions for employment.
 - 6) All favourable resources are available for human-settlements.
 - 7) These plains have well transport facilities.
 - 8) So, Indo-gangetic plains have high density of population.

P.T.O.,

31. A

Ans

- 1) 13 days.
- 2) Russia.
- 3) Czar Nicholas-II.
- 4) Gregorian calendar.

31. B.

Ans

- 1) silent valley.
- 2) Nellore.
- 3) Manipur.
- 4) Bhopal.

32. A.

Ans

- 1) Kashmir problem will be resolved through peaceful talks.
- 2) Transport facilities should be developed.
- 3) Friendly relationship should be developed through commerce, sports and movies.
- 4) Both heads of nations have to hold peaceful trips. Ex: Lahore bus trip.
- 5) Both countries co-operate each other during natural disasters.
- 6) Both countries have to fight against terrorism.
- 7) Maintain peaceful conditions at borders.
- 8) Both countries have to fight together on international issues.
- 9) Both countries have to transfer the knowledge of science and technology.

P.T.O.,

32.
Ans

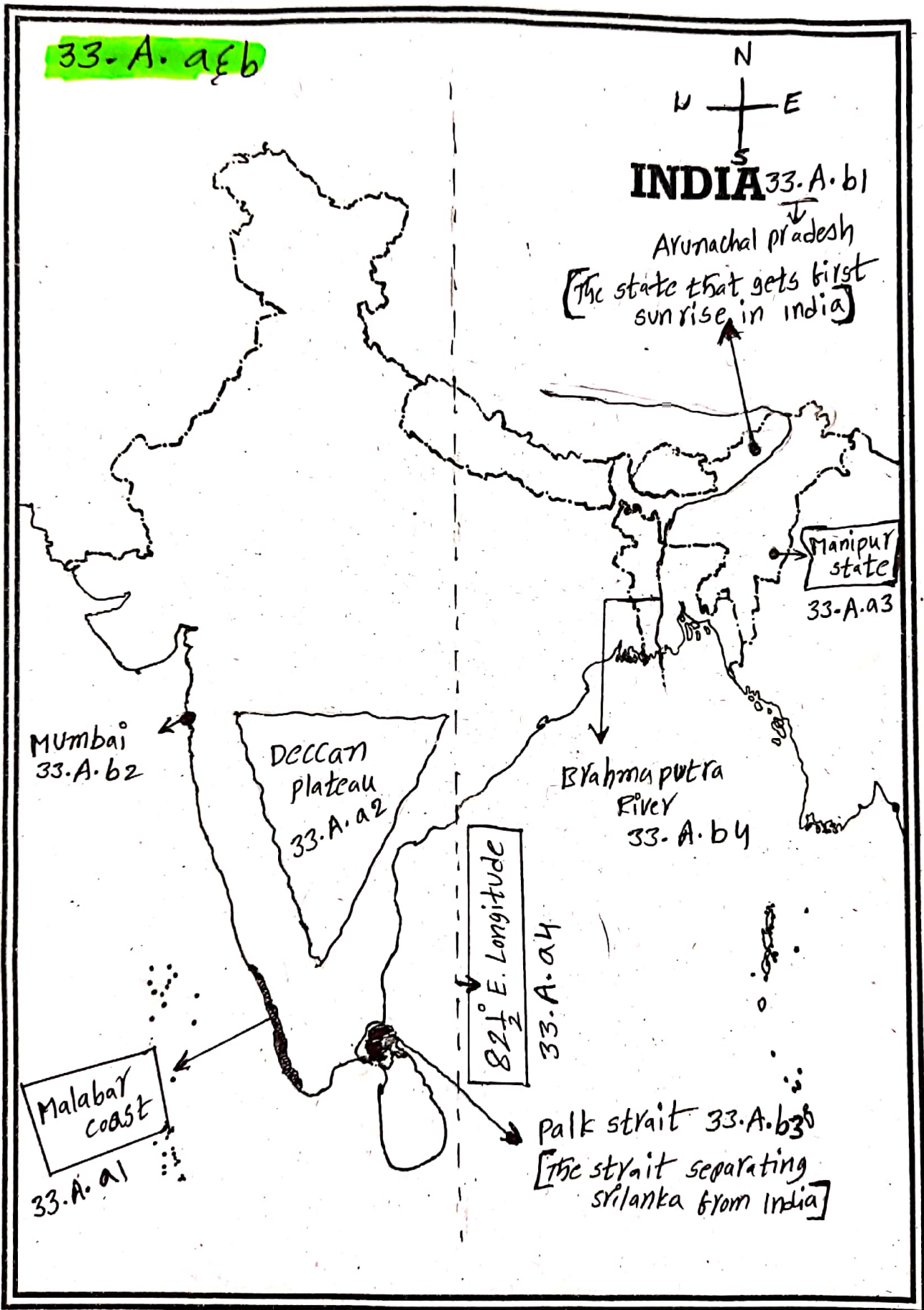
- B.
- 1) Right To Information Act (RTI Act) was made in 2005, by the parliament of India.
 - 2) Because of this Act, people know about the various governmental programmes and their beneficiaries.
 - 3) Any citizen of India can get information in any government sectors.
 - 4) Through RTI Act people got right to question, on government departments.
 - 5) RTI Act increasing transparency and decreasing corruption.
 - 6) It developed the nature of questioning among the people.
 - 7) Nominal Fee is collected for getting information.
 - 8) In India through RTI Act Coal scam was revealed.
 - 9) Every citizen of India has to know more about RTI Act.

~~✱~~ All the Best ✱

Prepared by,
K. SIVA RAMA PRASAD
S.A., (E.S)
Z.P.H.S., MATLAM
KRUTHIVENNU MANDAL

33. A. a & b

Attach MAP to the main answer book of Part A



33.B.a&b

संसार

THE WORLD

