



V - 37

SUMMATIVE ASSESSMENT - I - 2023 - 24

SOCIAL STUDIES

(English Medium)

Class : X

(Max. Marks:100)

Time : 3.15 Mnts..

	AS 1											AS2	AS 3	AS 4	AS 5			AS6	Grade																
Total Marks	40											40	15	10	15			10																	
Q.No.	1	3	5	7	8	10	11	12	17	18	21	23	24	25	28	29	28	29	2	19	26	31	13	22	27	4	6	9	16	20	33	15	32	Total	
Marks Alloted																																			
Marks Obtain																																			

Name of the student : Roll Number :

INSTRUCTIONS :

1. 15 minutes are allotted for reading the question paper in addition to 3.00 hour's which is allotted for writing the answers.
2. All answers should be written in the separate answer booklet
3. There are four sections in the question paper
4. There is an internal choice in section - IV
5. In question No. 33 both A & B (India map and World map) should be answered separately

SECTION - I

Note : 1. Answer all the questions.

2. Each question carries 1 mark.

12 x 1 = 12

1. Between which latitudes is India located?
2. Expand IBRD.
3. What is population density ?
4. Define class 1 cities.

[Turn Over

5. Find out the mis match.
Godavari – Nasik, Ganga - ?
6. Give examples for green house gases.
7. Which preamble refers to the word gender?
8. Who gave the slogan 'Do or Die'.
9. In which country we find the practice of 'foot binding'?
10. Who was depicted in the cartoon?



11. Which revolution is represented in this picture?



12. Arrange the following countries in east to west direction.
Brazil, Egypt, England, India.

SECTION - II

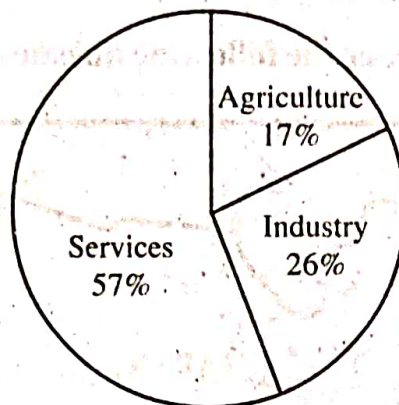
Note : 1. Answer all the questions.

2. Each question carries 2 Marks.

8 x 2 = 16

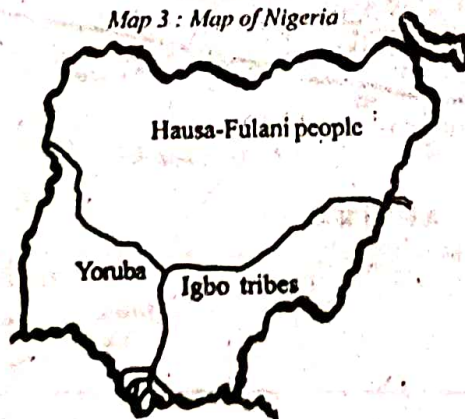
13. What are intermediate goods? Give examples
14. What is an Aerropolis? Give examples.
15. Name the factors of production.
16. Read the following data 'share of three sectors in GDP' and show it in a bar graph.

2009-2010



17. "Love of one's country leads to wars" comment.
18. Who is the present speaker of Lok Sabha and chairman of Rajya Sabha.
19. Write two slogans on preventing wars.
20. Read the map and answer the following questions.

Map 3 : Map of Nigeria



- a) Which river is shown in the picture.
- b) Name the tribes shown in the map.

[Turn Over

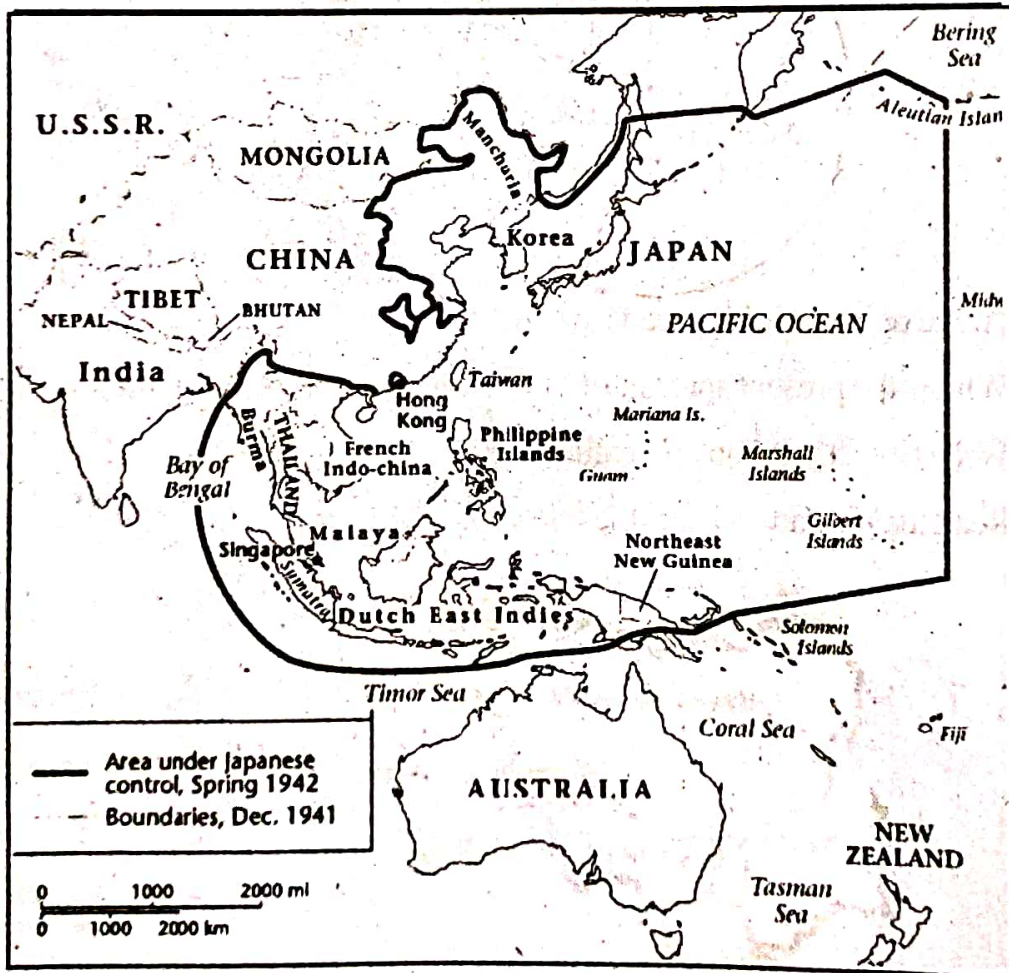
SECTION - III

Note : 1. Answer all the questions.

2. Each question carries 4 Marks.

8 x 4 = 32

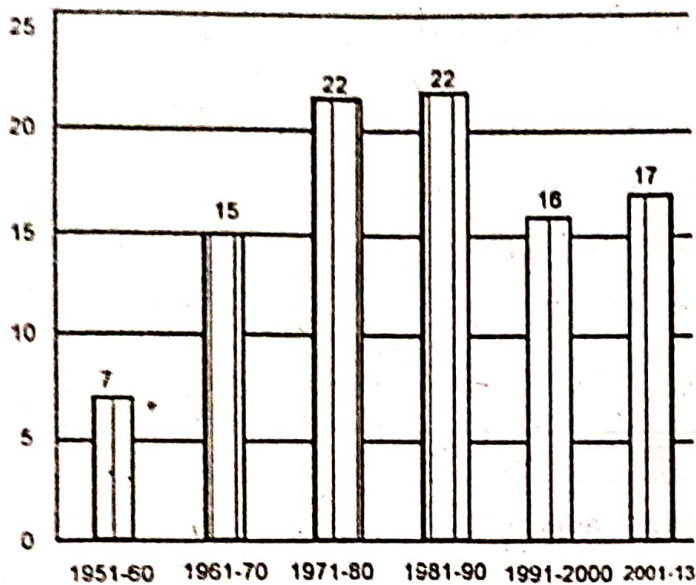
21. What are the causes for the growth of the Indian population ?
22. Why do you think parents accord less priority to girl's education when compared to boys? Explain.
23. How is organised sector different from Unorganised Sector?
24. Suggest some measures to lessen AGW?
25. Mention the effects of World Wars.
26. Read the below map and answer the following questions.



- a) Which area is marked in the map
- b) Name the island countries in the map.

[Contd... 5th

27. Convert the bar graph into a table.



Since the constitution was adopted on 26th January 1950 till 2013 nearly 99 amendments were made

28. Make a list of various reasons for the partition of the country ?

SECTION - IV

Note : 1. Answer all the questions.

2. Each question carries 8 Marks.

3. There is an internal choice for each question 5 x 8 = 40

29. a) Write about the School revolution in Himachal Pradesh.

(Or)

b) Explain about the basic principles of Indian Constitution.

30. a) "Ground water should be considered as a common pool resource." Explain your view.

(Or)

b) "Integration of various princely states in India was a challenging task. Is it true? - Explain.

31. a) Read the following paragraph and comment on it.

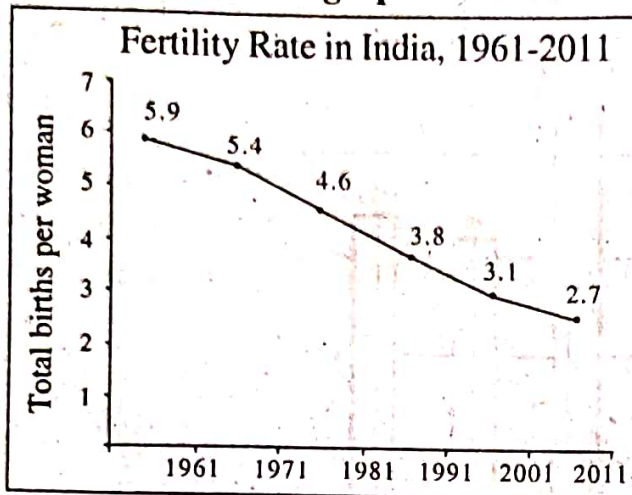
"The formation of the Himalayas influences the climate in various ways." - Comment.

(Or)

b) "With this began a great experiment of building a country without exploiters like feudal lords, Kings or capitalists. The USSR tried to build a society that was industrialised and modern and yet did not have inequality or exclusion of people on basis of birth, gender, language, etc.." Comment.

[Turn Over

32. a) Read the below line graph and answer the following questions.



- i) What does the above line graph indicate?
- ii) What is Fertility Rate?
- iii) How many children did a woman give birth in 1961?
- iv) How is the pattern of fertility rate changing?

(Or)

b) Read the time line and answer the following questions.

Beginning of First World war August 1	• 1914
Russian Revolution	• 1917
End of First World War	• 1918
Treaty of Versailles	• 1919
Formation of League of Nations	• 1919
Rise of Hitler in Germany	• 1933
Break out of Second World War	• 1939
German Invasion of USSR	• 1942
Formation of United Nations organisation	• 1945
End of Second World War August	• 1945



[Contd... 7th

- i) Which peace organization was established after World War - II ?
- ii) Which treaty caused World War - II ?
- iii) Expand USSR.
- iv) What was the immediate provocation for World War I ?

33. A) Locate the following in the given outline map of India.

- 1) Mt. K₂
- 2) Kolkata
- 3) Chota Nagpur Plateau
- 4) Western Ghats

(Or)

- 5) Bhopal
- 6) Aravalli Mountains
- 7) Utkal Coast
- 8) Godavari River.

B) Locate the following in the given outline map of World.

- 1) Red Sea
- 2) Germany
- 3) Japan
- 4) India

(Or)

- 5) England
- 6) Nigeria
- 7) Pacific Ocean
- 8) Vietnam



సంగ్రహణాత్మక మదింపు -1-2023-2024

సాంఘికశాస్త్రం

(తెలుగు మీడియం)

తరగతి: 10 వ]

(గరిష్టమార్కులు: 100)

[సమయం: 3.15 ని॥

	AS 1														AS2	AS 3	AS 4	AS 5	AS6	Grade														
Total Marks	40														40	15	10	15	10															
Q.No.	1	3	5	7	8	10	11	12	17	18	21	23	24	25	28	29	28	29	2	19	26	31	13	22	27	4	6	9	16	20	33	15	32	Total
Marks Alloted																																		
Marks Obtain																																		

విద్యార్థి పేరు : క్రమ సంఖ్య :

సూచనలు :

1. ప్రశ్నపత్రము చదువుకోవడానికి 15 నిమిషాలు, జవాబులు రాయడానికి 3.00 గం॥ సమయం కేటాయించబడింది.
2. అన్ని ప్రశ్నలకు సమాధానాలు సమాధానపత్రాలలో రాయండి.
3. ఈ ప్రశ్నాపత్రంలో మొత్తం 4 విభాగాలు (సెక్షన్లు) ఉంటాయి.
4. సెక్షన్ - 4 లో మాత్రమే అంతర్గత ఎంపిక ఉంటుంది.
5. 33వ ప్రశ్న A & B లో (భారతదేశపటం మరియు ప్రపంచ పటం) రెండింటికి విడివిడిగా సమాధానం ఇవ్వాలి.

సెక్షన్ - I

గమనిక : 1. అన్ని ప్రశ్నలకు జవాబులు రాయాలి.

2. ప్రతి ప్రశ్నకు 1 మార్కు

12 x 1 = 12

1. భారతదేశం ఏ యే అక్షాంశాల మధ్య ఉన్నది ?
2. IBRD ని విస్తరించుము.
3. జనసాంద్రత అనగానేమి ?



[Turn Over

4. క్లాస్ 1 నగరాలని వేటిని అంటారు ?
5. లోపించిన అంశాన్ని పూరించండి.
గోదావరి - నాసిక్, గంగానది - ?
6. హరిత గృహ వాయువులకు ఉదాహరణ ఇమ్ము.
7. ఏ దేశ రాజ్యాంగ ప్రవేశిక లింగం అనే పదాన్ని ఉదహరించింది.
8. 'సాధించు లేదా మరణించు' అనే నినాదాన్ని ఇచ్చినదెవరు ?
9. 'పాదాలను కట్టివేసే ఆచారం' ఏ దేశంలో మనం చూస్తాము ?
10. ఈ కార్టూన్ లో ఎవరిని చూపారు ?



11. ఈ క్రింది చిత్రంలో ఏ విప్లవాన్ని చూపారు ?



12. కింది దేశాలను తూర్పు నుండి పడమరకు అమర్చండి.
బ్రెజిల్, ఈజిప్ట్, ఇంగ్లాండ్, భారతదేశం

సెక్షన్ - II

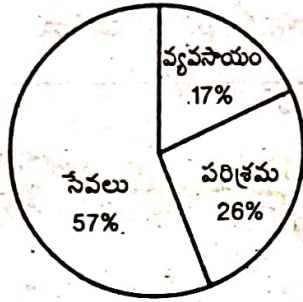
గమనిక : 1. అన్ని ప్రశ్నలకు జవాబులు రాయాలి.

2. ప్రతి ప్రశ్నకు 2 మార్కులు.

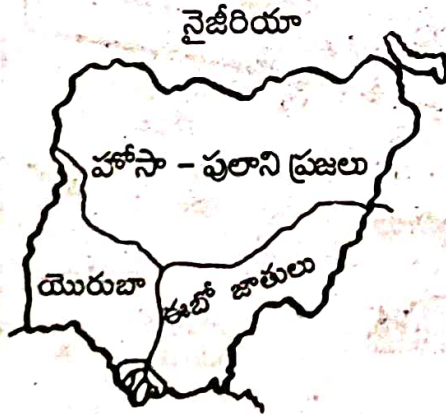
8 × 2 = 16

13. మధ్యంతర వస్తువులు అనగా నేమి ? ఉదాహరణ ఇమ్ము.
14. విమానాశ్రయ నగరం అనగా నేమి ? ఉదాహరణ ఇమ్ము.
15. ఉత్పత్తి కారకాల పేర్లు తెలపండి.
16. మూడు రంగాలలో చూపబడిన స్థూల జాతీయోత్పత్తి సమాచారాన్ని బార్ గ్రాఫ్ లో చూపుము.

2009-2010



17. తమ దేశం పట్ల ప్రజలకు ఉన్న ప్రేమ ఇతర దేశాలతో యుద్ధానికి దారితీస్తుందా ?
18. ప్రస్తుత లోక్ సభ స్పీకర్ ఎవరు ? రాజ్యసభ చైర్మన్ ఎవరు ?
19. యుద్ధాలను నివారించుటకు రెండు నినాదాలను వ్రాయుము?
20. క్రింది పటాన్ని పరిశీలించి దిగువ ప్రశ్నలకు సమాధానం వ్రాయుము?



అ) ఈ పటంలో చూపబడిన నది ఏది ?

ఆ) ఈ పటములో చూపబడిన జాతుల పేర్లు ఏమిటి ?

[Turn Over

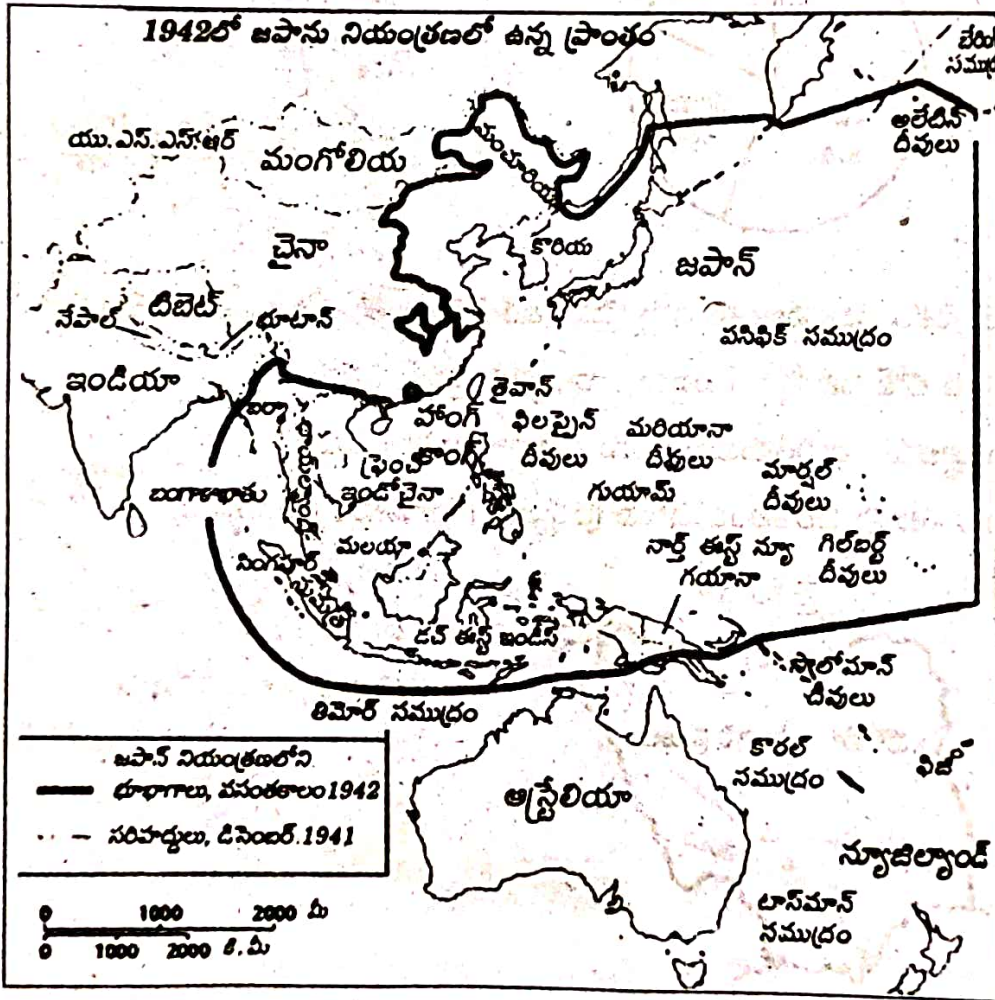
సెక్షన్ - III

గమనిక : 1. అన్ని ప్రశ్నలకు జవాబులు రాయాలి.

2. ప్రతి ప్రశ్నకు 4 మార్కులు.

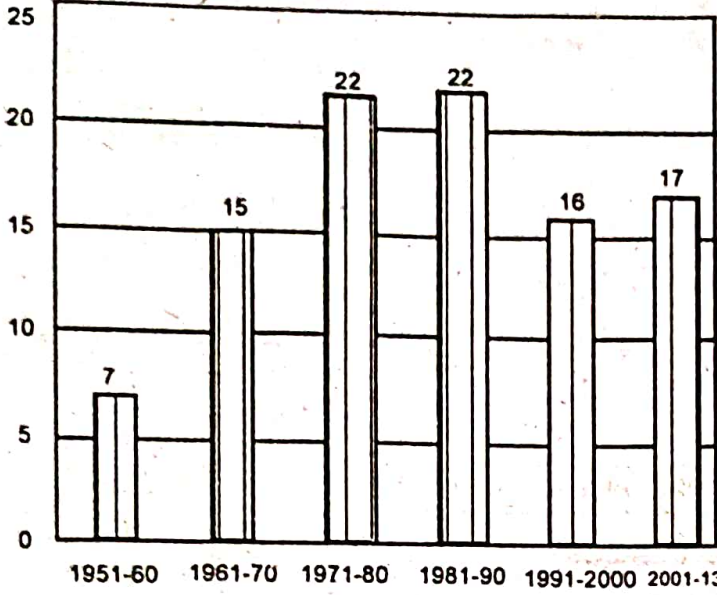
8 x 4 = 32

21. భారతదేశ జనాభా పెరుగుదలకు గల కారణాలేవి ?
22. అబ్బాయిలతో పోలిస్తే అమ్మాయిల చదువుకు తల్లిదండ్రులు తక్కువ ప్రాధాన్యత ఎందుకు ఇస్తారు ?
23. వ్యవస్థీకృత రంగం అవ్యవస్థీకృత రంగానికి ఏ విధంగా భిన్నమైనది ?
24. మానవ కారణంగా భూగోళం వేడెక్కడాన్ని నివారించుటకు కొన్ని సూచనలు చేయుము.
25. ప్రపంచ యుద్ధ ఫలితాలను వ్రాయుము.
26. క్రింది పటాన్ని పరిశీలించి దిగువ ప్రశ్నలకు సమాధానములు వ్రాయుము.



- అ) పటములో గుర్తించబడిన ప్రాంతం ఏమిటి ?
- ఆ) పటములో చూపబడిన ద్వీపదేశాలను పేర్కొనుము.

27. క్రింది బార్ గ్రాఫ్ను పట్టికలో చూపుము.



1950, జనవరి 26న రాజ్యాంగం అమలులోకి వచ్చిన నాటినుంచి 2013 వరకు దాదాపు 99 సవరణలు చేశారు

28. భారతదేశ విభజనకు దారితీసిన వివిధ కారణాల జాబితా తయారు చేయండి.

సెక్షన్ - IV

- గమనిక : 1. అన్ని ప్రశ్నలకు జవాబులు రాయవలెను.
2. ప్రతి ప్రశ్నకు అంతర్గత ఎంపిక కలదు.
3. ప్రతి ప్రశ్నకు 8 మార్కులు.

5 × 8 = 40

29. ఎ) హిమాచల్ ప్రదేశ్లో పాఠశాల విప్లవం గురించి వ్రాయండి.

(లేదా)

బి) భారత రాజ్యాంగంలోని మౌలిక సూత్రాల గురించి వివరించండి.

30. ఎ) “భూగర్భ జలాన్ని అందరికీ చెందిన వనరుగా పరిగణించాలి”. మీ అభిప్రాయాన్ని వ్రాయండి.

(లేదా)

బి) భారతదేశంలో వివిధ స్వదేశీ సంస్థానాల ఏకీకరణ ఒక సవాలుతో కూడుకున్న పని. ఇది నిజమా ? వివరించండి.

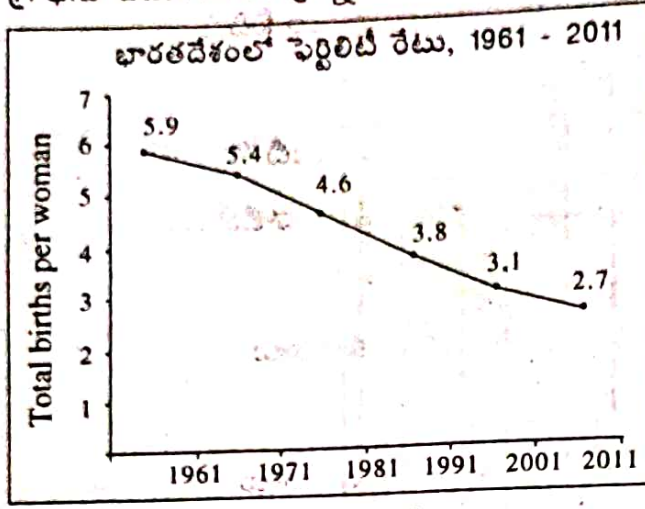
31. ఎ) “హిమాలయాల వల్ల శీతోష్ణస్థితి అనేక విధాలుగా ప్రభావితం అవుతుంది” వ్యాఖ్యానించుము.

(లేదా)

బి) “దీనితో ఫ్యూడల్ భూస్వాములు, రాజులు, పెట్టుబడి దారులు వంటి దోపిడీదారులు లేని దేశాన్ని నిర్మించటానికి ఒక బృహత్ ప్రయోగం మొదలయ్యింది. ఆధునిక, పారిశ్రామిక సమాజాన్ని నిర్మిస్తూనే అసమానతలు, పుట్టుక, లింగం, భాష వంటి ప్రాతిపదికన వివక్షత లేని సమాజాన్ని ఏర్పాటు చేయటానికి యు.ఎస్.ఎస్ ఆర్ ప్రయత్నించింది”. వ్యాఖ్యానించుము.

[Turn Over

32. ఎ) గ్రాఫ్ను చదివి దిగువ ప్రశ్నలకు సమాధానములు వ్రాయండి.



- అ) పై లైన్ గ్రాఫ్ దేనిని తెలియజేస్తుంది ?
 ఆ) ఫెర్టిలిటీ రేటు అనగా నేమి ?
 ఇ) 1961లో ఒక స్త్రీ ఎంతమంది పిల్లలకు జన్మనిచ్చింది ?
 ఈ) ఫెర్టిలిటీ రేటు సరళి ఏ విధంగా మారుతోంది ?

(లేదా)

బి) క్రింది టైంలైన్ చార్టును పరిశీలించి దిగువ ప్రశ్నలకు సమాధానములు వ్రాయుము.

కాల పట్టిక

మొదటి ప్రపంచ యుద్ధం ప్రారంభం, ఆగస్టు 1	• 1914
రష్యా విప్లవం	• 1917
మొదటి ప్రపంచ యుద్ధం ముగింపు	• 1918
వర్సయిల్స్ ఒప్పందం	• 1919
వానాజాతి సమితి ఏర్పాటు	• 1919
జర్మనీలో హిట్లర్ ప్రభావం	• 1933
రెండవ ప్రపంచ యుద్ధం ఆరంభం	• 1939
రష్యా పై జర్మన్ దండెత్తటం	• 1941
ఐక్యరాజ్య సమితి ఏర్పాటు	• 1945
రెండవ ప్రపంచయుద్ధం ముగింపు, ఆగస్టు	• 1945



[Contd... 7th

