

SOCIAL STUDIES - PAPER - I & II

MODEL PAPER

(Telugu Medium)

Time : 3.15 Hrs

Max Marks : 100 Marks

సూచనలు:

1. జియాయిల రాయడానికి కీలాయిలబడిన 3 గుంల సమయమునకు ఉదనగా ప్రశ్నపత్రం చదువుకీపడానికి 15 నిమిషాల సమయం ఇవ్వబడినది.
2. -అన్ని జియాయిలను విడిగా ఇచ్చిన జియాయి పుస్తకమునందే రాయవలె.
3. ప్రశ్నపత్రం నందు 4 విభాగములు ఉన్నాయి.
4. 4వ విభాగం నందు -అంతర్గత వివిత (ఇంటర్నల్ ఛాయిస్)కు -ఉదాహరణ ఉంది.

SECTION - I

Note: 1. ఈ విభాగం నందు ఏదైనా ప్రశ్నకు బహు కంటే ఎక్కువ మార్కు జియాయిలు రాసినట్లుంటే, మొదలంగా రాసిన జియాయి మాత్రమే పరిగణనలోకి తీసుకోబడుతుంది.

2. -అన్ని ప్రశ్నలకు జియాయిలు రాయండి.

3. ప్రతి ప్రశ్నకు 1 మార్కు

12x1 = 12 Marks

1. మొదటి శ్రేణులకు సంబంధించి సరైన వాక్యం
 - ఎ) ఈ శ్రేణుల సంఖ్య ఎక్కువ 3700 - 4500 మే
 - బి) పిఠ పంజెత్, మహా బాధ శ్రేణులు ఈ శ్రేణులలో ఉన్నాయి.
 - సి) జీవ నడులు నిలయం ఈ శ్రేణులలో
 - డి) కులు, కాంగ్రా లాయలు ఈ శ్రేణులలో ఉన్నాయి.

2. క్రింది వానిలో తప్పుగా జత చేయబడినది ఏది?
 - ఎ) సైలెంట్ వ్యాళి - కీరళ
 - బి) చిహ్నం - ఉత్తరాఖండ్
 - సి) నవ్వు బహుళి - కర్ణాటక
 - డి) సింఢియ రాష్ట్రం - సిక్కిం

3. క్షేత్ర - అంతర్జాతీయ విమానాశ్రయం ఏ దేశంలో ఉంది?

4. సామాజిక చట్టం, మన దేశం గురించి ప్రయోజనం, మన వారుగా దేశాలలో సమస్యలలో కలిసి ఒక వది పేరు ప్రయోజనం?
5. కర్మ, బహు, మధ్య, హయనా లక్ష్యాలను అవి ఉన్న ప్రకారం అర్థంగా ఉత్తరం నుండి ఉద్భవించినట్లు - అమర్చి రాయండి.
6. వ్యవస్థాపక - అవ్యవస్థాపక రంగాల పోలిక

రంగం	పంట (మొత్తంలో శాతం)	
	ఉపాధి	స్థూల జాతీయ ఉత్పత్తి
వ్యవస్థాపక	8	50
అవ్యవస్థాపక	92	50
మొత్తం	100	100

ప్రశ్న: ఏ రంగాలలో ఉపాధి అక్కర్లేగా ఉంది, ఉత్పత్తి అక్కర్లేగా ఉంది?

7. క్విట్ ఇండియా ఉద్యమంలో గాంధీజీ ఇచ్చిన సందేశం _____
8. ఒక పదం పేరు ఉద్యమం పేరుగా కలిసిన ఉద్యమం ఏది?
9. యూదులు ఏ ప్రాంతాన్ని / ఏ దేశాన్ని తమ వాళ్ళకు భూమిగా పరిగణిస్తారు?
10. క్రింది వానిలో సరికాని జాతను - గుర్తించండి.
 - ఎ) UNESCO - పారిస్
 - బి) WHO - జెనీవా
 - సి) UNICEF - న్యూయార్క్
 - డి) అంతర్జాతీయ న్యాయస్థానం - ది హేగ్

11. అమెరికన్ పౌర హక్కుల ఉద్యమంలో "నాకొక కల ఉంది" అని ప్రఖ్యాత ఉపన్యాసం ఇచ్చిన వ్యక్తి ఎవరు?

వ్యక్తి
Photo

12. SALT ను విస్తరించండి.

SECTION - II

8x2 = 16 Marks

13. నాటి సంరక్షణకు తోడుకొవలసిన రెండు చర్యలు సూచించండి?
14. ఫెర్డిలిటో గ్రామ్ (Page No 80)
 - ఎ) అత్యధిక ఫెర్డిలిటో గ్రామ్ ఏ సం॥లో వసూరు అయ్యింది?
 - బి) ఫెర్డిలిటో గ్రామ్ తగ్గడానికి కారణమేమిటి?
15. పురస్కారం అనగా ఏమిటి?

16. ఏమైనా రెండు పట్టణాలను సమస్యలను పేర్కొనండి?

17. భారతదేశం యొక్క వాతావరణం గుర్తింపు తెలియజేయండి?

18. ఏక అక్షరాల యొక్క ప్రయోజనాలు తెలియజేయండి?

19. క్రింది సంఘటనలను సరైన కాల క్రమంలో అమర్చండి.

క్రిస్టు రుయ భారం, ముస్లిం లిగ్ స్థాపన, భారత ప్రజా గాంధీజీ మరణం, ప్రత్యేక కార్యచరణ దినం

20. ఇన్వెట్రిబుల్ మ్యాప్ ద్వారా క్రింది ప్రశ్నలకు సమాధానాలు రాయండి

సైజురియూ పేజీ (Page No 213)

i) సైజురియూ ప్రాంతంలో నివసిస్తున్న తెగ పేరిమిటి?

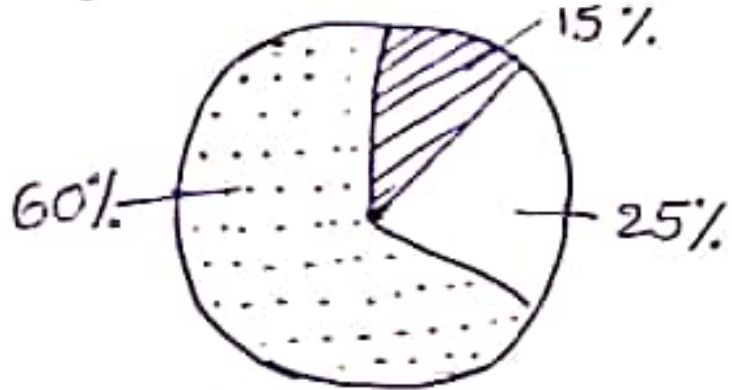
ii) ఈ దేశంలో ప్రధాన భవిష్య వనరు ఏది?

SECTION - III

8x4 = 32 Marks

21. కఠినమైన వైరస్ వ్యాప్తి నివారణలో భాగంగా భారతదేశం తీసుకున్న చర్యలు రాయండి?

22. క్రింది వివరాల ఆధారంగా క్రింది ప్రశ్నలకు సమాధానాలు రాయండి
రాంప్రసాద్ జనాభా 2660



☐ గుడిసెలు, తాలూకు ఇళ్లు

▨ సిమెంట్లు, ఇటుకలతో కట్టిన డాబా ఇళ్లు

□ పెంకులిళ్లు

i) రాం ప్రసాద్ ప్రాంతంలో ఏ రకపు ఇళ్లు అధికంగా ఉన్నాయి?

ii) రాం ప్రసాద్ ప్రాంతంలో 60% ప్రజలు ఏ తరగతికి చెందినవారు?

iii) రాంప్రసాద్ ప్రాంతంలో మధ్య తరగతికి చెందిన ప్రజల జనాభా సుమారుగా ఎంత ఉండవచ్చు?

iv) సిమెంట్లు, ఇటుకలతో కట్టిన డాబా ఇండ్లలో ఎవరు నివసిస్తున్నారని భావిస్తున్నావు?

23. క్రింది మ్యాప్లను పరిశీలించి, ప్రశ్నలకు జవాబులిమ్మని
భారతదేశంలో సైజురియూ రుతుపవనాల ప్రవేశం (Map - Page No 52)
భారత దేశంలో సైజురియూ రుతుపవనాల నిష్క్రమణం

i) సైజురియూ రుతు పవనాలు ఏ సెలలో ప్రారంభమవుతాయి?

ii) సైజురియూ రుతు పవనాలు ఏ సెల నుండి నిష్క్రమిస్తాయి?

iii) దేశ రాజధాని ఢిల్లీ ప్రాంతానికి రుతుపవనాలు ఎప్పుడు చేరుతాయి?

iv) తమిళనాడు నుండి రుతుపవనాలు ఎప్పుడు నిష్క్రమిస్తాయి?

- 24. "ప్రజా పంపిణీ వ్యవస్థ ప్రజలకు ఆహార భద్రత ఉండాలి చూడాలను" ఈ వ్యాఖ్యను సమర్థించండి.
- 25. ఏక కేంద్ర - సమాఖ్య ప్రభుత్వ వ్యవస్థల మధ్య గల తేడాలను తెల్పండి?
- 26. ఒక దేశం తన పౌరుగు దేశాలతో సైనిక ప్రాతిపది సంబంధాన్ని కలిగి ఉండాలనికే నివిచ్ఛే సూచనలు ఏవి?
- 27. ఇవ్వబడిన గ్రాఫ్ ను పరిశీలించి, క్రింది ప్రశ్నలకు సమాధానాలు రాయండి.
USSR / USA వద్ద అణ్వాయుధ నిల్వలు గ్రాఫ్ (Page No - 234)
- i) 1955 - 2005 మధ్య కాలంలో ఏ దేశం యొక్క అణ్వాయుధాల సంఖ్య తక్కువగా ఉంది?
- ii) 1985 సం॥ తరువాత నుండి అణ్వాయుధాల నిల్వలలో తగ్గుదల ఎందుకు వచ్చింది?
- 28. "సమాచార హక్కు చట్టం ప్రకారం ఏ సమాచారం అధికారి అయినా సమాచారం ఇవ్వకపోతే చట్టం జరిమిగా చెల్లించాల్సి ఉంటుంది" - శుభ వినితో ఏకీభవిస్తారా?

SECTION - IV

5x8 = 40 Marks

- 29. ఊర్బు తీర మైదాన ప్రాంతాలు, పడమటి మైదాన ప్రాంతాల మధ్య పోలికలు, తేడాలు ఏమిటి?
- 30. ప్రజలు అవస్థాత్మక రూపంలో పని చేయడానికి సాధారణంగా ఇష్టపడటం ఎందుకని?
- 30. 2013 లో భారత దేశం, దాని పౌరుగు దేశాలకు సంబంధించిన కొన్ని విషయాలు

పట్టిక Page No - 23

- పట్టికను పరిశీలించి, క్రింది ప్రశ్నలకు సమాధానాలు రాయండి.
- i) తలసరి ఆదాయం ను ఏ విధంగా రెక్కెస్తారు?
- ii) ఆయం: ప్రమాణ రేటు అంటే ఏమిటి?
- iii) ఏ రెండో దేశాలు HDI సూచికలో ఒకటి స్థానం కలిగి ఉన్నాయి?
- iv) ఆయం: ప్రమాణ రేటు ఒకటి విధంగా ఉన్న దేశాలేవి?

(OR)
క్రింద ఇవ్వబడిన పట్టికను చదివి, దిగువన ఉన్న ప్రశ్నలకు సమాధానం రాయండి.

- i) అక్షరాస్యత అంటే ఏమిటి?
- ii) నికరు హాజరు శాతం ఏ రాష్ట్రంలో ఎక్కువగా ఉంది?
- iii) హిమాలయ ప్రదేశ్ లో అక్షరాస్యత అధికంగా ఉండడానికి గల కారణమేమిటి?
- iv) శిశు మరణాలు తక్కువగా ఉన్న రాష్ట్రం ఏది?

31. 20 వ శతాబ్దాన్ని తొమ్మిది సతాబ్దాల యుగం అని పిలువడానికి గల కారణాలు వివరించండి?

(OR)

భారత రాజ్యాంగంలోని మౌఖిక సూత్రాల గుర్తింపును వ్యాసం రాయబో

32. ఇవ్వబడిన కాల నిర్ణయ పట్టికను పరిశీలించి, క్రింది ప్రశ్నలకు సమాధానాలు రాయండి.

- i) రష్యన్ విప్లవం కాల నాటి రష్యా రాజు ఎవరు?
- ii) రెండవ ప్రపంచ యుద్ధానికి తక్షణ కారణమేమిటి?
- iii) నానాజాతి సమితి ఏర్పాటులో కీలక పాత్ర పోషించిన అమెరికా అధ్యక్షుడు ఎవరు?
- iv) రెండవ ప్రపంచ యుద్ధంలో అమెరికా జిసాన్ లోని ఏ సగంల పై అణుబంబులు వేసింది?

(OR)

ఇవ్వబడిన గ్రాఫ్ ను పరిశీలించి, వివిధ దేశాల మధ్య పెరిగిన డ్రాము వాటాని విశ్లేషించుము.

33. A) ఇండియా అవుట్ లైక్ పటంలో క్రింది అంశాల్ని గుర్తించండి.

- | | |
|---|--|
| <p>A) 1. కేరళ
2. అస్సామీకి శిఖరం
3. మేఘాలయ
4. గోదావరి నది</p> | <p>B) 1. తూర్పు కనుమలు
2. పశ్చిమ బెంగాల్
3. సిక్కిం
4. హిమాలయ ప్రదేశ్.</p> |
|---|--|

B) క్రింది దేశాలను ప్రపంచ అవుట్ లైక్ పటంలో గుర్తించండి.

- A)
- 1) వియత్నాం
 - 2) ఇండోనీ
 - 3) పసిఫిక్ మహా సముద్రం
 - 4) జపాన్

- B)
- 1) బంగ్లాదేశ్
 - 2) బ్రెజిల్
 - 3) నైజీరియా
 - 4) భారత దేశం.

32 A వ ప్రశ్న

పట్టిక 5 : 2011 లో భారతదేశం, దాని పొరుగు దేశాలకు సంబంధించిన కొన్ని వివరాలు

దేశం	తలసరి ఆదాయం, డాలర్లలో	అయి: ప్రమాణం సంవత్సరాలలో	సగటున బడిలో గడిపిన సంవత్సరాలు	పాఠశాల విద్యలో ఉండే సంవత్సరాలు	ప్రపంచ మానవ అభివృద్ధి సూచికలో స్థానం
శ్రీలంక	5170	75.1	9.3	12.7	92
భారతదేశం	3285	65.8	4.4	10.7	136
పాకిస్తాన్	2566	65.7	4.9	7.3	146
మయన్మార్	1817	65.7	3.9	9.4	149
బంగ్లాదేశ్	1785	69.2	4.8	8.1	146
నేపాల్	1137	69.1	3.2	8.9	157

పట్టిక 5 కు సంబంధించిన వివరాలు:

1. మానవ అభివృద్ధి సూచికలో మొత్తం 177 దేశాలలో అయా దేశాల స్థానాన్ని చూస్తుంది.
2. వ్యక్తి జీవించే సగటు కాలం: జన్మించిననాటి నుండి ఒక వ్యక్తి యొక్క సగటు జీవిత కాలాన్ని సూచిస్తుంది.
3. సగటున బడిలో గడిపిన కాలం : 25 సంవత్సరాల వయసు దాటిన వాళ్ళు సగటున బడిలో గడిపిన సంవత్సరాలు.
4. పాఠశాల విద్యలో ఉండే సంవత్సరాలు : ప్రస్తుతం బడిలో పిల్లలు చేరుకున్నదాన్నిబట్టి బడి ఈదు పిల్లలు బడిలో ఎన్ని సంవత్సరాలు ఉంటారన్న అంచనా.
5. తలసరి ఆదాయం : పోల్చడానికి వీలుగా అన్నిదేశాల తలసరి ఆదాయాన్ని అమెరికన్ డాలర్లలో లెక్కిస్తారు. ప్రతి దేశంలోనూ ప్రతి డాలరు అంతే మొత్తంలో సరుకులు, సేవలు కొనగలిగేలా దీనిని లెక్కిస్తారు.



32 B వ ప్రశ్న

మొదటి ప్రపంచ యుద్ధం ప్రారంభం, జూలై 28	● 1914
రష్యా విప్లవం	● 1917
మొదటి ప్రపంచ యుద్ధం ముగింపు	● 1918
వర్సయిల్స్ ఒప్పందం	● 1919
నానాజాతి సమితి ఏర్పాటు	● 1919
జర్మనీలో హిట్లర్ ప్రాభవం	● 1933
రెండవ ప్రపంచ యుద్ధం ఆరంభం	● 1939
రష్యాపై జర్మన్ దండెత్తటం	● 1941
అక్యూరాజ్యసమితి ఏర్పాటు	● 1945
రెండవ ప్రపంచ యుద్ధం ముగింపు, ఆగస్టు	● 1945

27 వ ప్రశ్న



30 A వ ప్రశ్న

మరికొన్ని వివరాలను చూద్దాం.

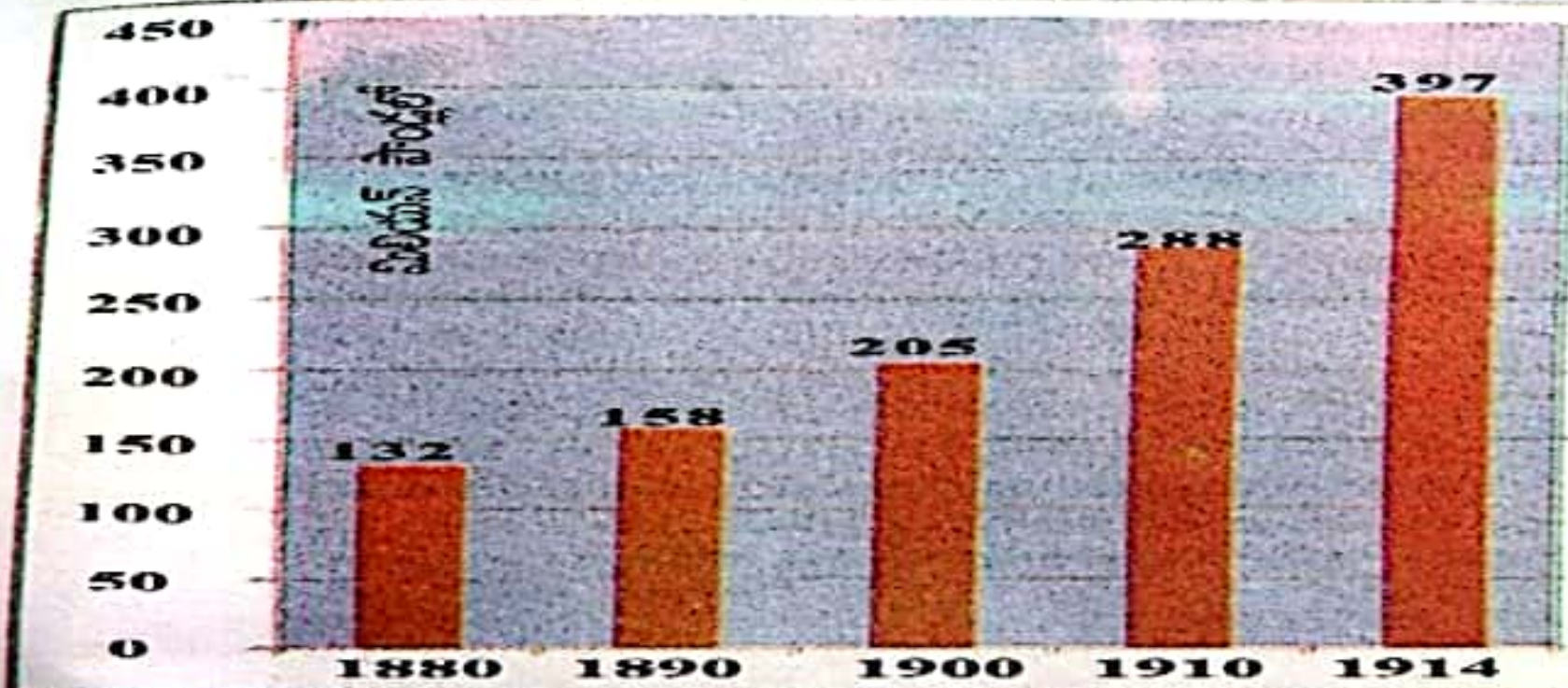
పట్టిక 4 : కొన్ని రాష్ట్రాలకు సంబంధించి కొన్ని కులనాశ్శక గణాంకాలు

రాష్ట్రం	శిశుమరణాలు వెయ్యికి (2006)	అక్షరాస్యత శాతం (2011)	నికర హాజరు శాతం (2006)
పంజాబ్	42	77	76
హిమాచల్ ప్రదేశ్	36	84	90
బీహార్	62	64	56

పట్టిక 4లో పేర్కొన్న అంశాలకు వివరాలు: శిశుమరణాలు: సజీవంగా పుట్టిన ప్రతి వెయ్యిమంది పిల్లల్లో సంవత్సరం పూర్తి అయ్యేసరికి ఎంతమంది చనిపోతున్నారో తెలియచేసే సంఖ్య.
 అక్షరాస్యత శాతం: ఏడు సంవత్సరాలు, అంతకు మించిన వయస్సు వాళ్లలో అక్షరాస్యతను తెలియచేస్తుంది.
 నికర హాజరు శాతం: 6-17 సంవత్సరాల వయస్సు పిల్లల్లో ఐదేళ్ళ హాజరవుతున్న పిల్లల శాతం.

30 B వ ప్రశ్న


గ్రాఫ్ : 2 ఆయుధ పోటీ



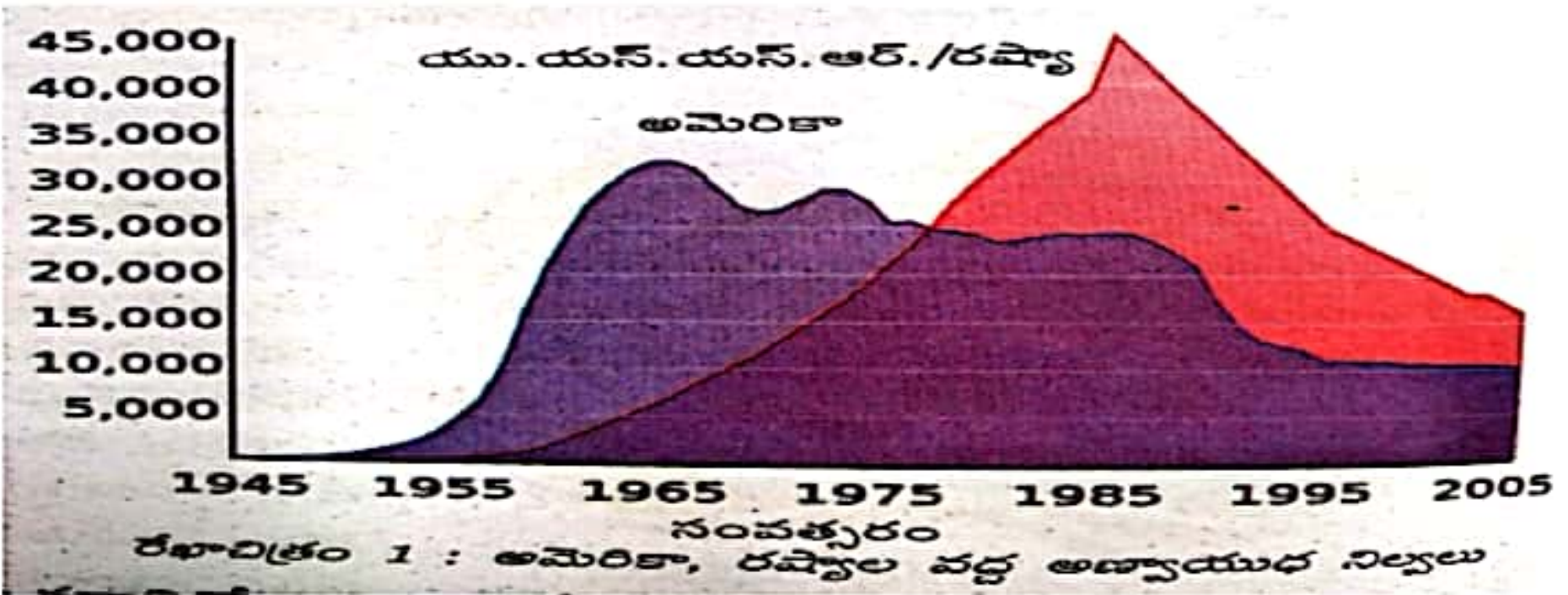
1880-1914 మధ్య ప్రధాన శక్తులైన బర్మిని, ఆస్ట్రేలియా-హాంగరీ ట్రిటన్, రష్యా, ఇటలీ, ఫ్రాన్సుల సైనిక ఖర్చు (మూలం: బ్రిష్టు ప్రపంచ చరిత్ర అట్లాసు, లండన్, 1978)

సాంఘిక శాస్త్రము - ప్రశ్నలకు సంబంధించిన పటాలు, గ్రాఫ్స్, మ్యాప్ లు

13 వ ప్రశ్న



20 వ ప్రశ్న



23 వ ప్రశ్న



SRIKAKULAM

Revision test - 2

SECTION - I

Key prepared
by

N. Bhuvaneshwari
ZPHS MS Palli

- 1) పి) - జీవనయలుకు నిలయం ఈ క్రేటి.
- 2) పి) - నర్కణ బహువో - కర్నాటక
- 3) క్రైణి - ఈజిప్టు
- 4) సింధు నది
- 5) హర్షానా, మధ్యప్రదేశ్, డిస్సా, కర్నాటక.
- 6) అక్షరవర్ణకృత రంగం
- 7) Do or Die
- 8) గ్రాన్విస్ ఉద్యమం.
- 9) పాలస్తీనా
- 10) పి) UNICEF - వాషింగ్టన్ సరికాని జఢ.
- 11) డాక్టర్. మార్టిన్ లూథర్ కింగ్ జూనియర్.
- 12) Strategic Arms Limitation Talks.
(అక్షరవర్ణకృత క్రియధాల పరిమితి అక్షరవర్ణకృతం)

SECTION - II

- 13) 1. ఇంకుడు గుఢల నిర్మాణం
2. వనీకరణ

14)

a) 1961 లి 5.9 నవంబరు

b) దునులు తక్కువ ముది పిల్లలు కాలానుక్రమం.

15)

పాఠశాలలకు దున్ను సరిహద్దు గా బ్రహ్మపుత్ర లియికుండ్.

భారతదేశానికి దున్ను సరిహద్దు గా ఉన్న పాఠశాలను "కృష్ణాంధర్" అంటారు. Ex:- పాట్కాయ కొండలు, నుగా, మగిపురి, ఇస్ మెలు

16)

1. ఆవసరమైన మౌలిక సదుపాయాలు కల్పించ బడుటం తియ.

2. తియ్యత్, నీళ్లు, మెత్త సదుపాయాలు వేర అల పరిస్థితి మరీ అయ్యమగా ఉండుట Ex:- కల్యాణం అయ్యవల

17)

ఆఫీసు ఇండుం లి ఘడ్ దేశాల అల విభేదాలు మరత ఆఫీసు అభివృద్ధి కృషి తియాలనేడ ఇయ్యార ఆఫీసువాడు

18)

- 1. వినాదాల వేగవంత విచారణ
- 2. ఉచిత న్యాయ సేవలు
- 3. కక్కిదారులు నేరుగా జడ్జి లి సంభాషించవచ్చు.

19)

- ముస్సోలీన్ స్థాపన - 1906
- క్రిస్టియాలయ జారం - 1942
- అర్జున్ కార్య-వరణ - 1946
- గాంధీ జీవరణం - 1948

20)

- i) నెరులి (పాఠశాల) నివసిస్తు నె తగ - యిరుజా
- ii) చమురు [ముడి చమురు]

- 21.
1. లాక్ డౌన్ విధించడం, మార్కెట్లు, సెక్యూరిటీ కు బాధించడం
 2. (కామిక్ రైజ్స్ వలన కూలిల తీవ్ర ప్రభంభం
 3. నామమాత్రం కుబాటి పాటించాలి ప్రజల్లో అవగాహన కల్పించడం
 4. ఇన్ఫోమేషన్ తరకు అవగాహన కల్పించడం ప్రభంభం
 5. ఎక్కువగా (విదేశీ మూలధనం కలిపి స్థానిక బాధితుల యొక్క ప్రాధాన్యత, దీనిని పరిష్కరించాలి పరిష్కరించాలి

- 22)
- i) గుడిసెలు, అలాగే ఇళ్లు
 - ii) పేదవారు
 - iii) 25%
 - iv) ఉన్నత కులాలు

- 23)
- i) జాన్
 - ii) పటం యొక్క ప్రయోజనం

- 24)
- i) 2013-14 భారత ప్రభుత్వం జారీ చేసిన తీర్మానం ప్రకారం ఈ క్రింది విధంగా ఉన్న కుటుంబాలిని ప్రోత్సహించి సబ్సిడీ ధరకు 5 కిలోల తీవ్ర ప్రభంభం అందించాలి.
 - ii) భారతదేశంలో తీవ్ర ప్రభంభం అందించాలి ఉండడానికి ప్రజలకు ప్రాధాన్యత ఉండాలి అంటే ముఖ్యమంత్రి.
 - iii) తీవ్ర ప్రభంభం ప్రకారం గ్రామీణ ప్రాంతాలలో తీవ్ర ప్రభంభం గా 75 కిలోలకి, పట్టణ ప్రాంతాలలో 50 కిలోలకి ప్రజలకు సబ్సిడీ ప్రయోజనం ఉంది తీవ్ర ప్రభంభం అందించాలి తీవ్ర ప్రభంభం ఉంది.
 - iv) ప్రజలకు ప్రాధాన్యత అందించడం అంటే ప్రజల ప్రయోజనం అందించాలి.

25)

విక-కేంద్ర

సమాధి

1) కేంద్ర ప్రభుత్వాలకు - కేంద్ర - రాష్ట్రాల మధ్య
అధికారం - అధికారాల పంపిణీ

2) వికాసకర్మ స్వయం ప్రయత్న - కుటుంబ స్వయం ప్రయత్న

3) వికాసకర్మ స్వయం సూత్రాలు → కుటుంబ స్వయం సూత్రాలు
Ex:- మొరీకా

26)

1. పొరుగు దేశాలకు అవసరమైన సమయంలో సహాయం చేయాలి

2) ఇతర దేశాల వారి వివాదాలు ఎదురైనప్పుడు కార్యకర్తలను
పరిష్కారాలు పరిష్కరించుకొనివాలి.

3) అంతర్గత అభివృద్ధిని జాతీయం చేసుకోవాలి

4) సాంస్కృతిక ఏకత్వం గల దేశాల మధ్య
సౌహార్ద భావాలను పెంపొందించాలి.

5) పొరుగు దేశాల అభివృద్ధిలకు అడ్డంకులు సృష్టించాలి.

27)

1) 1955 నుండి 1975 వరకు మొరీకా అమలు చేయబడినది 2005 వరకు
(కమ్యూనిస్టులకు అడ్డంకు వచ్చింది. → మొరీకా

2) i) 1985 - 1991 మధ్య అభివృద్ధి కార్యక్రమాలను నిషేధించి నిర్బంధించారు

ii) జాతీయ అభివృద్ధి కమిషన్ మొత్తం నిధులను మరల
అడ్డంకులు పెట్టి మరల నిధులను పంపించడం ఈ కారణం
దేశాలకు అడ్డంకు. ఇదే సమయంలో అభివృద్ధి కార్యక్రమాలను నిషేధించారు

iii) ఫలితంగా ఈ కారణం దేశాల సంప్రదింపులు జరిపి
అభివృద్ధిని నిర్బంధించారు కారణం వచ్చింది.

28) నేను ఏకాభిప్రాయం వ్యక్తం చేసిన ప్రశ్నలకు ఎల్లప్పుడూ

ప్రభుత్వం తయారయిందిగా ఉండాలి.

* ఒకే సందర్భాలలో వేరొకటి జరగకుండా పొరపాటుకరంగా ఉండేలా ప్రభుత్వం డిమాండ్లు కలిపి కున్న సమాధానం ఇవ్వాలి.

*

SECTION - IV

29) జుబ్బితోరమైనం

ఉక్కిమ తోరమైనం

1. జుబ్బితోరమైనం కు బంగళా జుబ్బితోరమైనం కి మధ్య వేరొకటి ఉంది

1. ఉక్కిమ కనుమలకు తోరమైనం (ఇదికి మధ్య వేరొకటి ఉంది.

2. జుబ్బితోరమైనం లో సారమైనం డెల్టా కలవు.

2. డెల్టా తోరమైనం.

3. వడల్పం ఎక్కువ

3. వడల్పం తక్కువ

4. ఉత్తర తోరమైనం (మిడియా) సూర్య తోరమైనం (AP) క్విరమండల్ తోరమైనం (TN) స్టానికంగా వేరుగా వేరుగా ఉంటాయి.

4. కెరకన్ తోరమైనం (మిడియా, గిట్) కనరా తోరమైనం (కూర్క) మిలబార్ తోరమైనం (కేరక) వేరుగా వేరుగా ఉంటాయి.

5. -అణగారిన సరస్సు (2013)
AP లోని కౌన్సిల్లర్ల సరస్సు,
ప్రజాశాసన సరస్సులు ఈ
తొరమైనానంది కల్యా.

5. పరస్పర తోపు
"లాసాన్స్" కల్యా.

6. డెడికా లోని నువనది
నుండి మొదటి రమీషనాడు
లోని ఇవరీ డెల్టా వరకు
వీసరించ ఈది.

6. డాల్ బ్రిడ్జ్ కం వద్ద
మొదటి కన్యకుమారి
వరకు వీసరించబడింది.

7. కారపండుల స్ట్రానిక్
అనుకూలమైనది

7. నగదు / వ్యాపార
పండులకు అనువైనది

29) (B)

* కేరళ 92%. అక్షరాస్యత రంగంగా ఉపాధి విండుతున్నది.
* ఇది ఈ రంగంగా పనిచేయడానికి ఇష్టపడుతుంది.
అందుకుంటే,

- 1) ఉత్పాదక భద్రత ఉండదు,
- 2) ఉపాధి పరమలు ఉండవు,
- 3) తక్కువ వేతనం,
- 4) నష్టానికి పని గంటల స్థితి ఉండదు
- 5) స్థిర నెలవూలు ఉండవు /
- 6) అసాధారణ నెలవూలు ఉండవు.

30)

i) దేశం మొత్తం ఆదాయాన్ని దేశ జనాభాలో భాగస్థి వచ్చే ఆదాయాన్ని రహదారి ఆదాయం అంటారు. దేశాలను వర్గీకరించడానికి రిపబ్లికన్ యునైటెడ్ స్టేట్స్ నివేదికలో ఈ ప్రామాణి కాన్ని "డమోరకన్ వాల్యూమ్" లో వర్ణిస్తారు.

ii) ట్రైక్లి కేటింగ్ సగటుకాలం

iii) పాకిస్తాన్ & బంగ్లాదేశ్

iv) పాకిస్తాన్ & మయన్మార్

31) (b)

i) 7 సంవత్సరాల వయస్సు కల్గి ఉన్న అక్షరాస్యత, రాయడం కల్గి ఉండే వారిని డెక్షరాస్యులు అంటారు.

ii) విమాన ప్రదర్శన

iii) ఆంధ్ర ప్రదేశ్ లోని విద్యుత్తు ఎక్కువగా ఇచ్చిపెట్టడం ద్వారా విద్యుత్తు సరఫరా 2,005 లు. ఇచ్చిపెట్టడం.

* అంతర్జాతీయ కనీస సమాచారాలు ఉండేలా చేయాలి. మరియు

* ఆంధ్రప్రదేశ్ లోని అక్షరాస్యత ఎక్కువ ప్రాధాన్యత ఇస్తుంది. అంతర్జాతీయ లక్ష్య వివరాల తీసుకోవడం.

* విదేశాల విద్యుత్తు 10 సం. కంటే ఎక్కువ అంటే విమాన ప్రదర్శన విధులు నిర్వహించాలి.

(iv) విమాన ప్రదర్శన

31)

* (ప్రముఖ చరిత్రకారుడైన ఎరిక్ హార్బోజాను 20 వ శతాబ్దాన్ని గురించి " చరిత్ర సుపరనాల లయగమం " గా పేరొందినాడు.

1. పరిశ్రమిక పట్టణ బడి దారి విధానం కెనినీ లయార్డ్ దేశాలకే పరిమితం అని ప్రపంచమంతటా దేశాల వలస సామ్రాజ్యాలు ఏర్పాటు చేసాయి.
2. ఫలితంగా లయార్డ్ దేశాల మధ్య పొలిటి విర్బడి పగ, ప్రభుత్వాల ఏర్పడ్డాయి.
3. ప్రపంచానికి ఇతర ప్రజలపై ధ్వేషం, అపదలు తీసి తేలికాదం అని ఛాపింగం భావ జాలం, చరిత్ర రూపం తాల్చింది.
4. రెండోకి దక్షిణాఫ్రికా స్ట్రావి, సుగలు జిబ్బెరాలం తోటంగా పరిగాయ.
5. విశ్వాన శాస్త్రం క్రాఫ్ కిబురాలను తంబెకెసి పరమార్థం జీవ రహస్యాలని తేలింది.
6. ప్రపంచ జనాభా అని సగంగా ఉన్న మహిళలకు పాశ్చాత్య దేశాలని దీటుతుకు లభించింది.
7. మరికొన్ని దేశాలని ప్రజాస్వామ్య లయోతమైన ప్రభుత్వాల కోసం కిబురాల పరిగాయ.
8. ఇదే శతాబ్దం అని కెండు ప్రపంచ యుద్ధాలు జరిగి తంబెకెసి ప్రాచీనత్వం, దీన న్యాయం జరిగింది.
9. 1929 అని చరిత్ర క్షితికమాంత్వం సుంభయిచి క్షితిక త్రవస్థ చేస్తూ జీవించి తుంది. మొదలగా జరగాలు.

బ్ర) ఖరద రాజ్యాలను గాని పోతక సూత్రాలు :-

సభ్యులైన కైశవానంద ఖరదీ కైసుగా వేర్వేరు ఇన్నా వేళ మనకు కౌశిక్ వేదాధిక సూత్రాలపై జగదాధి కురువదని వాదించింది. యి వేదాధిక సూత్రాలను విషయంగా నిర్ణయ ముద్రాలగా భిన్నా భిక్షువారు కున్నట్లు కిది ఈ క్రింది వాటిపై విశ్వాస క్రమం కుదిరింది.

1. (వశుధర్వ నిరతి) :- కైదు, రాజ్యాలని (వశుధర్వ నిరతి) మరమ్మంటిని ప్రదర్శించుటగా ఉండాలని రాజ్యాలను సూచించింది.

2. సమాఖ్యలక్షణం :- కైదు, రాజ్య (వశుధర్వల) మత్తు ఉక్కార యాది.

3. ఉన్నతమైన రాజ్యాలను :- దేశంగా కైదు ఉడి (వశుధర్వ) మైన - యక్షులుగా ముఖ్యమైనది ఖరద రాజ్యాలను చర్చించి.

4. సర్వసత్తాధికారం :- యె రంగి, ఖరద విషయాలను ఖరద - దేశం సర్వసత్తాధికారం కలిగి ఉంది.

5. వ్యాపారం :- రాజ్యాల (వశుధర్వ) రాజకీయ, జడ్జి, నిర్మాణ - నేని మూడు విధాలుగాను సూచించింది.

6. సర్వమూల్యం ఇది ఇతర, వేద, (వశుధర్వ) మైన - గవయత్ర, సమానకర్మ, స్వీకృత, శాస్త్రాధ్యయనం మొ॥ కూడా రాజ్యాల పోతక సూత్రాలుగా చెప్పవచ్చు.

32)

i) జార్ నికొలన్ - II

ii) 1939 సెప్టెంబర్ 1 న డాల్ఫింగ్ రేవును జర్మనీకి యుగంపటానికి పోయే స్థానం నీడకరించటం కెండు ఏపంపయ్యానికి తప్పని కారణం.

iii) ఉద్దోషిల్సన్

iv) పోలిషియా, నాగసాకి

32) b) బియ్యం పోలిక :-

* 1880 - 1914 మధ్య (ప్రధాన శక్తులైన జర్మనీ, బ్రిటిష్ - హంగేరీ, జపాన్, రష్యా, ఇటలీ, (ప్రాన్స్) లు సైనిక ఖర్చు గూర్చి తేలియి చేసుంది.

* జర్మనీ, బ్రిటిష్ - హంగేరీ, ఇటలీ ఒకతెప్పు, జపాన్, రష్యా, (ప్రాన్స్) లు మరొకతెప్పు ఉండి బియ్యం పోలిక కి పాల్పడ్డాయి.

* 1880 లో 132 మిలియన్ పౌండు ఉండగా 1914 లో మొదటి ప్రపంచ యుద్ధం సమయానికి 397 మిలియన్ పౌండు కు పెరిగింది.

* దీనికి కారణ భద్రతకు సైనిక శక్తి మొదటి మార్గమని సమాసాల పరిష్కారానికి యుద్ధమే సరైన విధానమని నమ్మడం ఆ విధంగా 1880 నుండి 1914 నాటికి సైనిక ఖర్చు 300 శాతానికి పైగా పెరిగింది.

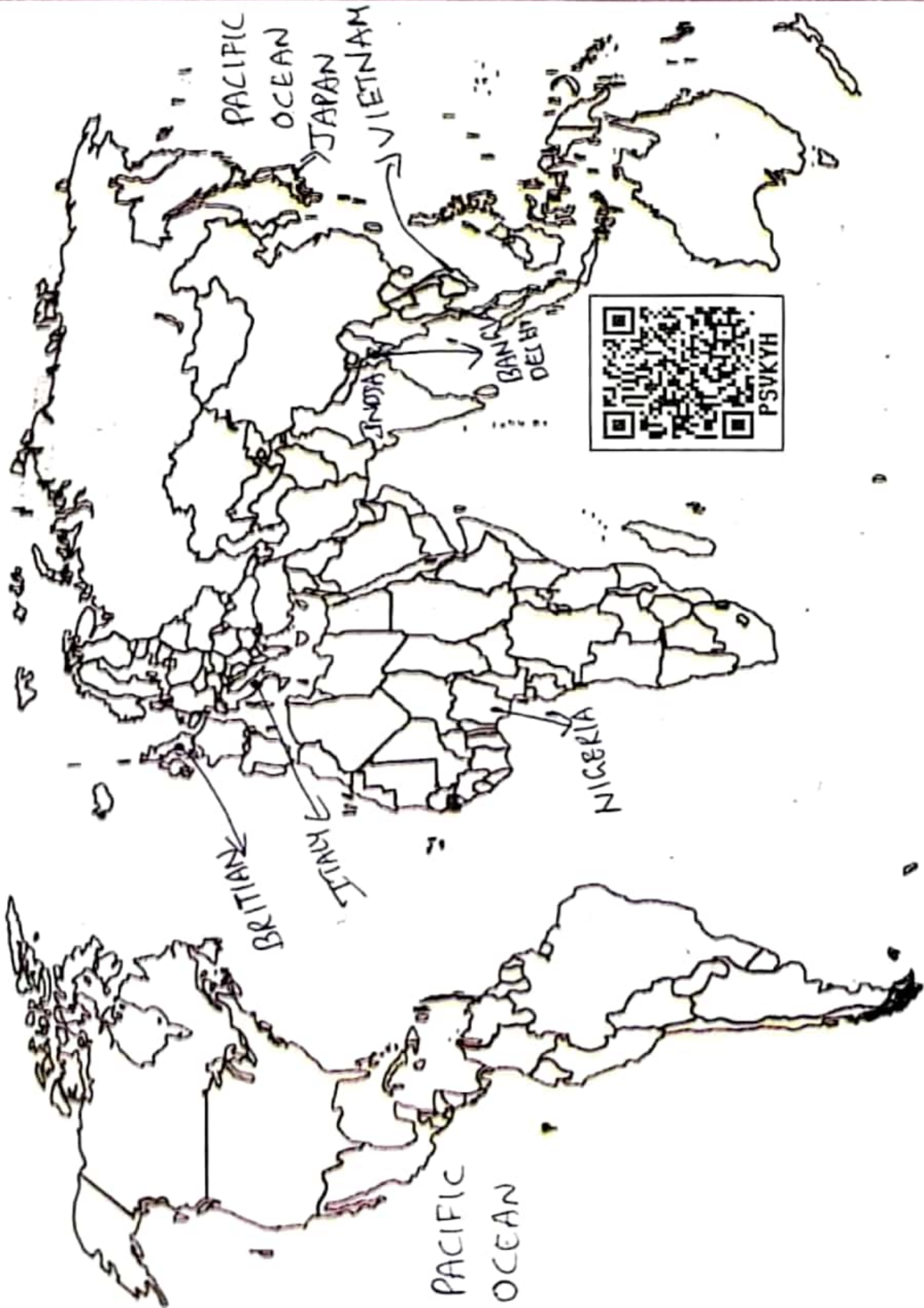
* ఈ దేశాలు వర్తక సంస్థానాని కాక సైనిక సైన్యానికే యింకాదు.

33 answers (A)

6. Indian Outline Map



5. World Outline Map



33 answer (b)